

# 2021 年内蒙古自治区呼和浩特市公务员省 考行政职业能力测验真题(含答案)

学校:\_\_\_\_\_ 班级:\_\_\_\_\_ 姓名:\_\_\_\_\_ 考号:\_\_\_\_\_

## 一、图形推理(6题)

1. 从所给的四个选项中, 选择最合适的一个填入问号处, 使之呈现一定的规律性:

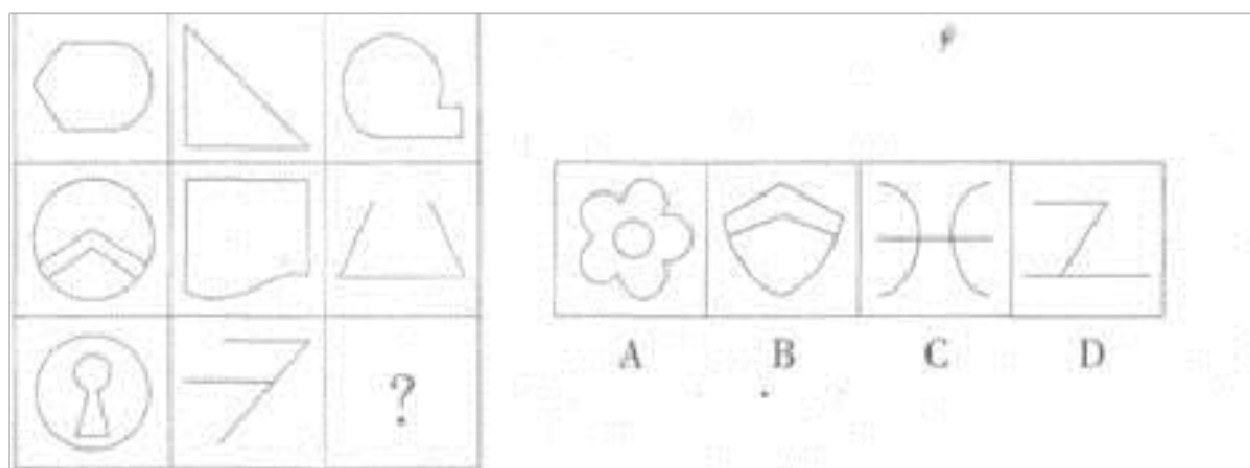


2.

把下面的六个图形分为两类, 使每一类图形都有各自的共同特征和规律, 分类正确的一项是:

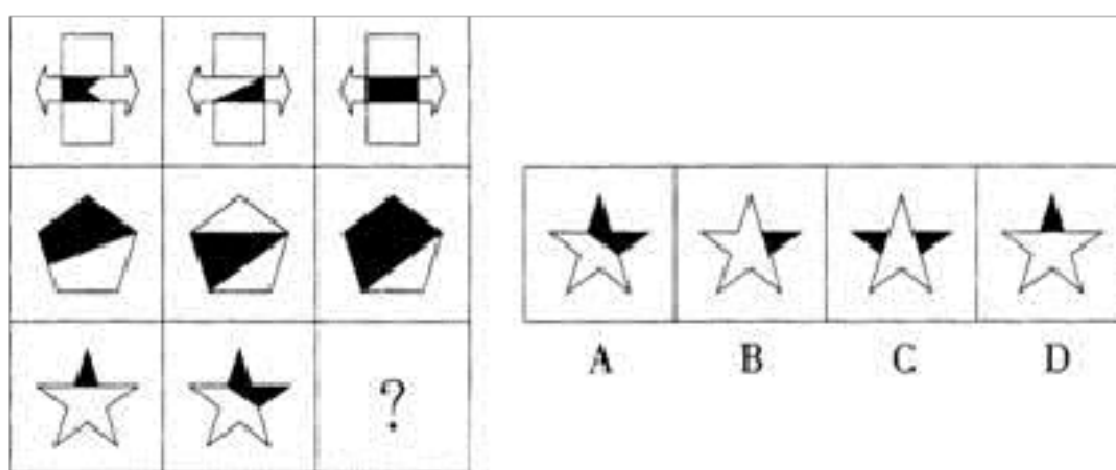
A.①②③, ④⑤⑥ B.①②⑥, ③④⑤ C.①③⑤, ②④⑥ D.①④⑤, ②③⑥

3. 从所给的四个选项中, 选择最合适的一个填入问号处, 使之呈现一定的规律性:

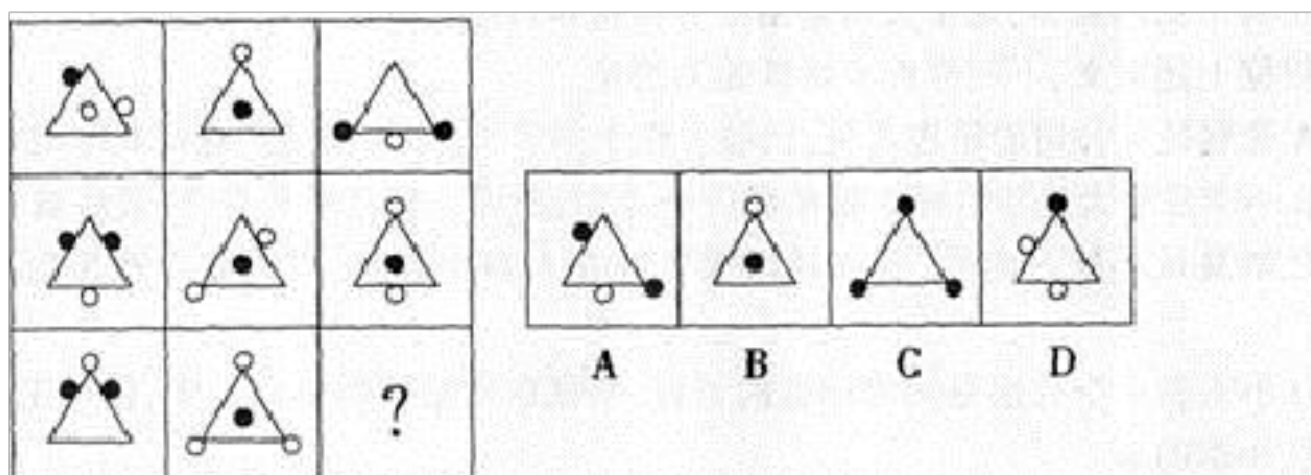


- A. ①②③, ④⑤⑥ B. ①④⑥, ②③⑤ C. ①③④, ②⑤⑥ D. ①③⑥, ②④⑤

4. 从所给的四个选项中, 选择最合适的一个填入问号处, 使之呈现一定的规律性:



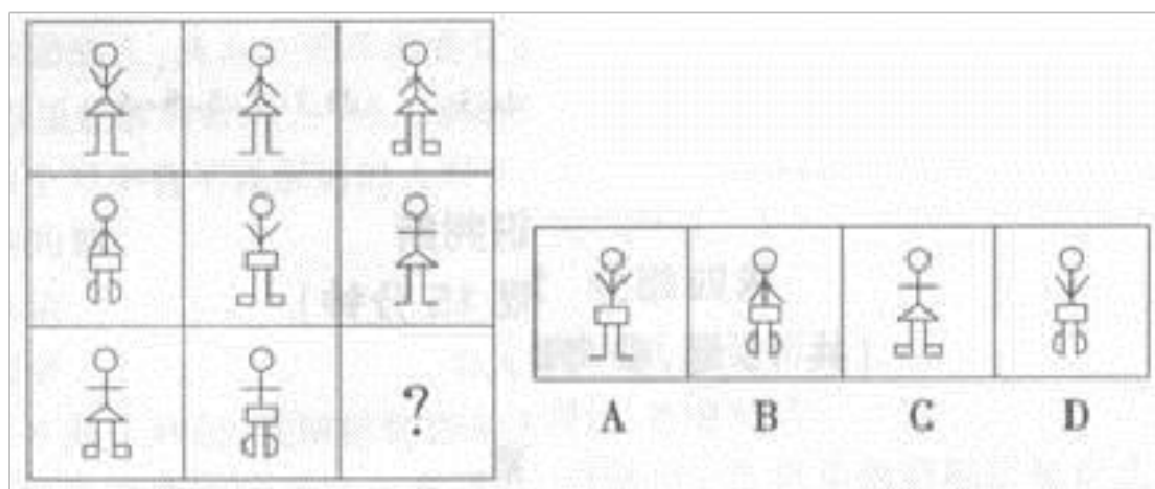
5. 从所给的四个选项中, 选择最合适的一个填入问号处, 使之呈现一定的规律性:



A.

- B.
- C.
- D.
- E.

6. 从所给的四个选项中，选择最合适的一个填入问号处，使之呈现一定的规律性：



## 二、定义判断(10题)

7.

习得性无助是指人或动物经历了某种学习后，面对反复出现的不好的事件，感到难以控制从而学会放弃和感到无望的现象。下列选项中，不属于习得性无助的是：

- A.小明每次考试都不及格，于是产生了厌学情绪，上课开始不喜欢听讲，经常走神，有时还会捣乱课堂纪律
- B.小王每次都想把烟戒掉，但是每次总在关键时候又开始抽烟，因此他认为自己自制力太差。永远也不可能戒烟了
- C.由于没有完成公司的任务，小李认为自己肯定会被开除，因此感到非常的绝望

D.把小狗关在笼里，每次铃声一响就电击它，小狗无法躲避电击。经过很多次以后，当把笼子的门打开，铃声再响起时，小狗也不会跑出笼子，而是等待电击

8.客制化是一种个性化的服务，针对顾客的需求，对一个标准的产品进行改变、用新的部件替换标准的部件，或是在一个标准产品中加入特殊的功能，给顾客提供一个更完整的产品组合。根据上述定义，下列不属于客制化的是：

- A.购买生日蛋糕时可以要求店家用奶油标注贺词
- B.戴尔公司的台式机配置可自行订制，下单后才生产
- C.中国移动推出一款内置其应用商店软件的定制手机
- D.山寨手机根据调查意见模仿名牌手机外观并加大喇叭音量

9.强化是指通过某一事物增强某种行为的过程。只要在某种行为之后，这种行为本身或者由它带来的后果可以刺激该行为的再次出现，就属于强化物。大部分强化物与行为之间具有明确的对应关系。还有一种特殊情况，强化物与行为之间的关系是非理性的，这种强化行为被称为“非相倚强化”。

根据上述定义，下列不属于“非相倚强化”的是：

- A.某棒球运动员在打本垒前把帽子调成某种方式，在他再度想打本垒时，又把帽子调成那种方式
- B.一位穿着某种质料的服装的歌唱家得到观众喝彩后，再度演出时也往

往会穿这种质料的服装

C.以击鼓方式对待 Et 食的土著人，以为是他的击鼓声才使太阳重新变圆，因此在下次 Et 食时他很有可能再度击鼓

D.母亲很忙时，可能只会在孩子提高嗓门叫喊时才作出反应，久而久之。孩子有事时习惯用大嗓门来叫喊母亲

10.水土流失是指在水力、重力、风力等外力作用下，水土资源和土地生产力遭受的破坏和损失。包括土地表层侵蚀和水的损失，亦称水土损失。水土流失是不利的自然条件与人类不合理的经济活动互相交织作用产生的。根据以上定义。下列不存在水土流失的是( )

- A.某地在一次暴雨后发生泥石流
- B.某些地区在强风作用下逐步沙漠化
- C.岩石经过长期的风化变成沙砾
- D.黄河将高原大量的泥沙挟带至下游

11.

绿色消费是从满足生态需要以“绿色、自然、和谐、健康”为宗旨的、有益于人类健康和环境发展的一种消费方式。使用以下六大类商品的则被视为非绿色消费：①危害消费者和他人健康的商品；②在生产、使用和丢弃时造成大量资源消耗的商品；③因过度包装，超过商品本身价值或过短的生命期而造成不必要消费的商品；④使用出自稀有动物或自然资源的商品；⑤含有对动物残酷或不必要的剥夺而生产的商品；⑥对其他

发展中国家有不利影响的商品。根据上述定义，下列属于绿色消费的是：

- A.老李在装修新居时不惜花费巨资购买环保材料，朋友们都说他把家里装修得富丽堂皇
- B.冬季时，北方的超市里会供应从南方运来的新鲜的有机水果和蔬菜供人们消费
- C.小王花费大量时间在自家的菜园里耕种，并只吃自家菜园生长的蔬菜
- D.张女士为孩子购买了一种用天然木材制成的木马，避免化学合成材料影响孩子健康

12. 加害给付是指因债务人的履行行为有瑕疵，使债权人的其他利益受到损害。在加害给付中，债权人受到的损害，可能是财产利益，也可能是人身利益。

根据上述定义，下列不属于加害给付的是：

- A.张某交付给李某的家畜患有传染病，致使李某的其他家畜受传染而死亡
- B.因孙某交付的煤气质量不合格，致使赵某在做饭时发生爆炸，受了重伤
- C.李某送给王某一只小猫，致使王某后来被小猫抓伤
- D.吴某卖给赵某的一辆汽车由于刹车有问题，致使赵某出了车祸

13.裸官，是指配偶已移居国（境）外的或者没有配偶，子女均已移居国（境）外的国家工作人员。

根据上述定义。下列属于裸官的是：

- A.为了让孩子享受到更好的教育，王局长的几个孩子都在美国留学
- B.M市市委书记的妻子及两个子女目前都定居美国并有了稳定的工作
- C.某个体企业老板积累了大量的财富，其妻子和孩子都已经移居加拿大
- D.某国家干部退休后，携全家到欧洲旅游，后决定在瑞士定居

14.

交通肇事罪是指违反交通运输管理法规，因而发生重大事故致人重伤、死亡或者使公私财产遭受重大损失的行为。本罪在主观方面表现为过失，包括疏忽大意的过失和过于自信的过失。根据上述定义，下列符合交通肇事罪的是：

- A.机动车驾驶员甲超速行驶，遇红灯时来不及刹车撞上前面正常行驶的一辆汽车，致使该车驾驶员王某牙齿撞伤流血
- B.公交司机乙对社会怀有仇恨，一日驾驶满载乘客的公交车闯红灯，冲向路边正在过马路的人群。致使多人重伤、死亡
- C.机动车驾驶员丙驾驶车辆在高速公路上行驶时，方向盘忽然失灵，撞上旁边的轿车，致使轿车撞向公路围栏，造成轿车司机和乘客共三人死亡
- D.某校车驾驶员丁某驾驶超载校车，行驶途中遇到一辆超速行驶的卡车，在避让中校车侧翻。致使多名学生重伤

15. 补偿性工资差距：指不同工作的非货币特性所引起的工资差别。根据上述定义。下列选项中，与补偿性工资无关的是：

- A.某市电力系统抄表工的年收入高于该市人均工资，高工资用于补偿员工在工作过程中消耗的体力与脑力劳动
- B.煤矿工人得到的工资高于其他有相似受教育水平的工人，高工资是用来补偿采煤的枯燥和危险性，及煤矿工人所面临的长期健康问题
- C.教授的工资低于受教育时间大致相同的律师和医生，低工资可以由工作所带来的学术与个人满足而得到补偿
- D.工厂中的夜班工人的工资高于白班工人，高工资用于补偿他们不得不在夜里工作而在白天睡觉对身体所带来的不利影响

16.所谓利他行为指的是有利于其他个体存活和生殖而不利于自身存活和生殖的行为。这种行为在自然界普遍存在，可用广义适合度和亲缘选择加以解释。

根据上述定义，以下行为不属于利他行为的是（ ）。

- A.当狮子或猎豹接近时，最早发现危险的汤姆逊瞪羚往往会放弃第一时间逃生的机会，在原地不停地跳跃向同伴们发出警告，却使自己暴露在捕食者面前
- B.当幼鸟遭受攻击时，许多鸟类父母都会挺身而出，用伪装受伤的方法把猛禽引向自己
- C.在别人遭受歹徒袭击的时候挺身而出，不惜付出生命的代价
- D.遇到免费献血车就一定会主动献血，觉得这样可以帮助到其他需要帮助的人



### 三、常识判断(10题)

17.在日常生活和生产过程中化学有着重要的应用,下列有关说法正确的是:

- A.洪涝、地震灾区灾后常用石灰对环境进行消毒,是利用石灰可使蛋白质变性的性质
- B.食品添加剂对人体均有益,因此在添加时无需对其用量进行严格控制
- C.生活中常见的石英玻璃、普通玻璃、钢化玻璃都属于硅酸盐产品
- D.根据分散系的稳定性大小,将分散系分为溶液、胶体和浊液

18. 下列对 CPI(居民消费价格指数)的认识正确的是 ( )。

- A.CPI 反映一定时期内居民所购生活消费品的价格程度的绝对数
- B.CPI 用来分析消费品非零售对居民生活费用支出的影响程度
- C.CPI 反映居民所购生活消费品的价值和服务项目价格变动趋势
- D.CPI 是采用指数商品价格加权平均的方法算出来的

19.

人民政协的主要职能不包括 ( )。

- A.统一战线 B.政治协商 C.民主监督 D.参政议政

20.二、下列各题均有四个选项,正确选项有两个或两个以上,请将正确答案选出,少选、多选均不得分。

第 90 题 蓝蓝的天空中的蓝色形成的原因是 ( )。

- A. 大气对太阳辐射的吸收作用
- B. 大气对太阳辐射的散射作用
- C. 大气对太阳辐射的反射作用
- D. 大气对地面辐射的吸收作用

但因欠缺民事法律行为有效条件而不具有

法律约束力的行为。以下属于无效民事行为的是（ ）。

- A. 9岁的小学生将家中的数码相机送给好朋友
- B. 11岁的小学生在商场购买数码相机
- C. 16岁的中学生将家中的数码相机低价卖给他人
- D. 20岁的大学生借款购买数码相机

22. 卖给消费者的第一种转基因食物是（ ）。

- A. 玉米
- B. 大豆
- C. 西红柿
- D. 水稻

23. 题 依据《行政处罚法》规定,限制人身自由的行政处罚应由( )。

- A. 审判机关行使
- B. 检查机关行使
- C. 公安机关行使
- D. 监察机关行使

24.第 97 题 与复印机、激光打印机一起构成现代化光电子印刷技术,从而彻底取代了铅字手工排版的是( )。

- A. 打字机
- B. 计算机
- C. 激光照排机
- D. 激光印刷机

25. 当海面上空气各层的密度有较大差异时,远处的光线通过密度不同

体的影像，这一现

象被称为海市蜃楼。海市蜃楼最有可能发生的季节是（ ）。

A.春季 B.夏季 C.秋季 D.冬季

26. 下列关于医学技术及其应用原理的说法不正确的是（ ）。

A.光导纤维胃镜是光纤在医学上的应用之一

B.CT 扫描是基于不同角度的 X 射线影像合成平面图像这一原理

C.B 超诊断应用的是超声的物理特性

D.心电图应用的是生物电的变化

(10题)

27.商场促销前先将商品提价 20%，再实行“买 400 送 200”的促销活动（200 元为购物券，使用购物券时不循环赠送）。问在促销期间，商品的实际价格是不提价前商品原价格的几折？

A.7 折 B.8 折 C.9 折 D.以上都不对

28.一件衣服，第一天按原价出售，没人来买，第二天降价 20% 出售，仍无人问津，第三天再降价 24 元，终于售出。已知售出价格恰是原价的 56%，这件衣服还盈利 20 元，那么衣服的成本为（）

A.28 元 B.32 元 C.36 元 D.40 元

29. 10 个连续偶数的和是以 1 开始的 10 个连续奇数和的 2.5 倍，其中最大的偶数是多少？

A.34 B.38 C.40 D.42

以上内容仅为本文档的试下载部分，为可阅读页数的一半内容。如要下载或阅读全文，请访问：<https://d.book118.com/807200104166006052>