

# 2023 年天津市高等院校“高职升本科”招生统一考试

## 计算机应用基础试卷

本试卷分第 I 卷(选择题)和第 II 卷(非选择题)两部分共 150 分。考试时间 120 分钟。

### 第 I 卷(选择题 共 90 分)

注意事项:

1. 答第 I 卷前,考生务必将自己的姓名、准考证号、考试科目涂写在答题卡上,并将本人考试用条形码贴在答题卡的贴条形码处。
2. 每题选出答案后,用 2B 铅笔把答题卡上对应题目的答案标号涂黑。如需改动,用橡皮擦洁净后,再选涂其他答案标号。答在试卷上的无效。
3. 考试结束,监考人将本试卷和答题卡一并收回。

一、单项选择题:本大题共 60 小题,每题 1 分,共 60 分,每题给出的四个选项,只有一项是最符合题目规定的。

1. 电子计算机的奠基人是美籍匈牙利科学家冯·诺依曼和英国科学家

A. 霍夫

B. 弗金

C. 布尔

D. 图灵

2. 如下不属于计算机总线的是

A. 地址总线

B. 指令

总线

C. 数据总线

D. 控制总线

3. 软盘上最外圈的磁道是

A. 0 磁道

B. 1 磁道

C. 79 磁道

D. 80 磁道

4. 微处理器中不包括

A. 运算器

B. 控制器

C. 内部寄存器

D. 输入/输出接

口

5. 如下论述中对的的是

A.  $(8)_{16}$  等于  $(8)_{10}$

B.  $(483)_{10}$  不不小于

$(484)_8$

C.  $(1011)_2$  不小于  $(1011)_{16}$

D.  $( )_2$  不不小于  $(FF)_{16}$

6.  $[10110110]_{补}$  对应的原码是

A.  $[11001010]_{原}$

B.  $[10110110]_{原}$

C.  $[01001010]_{原}$

D.  $[00110110]_{原}$

7. 下列字符中, 其 ASCII 码值最大的是

A. 6

B. F

C. e

D. 空格

8. 中文“中”的国标码是 5650H，其机内码是

- A. 5650H                      B. D6D0H                      C. 8080H  
D. B6B0H

9. 如下属于视频文献扩展名的是

- A. .jpg                      B. .mov                      C. .wav  
D. .mid

10. 如下有关计算机病毒的论述中对的的是

- A. 软盘不也许感染引导型病毒  
B. 宏病毒以宏的形式附在 TXT 文档中  
C. 发现计算机病毒后，重新启动计算机即可清除病毒  
D. 通过 E-mail 传播是目前计算机病毒的重要传播方式之一

11. Windows XP 是

- A. 8 位操作系统                      B. 16 位操作系  
统  
C. 32 位操作系统                      D. 64 位操作系  
统

12. NTFS文献系统中，一簇的大小为

- A. 4KB                      B. 16KB

C. 32KB

D. 64KB

13. Windows XP 中，在同一对话框的不一样选项卡之间进行切换，不能采用的操作是

A. 用鼠标单击标签

B. 按组合键

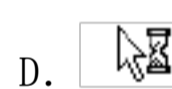

Ctrl+Tab

C. 按组合键 Shift+Tab

D. 按组合键

Ctrl+Shift+Tab

14. 如下 Windows XP 鼠标指针形状中，表达目前操作正在前台运行的是



15. 在 Windows XP 中，可以创立快捷方式的操作是

A. 按住 Ctrl 键将对象拖动到目的位置

B. 按住 Shift 键将对象拖动到目的位置

C. 按住组合键 Ctrl+Alt 将对象拖动到目的位置

D. 按住组合键 Ctrl+Shift 将对象拖动到目的位置

16. 如下有关 Windows XP 任务管理器的论述中对的是

A. 按下组合键 Ctrl+Shift+Space 可以打开任务管理器

- B. 在任务管理器窗口中，不能关闭正在执行的应用程序
- C. 在任务管理器窗口中，可以执行一种新的应用程序
- D. 在任务管理器窗口中，可以动态查看硬盘的使用状况

17. 下列文献名中，符合 Windows XP 文献命名规则的是

- A. Test.txt.jpg
- B. ABC|DE.txt
- C. X>9.jpg
- D. 6\*3=18.txt

18. 如下有关 Windows XP 的论述中错误的是

- A. 不可以将“开始”菜单中的菜单项直接拖放到桌面上
- B. 在“运行”对话框的文本框中输入“\”，可以出现下拉列表
- C. 将桌面的文献拖入“运行对话框的文本框，可显示该文献完整途径和文献名
- D. 执行“任务栏”上“组图标”的快捷菜单中“关闭组”命令，可以关闭该组所有窗口

19. 如下有关 Windows XP 各附件应用程序的论述中，对的是

- A. “录音机”程序可以实现声音文献的格式转换
- B. “记事本”可以对的显示 Word 文档内容
- C. “画图”程序只能将图像保留为 BMP 格式
- D. “计算器”在科学型方式下，可将十进制小数自动转换为十六进制

20. 在 Windows XP 中“磁盘碎片整顿程序”的重要功能是

- A. 使磁盘的空闲空间尽量持续
- B. 删除指定的文献
- C. 自动删除顾客不想要的文献
- D. 清空回收站

21. 在 Word 2023 中，可以模拟书本方式的视图是

- A. 页面视图
- B. 大纲视图
- C. 打印预览视图
- D. 阅读版式视图

图

22. 在 Word 2023 中，要选择一个矩形区域，则应在拖动鼠标的同步按住

- A. Alt 键
- B. Ctrl 键
- C. Tab 键
- D. Shift 键





23. 在 Word 2023 大纲视图中，要想提高标题的级别，应当点击的工具按钮是

- A. 
- B. 
- C. 
- D. 

24. 在 Word 2023 中，要给相邻的三个页面分别加上不一样的页眉，则在设置页眉前应进行的操作是

- A. 在三页之间分别插入“分页符”
- B. 在三页上都施加“分栏符”
- C. 在三页之间分别插入“分节符”
- D. 在第三页开头插入“分节符”

符”

25. 在 Word 2023 文档中，要输入  $\sum_{n=0}^9 \frac{n(n-1)}{n+1}$ ，则应执行“插入”菜单中的
- A. “数字”命令  
B. “特殊符号…”命令  
C. “对象…”命令  
D. “域…”命令
26. 在 Word 2023 中，执行查找功能的快捷键是
- A. Ctrl+C  
B. Ctrl+V  
C. Ctrl+F  
D. Ctrl+H
27. 在 Word 2023 中，要使用制表位把一组数据按小数点对齐，则进行制表位设置后，在水平标尺的对应位置上会出现
- A.  B.   
C.  D. 
28. 在 Word 2023 的表格中，假如输入的内容超过了单元格宽度
- A. 超过的内容被视为无效  
B. 超过的内容放在下一单元格中  
C. 单元格自动增长宽度，以保证文字的输入  
D. 单元格自动换行，增长高度，以保证文字的输入
29. 如下 Word 2023 工具按钮中，表达“合并单元格”的是

A. 

B. 

C. 

D. 

30. 在 Word 2023 中，要通过菜单项“插入|引用|索引和目录”建立目录，则应在输入文档内容时，对各级标题分别使用统一的

A. 样式

B. 模板

C. 颜色

D. 字型

31. 在 Word 2023 文档中，若选定的文本中包括几种不一样字号的中文，则“格式”工具栏的“字号”框中显示

A. 所选文本中第一种中文的字号

B. 所选文本中最大的字号

C. 所选文本中最小的字号

D. 空白

32. 在 Word 2023 中，表达图片与文字之间“嵌入型”文字围绕关系的按钮是

A. 

B. 

C. 

D. 

33. 在 Word 2023 文档中，对于用“绘图”工具绘制的图形，不能进行的操作是

A. 裁剪

B. 移动



C. 放大

D. 删除

34. 在 Word 2023 文档中，插入自动更新的目前日期，格式如“2023 年 12 月 23 日”，其对应的域代码为

A. {Edit Time \@ "yyyy 年'M'月'd'日' "}

B. {Date \@ "yyyy 年'M'月'd'日' "}

C. {Edit Time \@ "EEEE 年 0 月 A 日"}

D. {Date \@ "EEEE 年 0 月 A 日"}

35. 在保留 Excel 2023 工作簿的过程中，默认的第一种工作簿文献名是

A. Excell

B. Book1

C. XL1

D. 文档 1

36. 在 Excel 2023 工作表中，有单元格区域为

天津	上海
北京	重庆

位置上复制成

天津	北京
上海	重庆

位置上执行“编辑”菜单的

A. “粘贴”命令

B. “选择性粘

贴…”命令

C. “粘贴为超链接”命令

D. “定位…”命令

37. 在 Excel 2023 作表中，要在某单元格内输入 号码“”，应首先输入

A. =

B. :

C. !

D. ,

38. 在 Excel 2023 中, 选定  $2 \times 2$  个单元格区域, 在编辑栏输入= “ {5, 6; 7, 8} ” 后按组合键 Ctrl+Shift+Enter, 则该单元格区域显示为

A. 

{5, 6; 7, 8}	

B. 

5	7
6	8

C. 

{5, 6; 7, 8}	{5, 6; 7, 8}
{5, 6; 7, 8}	{5, 6; 7, 8}

D.

5	6
7	8

39. 在 Excel 2023 中, 为选定的区域命名时, 名字可采用

A. A2

B. AB385

C. 1234

D. ABCD

40. 在 Excel 2023 工作表中, 要在单元格内输入目前时间, 需按下的组合键是

A. Ctrl+Shift+;

B. Ctrl+Alt+;

C. Ctrl+Shift+'

D. Ctrl+Alt+'

41. 在 Excel 2023 工作表中, 如下可以选中持续的多行单元格的操作是

- A. 用鼠标拖动单元格的列号  
行号
- B. 用鼠标拖动单元格的
- C. 用鼠标拖动单元格的外框  
填充柄
- D. 用鼠标拖动单元格的

42. 在 Excel 2023 工作表中，有如下数据

	A	B	C
1	2	3	4
2	11	12	13
3	7	7	6

在单元格 D3 中输入公式 “=B3-A3+\$C\$2”，复制 D3 单元格到 E2 单元格，则 E2 单元格的值为

- A. 13  
B. 14  
C. 0  
D. #REF!
43. 在 Excel 2023 中，单元格区域 “A2:C2, B1:B3” 表达的单元格是
- A. A2、B1、B2、B3、C2  
B. C2  
C. A2、B1、B3、C2  
D. B2
44. 在 Excel 2023 工作簿 “财务记录.xls” 中，有工作表 “汇总表” 和 “工资表”，要在 “汇总表” 的 D10 单元格中填入 “汇总表” B3 和 “工资表” C6 单元格中数值较大者，则应在 “汇总表” 的 D10 单元格中输入

A. =MAX(B3, 工资表!C6)

B. =MAX(工资表!B3, C6)

C. =MAX(B3, C6)

D. =MAX(工资

表!(B3, C6))

45. 在 Excel 2023 工作表中，要以红色斜体表达成绩单内低于 60 分的成绩，需使用

A. 数据透视表

B. 筛选

C. 分类汇总

D. 条件格式

46. 在 Excel 2023 的工作表中，图表与生成它的数据是有关联的，当删除该图表中某

一数据系列时

A. 清除表中对应的数据

B. 删除表中对应的数据及单元

格

C. 工作表中对应数据变成零

D. 工作表中对应的数据没有变

化

47. 在 Excel 2023 工作表中，从 A2 到 A9 单元格的值分别为 1、2、3、4、5、6、7、

8，执行菜单项“数据|筛选|自动筛选”后出现下拉列表，选择下拉列表中的“5”

后，工作表中该区域显示

A. 前五个数据

B. 后四个数据

C. 数值为“5”的数据

D. 数据所有消失

48. 在 Excel 2023 中，假如单元格中的文本型数据超过了单元格宽度一个中文，且其后相邻的单元格没有内容，则该单元格中

A. 显示#####

B. 显示 FALSE

C. 超过的文字覆盖其后的单元格

D. 超过的文字会被隐藏，但并不删除

除

49. 如下属于 B 类 IP 地址的是

A. 125.120.1.3

B. 200.1.1.1

C. 130.10.1.1

D. 205.200.12.101

50. 在 TCP / IP 模型中，可以自动将数据报进行排序恢复成原始信息的协议是

A. IP

B. SMTP

C. TCP

D. FTP

51. 如下网络设备中，具有数/模、模/数信号转换功能的是

A. 网卡

B. 调制解调器

C. 集线器

D. 路由器

52. 在 Internet 提供的服务中，使当地计算机成为远程计算机的仿真终端从而实时使

用其资源的服务是

- A. 万维网( )  
B. 电子邮件(E-mail)  
C. 文献传播(FTP)  
D. 远程登录(Telnet)

53. IE 浏览器的“收藏夹”里寄存的是

- A. 顾客特意保留的 URL  
B. 顾客近来浏览的 URL  
C. 顾客近来下载过文献的 URL  
D. 顾客近来上传过文献

的 URL

54. E-mail 地址的顾客名和域名之间的分隔符是

- A. -  
B. .  
C. @  
D. /

55. TCP 协议对于 TCP / IP 模型中的

- A. 网络接口层  
B. 传播层  
C. 网际层  
D. 应用层

56. 如下可以在 Windows XP 操作系统上建立 Web 站点的软件是

- A. IIS  
B. IE

C. Outlook

D. ServerU

57. 构成 C 语言程序的基本单位是

A. 过程

B. 函数

C. 语句

D. 文献

58. 在 C 语言中，若有如下语句：

```
int i;float f;
```

```
scanf("i=%d, f=%f", &i, &f);
```

则如下能分别给变量 i 和 f 对的赋值的输入是

A. 100765.12

B. i=100, f=765.12

C. 100, 765, 12

D. i=100f=765.12

59. 在 C 语言中，有如下定义和语句：

```
int u=010, v=0x10, w=10;
```

```
printf("%d, %d, %d\n", u, v, w);
```

其输出成果是

A. 8, 16, 10

B. 10, 10, 10

C. 2, 16, 10

D. 8, 10, 10

60. 在 C 语言中，有如下程序段：

```
char str[]="\tab\n\012\\\\";
```

```
printf("%d", strlen(str));
```

其输出成果是

A. 3

B. 4

C. 7

D. 13

二、多选题：本大题共 10 小题，每题 3 分，共 30 分，每题给出的五个选项中，有二至五项是符合题目规定的。

61. 根据给出的地址形式，计算机指令可以分为

A. 单地址指令

B. 双地址指令

C. 三地址指令

D. 四地址指令

E. 五地址指令

62. 如下属于计算机系统软件的是

A. Windows XP

B. Turbo C

C. SQL Server

D. Office 2023

B. Media Player



以上内容仅为本文档的试下载部分，为可阅读页数的一半内容。如要下载或阅读全文，请访问：<https://d.book118.com/766213002021010035>