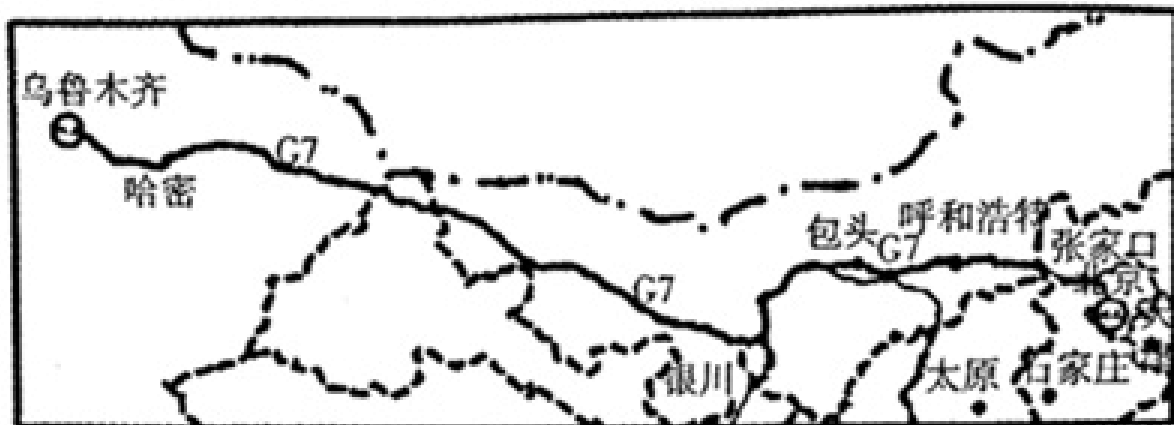


考试总分：145分 考试时间：120分钟

学校：_____ 班级：_____ 姓名：_____ 考号：_____

一、选择题（本题共计27小题，每题5分，共计135分）

1. G7京新高速公路内蒙古、山西、河北三省（区）主线收费站定于2019年4月23日上午10时同时开通。京新高速穿越多种自然风光，有“最美高速公路”之称。如图为G7京新高速公路示意图。读图，完成（1）~（3）题。



G7终点所在省级行政区域的全称是（ ）

- A.新疆维吾尔自治区
- B.甘肃省
- C.内蒙古自治区
- D.西藏自治区

2. 2017年5月18日，我国在南海首次成功试采可燃冰。读图回答以下小题。



（1）我国成功试采可燃冰的海域是图中的（ ）

- A.甲
- B.乙
- C.丙

D.丁

(2) 中国的内海包括 ()

A.渤海和琼州海峡

B.渤海和台湾海峡

C.黄海和琼州海峡

D.黄海和台湾海峡

3. 山脉是地形的骨架，我国地形类型多样，各具特色。下列组合错误的是 ()



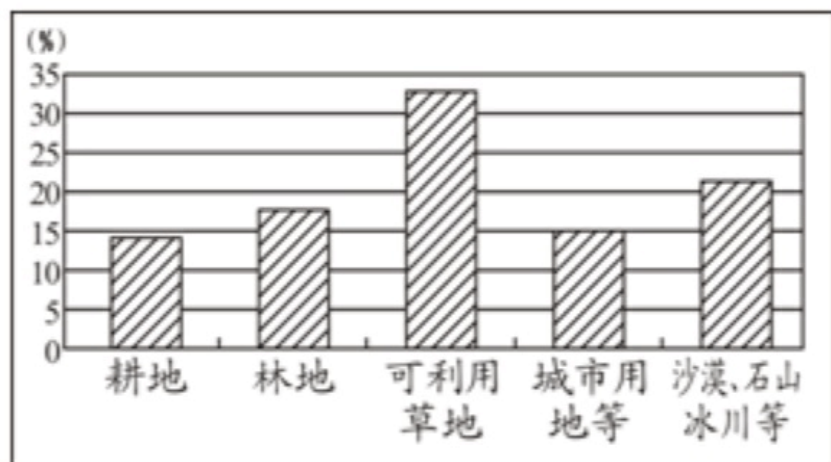
A.①-塔里木盆地

B.②-东北平原

C.③-云贵高原

D.④-黄土高原

4. 土地是人类赖以生存的基本自然资源。为确保国家粮食安全，中国耕地保有量不得低于1亿亩，这既是中国耕地面积的底线，也是不能突破的政策“红线”。必须实行最严格的耕地保护制度，像保护大熊猫一样保护耕地。读我国土地利用类型构成图，完成下列各题。



(1) 由图可以看出，我国土地资源的现实状况是 ()

A.后备土地资源充足

B.人和耕地的矛盾很小

C.难利用的土地少

D.耕地、林地少

(2) 在我国的可利用土地中，所占比重最大的是 ()

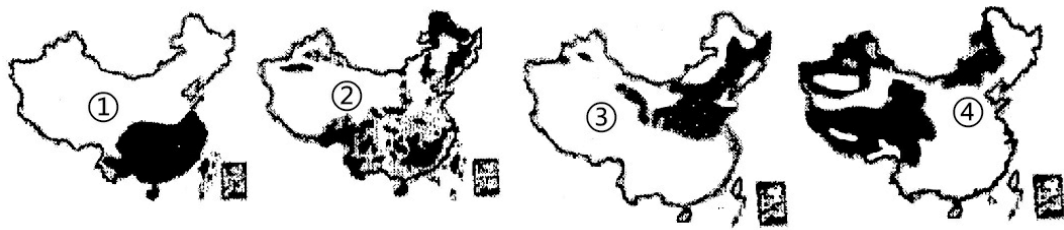
A.耕地

B.林地

C.可利用草地

D.城市用地等

(3) 以下四幅图表示出了我国四种土地利用类型的分布，按草地、林地、水田和旱地的排序，正确的是（ ）



A.①②③④

B.②①④③

C.④②③①

D.④②①③

(4) 下列做法有利于保护耕地的是（ ）

A.大量使用化肥农药

B.提高耕地的生产力水平，变低产田为高产田

C.用工业污水灌溉农田

D.发展城镇建设，占用大量耕地

5. 下列关于我国现行的行政区划的叙述，错误的是（ ）

A.大致上划分为省、县、乡三级

B.包括23个省、5个自治区、4个直辖市

C.自治区、自治州、自治县都是少数民族自治的地方

D.我国于1997年和1999年分别在香港和澳门设立了特别行政区

6. 《舌尖上的中国》有这样的描述：中国拥有世界上最富戏剧性的自然景观，……有助于物种的形成和保存，我国有丰富的食物原材料主要是因为（ ）

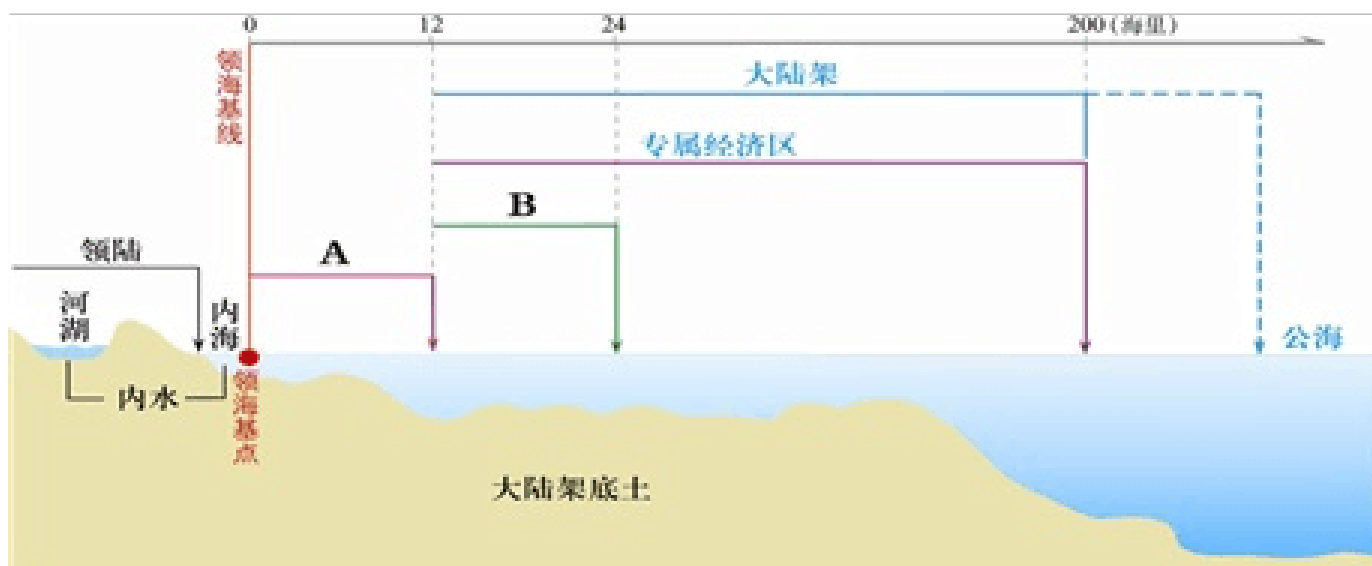
A.海陆兼备，国土面积广大，

B.南北跨纬度广，热量差异显著

C.地形多样，以平原为主

D.河湖众多，有许多源远流长的大江巨川

7. 请看《我国主张管辖的海域空间结构示意图》，我国主张的领海范围为距领海基点（ ）



- A.12海里
- B.24海里
- C.200海里
- D.350海里

8. 我国实行计划生育作为基本国策的原因 ()

- A.东部人口密度大，西部人口密度小
- B.农村人口多，城市人口少
- C.我国是世界上人口最多的国家
- D.人口增长过快，与经济发展不相适应

9. 下列关于我国民族概况的说法错误的是 ()

- A.壮族是我国人口最多的少数民族，集中分布在云南省
- B.我国有56个民族，各民族的分布具有“大散居、小聚居、交错杂居”的特点
- C.西南地区是少数民族聚居区
- D.各民族有自己不同的生活习俗，如蒙古族喜欢摔跤，藏族喜欢跳锅庄舞

10. 关于我国的叙述，下列选项中正确的是 ()

- A.我国大部分地区位于北温带，北部部分地区位于北寒带，光热条件好
- B.我国人口分布西多东少，是世界上人口密度较大的国家之一
- C.在我们伟大祖国辽阔的土地上生活着56个少数民族，组成了统一和谐的中华民族大家庭
- D.我国少数民族人口主要分布在西南、西北和东北地区

11. “计划生育实行好多年了，但目前我国每年新增的人口数量依然较大，这是为什么呢？”，其最合理的解释是 ()

- A.人口死亡率明显降低了
- B.人口基数庞大
- C.人民的生活水平显著提高了
- D.人口的出生率太高


12. 港澳与祖国大陆的合作优势互补，互惠互利，下列属于祖国大陆优势的是（ ）

- A.资金
- B.信息
- C.厂房
- D.技术

13. 我国少数民族主要集中在（ ）

- A.西南、东南、中部
- B.西北、东北、西南
- C.中部、西南、西北
- D.西北、东南、东北

14. 如图反映了自新中国成立以来不同时期的人口问题或人口政策的一组漫画。读图，完成（1）～（2）题。



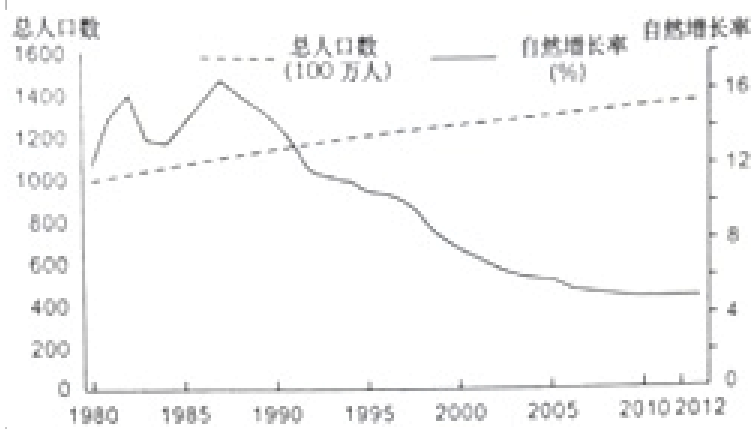
一个国家人口政策的制定与调整说明（ ）

- ①人口政策只能解决人口增长问题
- ②人口政策要适应社会的发展需要
- ③人口发展应与资源、环境相协调
- ④人口发展要与社会经济发展相适应

- A.①②③
- B.①②④
- C.①③④
- D.②③④

15. 1980年我国开始执行一对夫妇只能生育一胎的计划生育政策，十八届五中全会后，我国将全面实施一对夫妇可生育两个孩子政策。读“1980-2012年我国人口数量增长率和人口数量增长曲线图”。完成（1）~（2）题。

（1）1980年执行计划生育政策后，我国的人口增长状况是（ ）



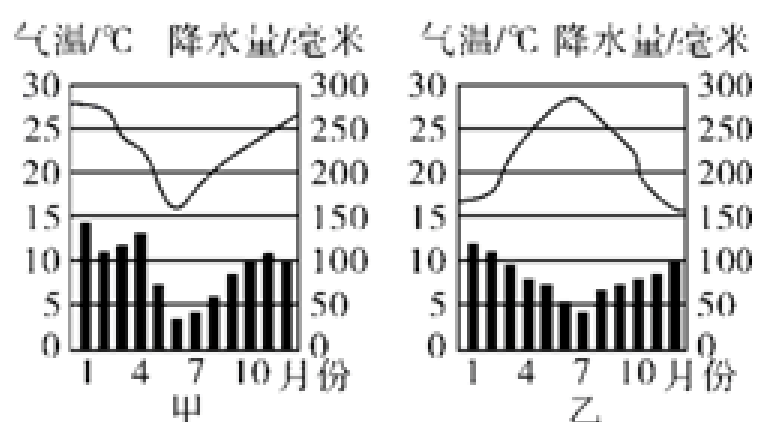
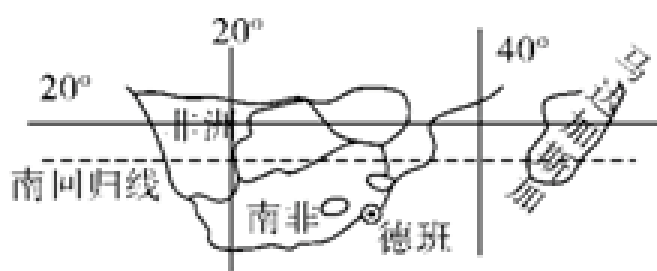
- A. 人口数量开始减少
- B. 人口数量持续增加
- C. 人口自然增长率保持不变
- D. 人口自然增长率持续下降

（2）十八届五中全会对计划生育政策进行调整的主要目的是（ ）

- A. 平衡男女比例失衡
- B. 缓解人口数量不断减少的问题
- C. 应对人口老龄化问题
- D. 解决独生子女自理能力较差的问题

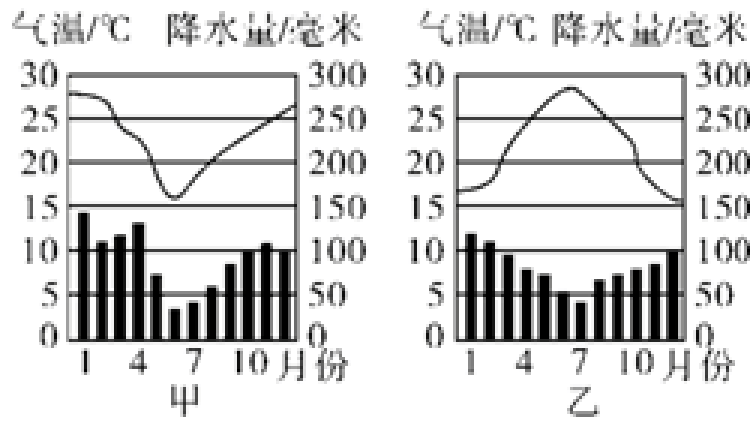
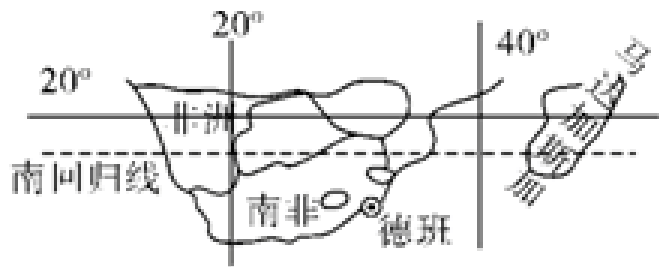
16. 读非洲南部地区图和甲乙两幅气候资料图，据图回答下面（1）~（2）题。

（1）关于南非所处位置描述正确的是（ ）



- A. 位于非洲南部
- B. 位于大西洋和太平洋之间
- C. 位于热带
- D. 位于高纬度地区

(2) 甲乙两幅气候资料图，与德班的气候吻合的是 ()

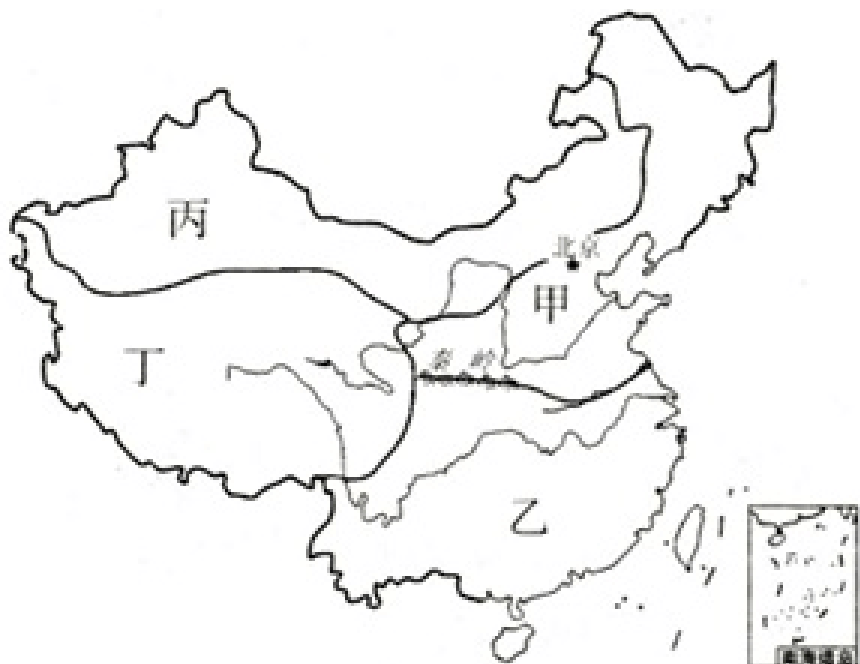


- A. 甲图
- B. 乙图
- C. 两图都是
- D. 两图都不是

17. 下列山脉的走向与其他不同的是 ()

- A. 昆仑山
- B. 天山
- C. 秦岭
- D. 太行山

18. 读我国的四大地理区域图，回答 (1) ~ (3) 题。

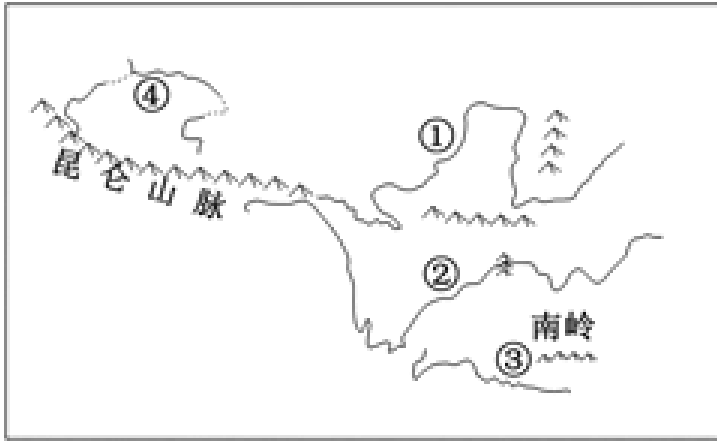


种植业、林业、渔业主要分布的区域是 ()

- A. 甲、丙
- B. 丙、丁
- C. 乙、丁

D.甲、乙

19. 读我国部分重要河流分布图，完成下列小题。



中国部分河流分布图

(1) 图中四条河流，属于内流河的是 ()

A.①

B.②

C.③

D.④

(2) 图中四条河流，汛期最长的是 ()

A.①

B.②

C.③

D.④

(3) 我国外流河、内流河都有明显的夏季汛期，其主要原因是 ()

A.都受夏季风的影响，降水丰富

B.都是因为夏季高温，冰雪融水多

C.外流河主要受夏季风影响，内流河主要受夏季气温高影响

D.外流河主要受夏季高温影响，内流河主要受夏季降水较多

20. 省级行政区划“两湖两广两河山”这句话中的“湖”和“河”代指 ()

A.鄱阳湖和黄河

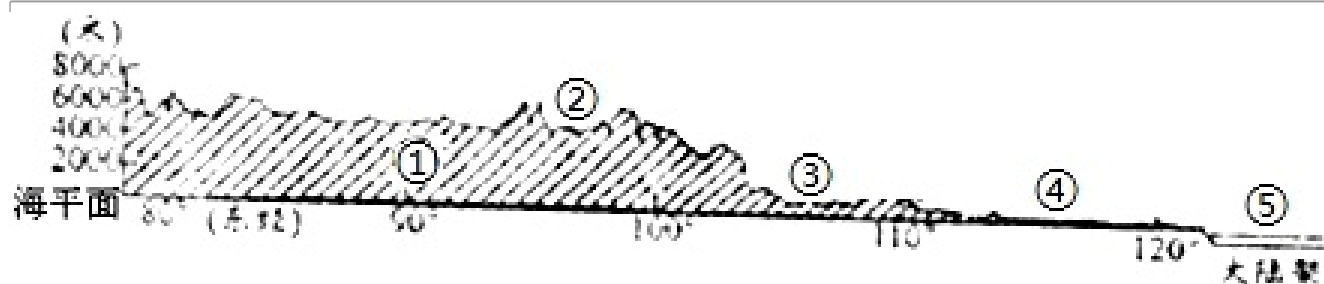
B.洞庭湖和黄河

C.太湖和淮河

D.青海湖和淮河

21. 读“我国沿30°N地形剖面图”，回答问题。

21. 读“我国沿30°N地形剖面图”，回答问题。



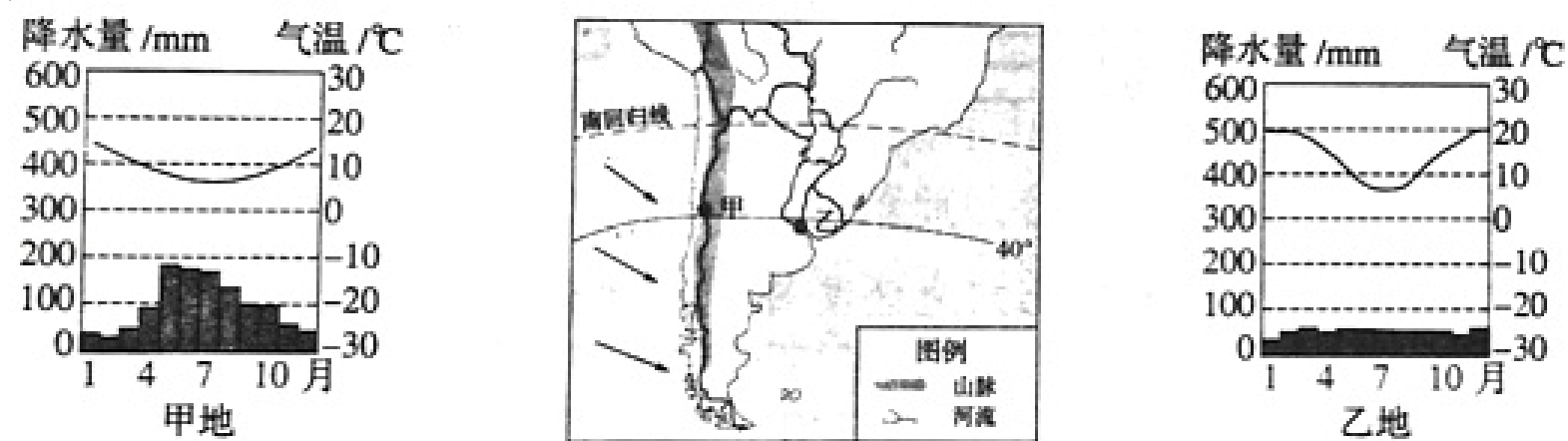
这种地势特征对我国自然地理环境和经济发展的影响表现为 ()

- A. 有利于海洋上的湿润气流深入内陆，形成丰沛的降水
- B. 使我国许多大河自东向西注入海洋，沟通了东部与西部之间的交通
- C. 在阶梯内部，由于降水丰富，水能资源巨大
- D. 有利于我西北内陆地区的农业发展

22. 降水量的不同会影响到民居的建筑形式，我国南方的民居一般是 ()

- A. 土墙平顶房
- B. 墙体镂空的晾房
- C. 砖墙斜顶房
- D. 窑洞

23. 如图是“某山脉南段的气候资料图”，读图，回答 (1) ~ (2) 题。



(1) 图中甲地的气候类型是 ()

- A. 地中海气候
- B. 亚热带季风气候
- C. 温带季风气候
- D. 温带海洋性气候

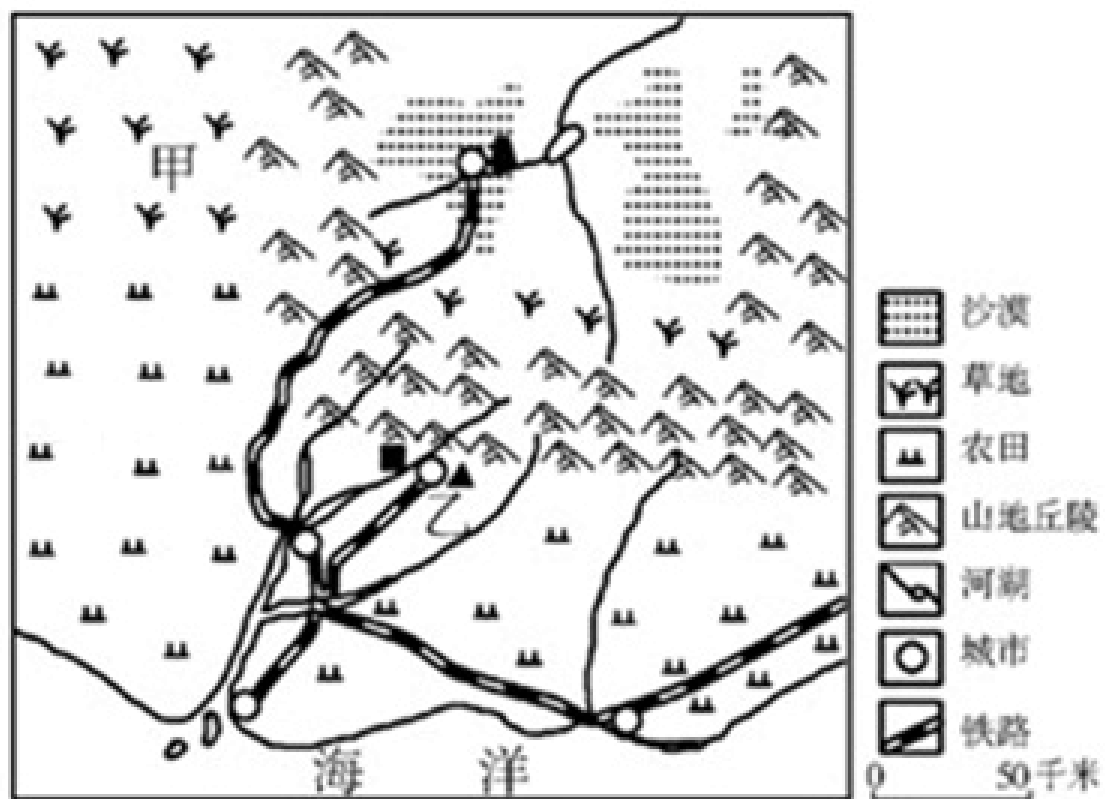
(2) 造成甲、乙两地降水不同的主要因素是 ()

- A. 纬度因素
- B. 地形因素
- C. 海陆分布
- D. 太阳辐射

24. 下列关于我国土地资源的说法，正确的是（ ）

- A.我国土地资源总量丰富，人均占有量居世界前列
- B.我国土地类型齐全，但耕地比重小
- C.我国各类土地资源所占的比例都很合理
- D.我国土地类型少，后备耕地资源充足

25. 某中学地理研究性学习小组从有关部门获取了一张我国北方某地区图。读图完成（1）～（2）题。



（1）按照因地制宜的原则，图中甲地适宜发展的农业类型是（ ）

- A.种植业
- B.渔业
- C.林业
- D.畜牧业

（2）分析图中信息，乙城市工业发展最有优势的部门是（ ）

- A.钢铁工业
- B.纺织工业
- C.食品工业
- D.电子工业

26. 东部沿海工业地带是我国经济最发达地带，由若干工业基地组成。读图，回答下列小题。



(1) 图中字母所对应的工业区连接正确的是 ()

A.A—京津唐工业区

B.B—长三角工业区

C.C—辽中南工业区

D.D—珠三角工业区

(2) 我国四大工业基地发展的共同优势有 ()

①地理位置优越 ②矿产资源丰富 ③是著名的侨乡 ④交通运输便利


A.①②

B.③④

C.①④

D.②③

27. 发展农业要因地制宜，一方面要考虑自然环境的差异，另一方面要考虑社会经济条件的制约。读图回答 (1) ~ (2) 题。



(1) 甲地地形陡峭，最适宜发展的农业类型是 ()

A.林业

B.牧业

C.种植业

D.渔业

(2) 丁地发展渔业的有利自然条件是 ()

A.气候温和

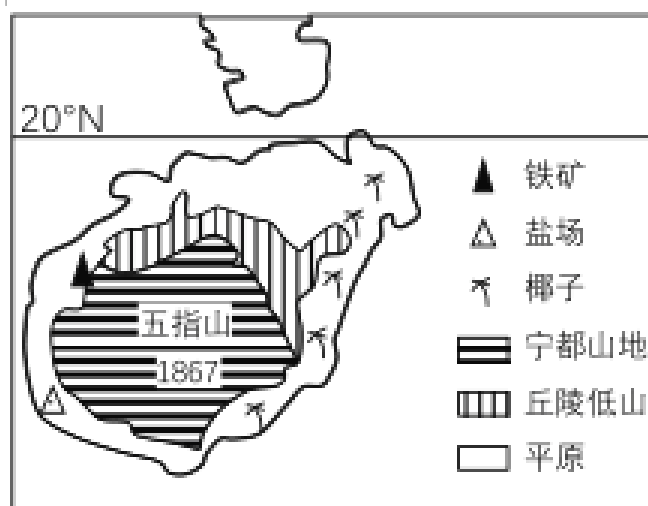
B.河湖众多

C.土壤肥沃

D.山高谷深

二、解答题 (本题共计 2 小题, 每题 5 分, 共计 10 分)

28. 读海南岛图, 完成下列问题。



(1) 从地球上五带来看, 海南岛位于_____带。

(2) 盛产的水果有()

A、橡胶 B、比菠萝 C、苹果 D、梨

(3) 海南岛的地势特征为_____。

(4) 根据图上的信息判断, 海南岛上的矿产资源主要是_____, 盐场主要分布在_____ (填方位)。

29. 读图, 完成下列各题:

(1) 图中阴影部分是我国的_____ (地理区域), 年降水量多在_____毫米以下。

(2) 在我国四大地理区域中 B、C 两区域的分界线大致与_____和_____一线基本一致。

(3) A、B、C 三地发展农业, A 地适合发展_____业和_____业。

(4) B、C 两地作物及熟制差异明显: B 地主要粮食作物是_____, C 地作物熟制为_____。



参考答案与试题解析

2022-2023学年全国初中七年级下地理人教版期中试卷

一、选择题（本题共计 27 小题，每题 5 分，共计 135 分）

1.

【答案】

A

【考点】

中国的省级行政区划

【解析】

我国行政区划基本分为省、县、乡三级，目前共有34个省级行政单位，包括23个省、5个自治区、4个直辖市、2个特别行政区。

【解答】

京新高速公路（G7）自北京至乌鲁木齐，乌鲁木齐是新疆维吾尔自治区的行政中心。依据题意。

2.

【答案】

A

A

【考点】

中国河流和湖泊的分布及概况

【解析】

此题暂无解析

【解答】

此题暂无解答

3.

【答案】

C

【考点】

中国的地形特征及其影响

我国主要山脉的走向和分布

地势的三级阶梯及其分界线

【解析】

此题暂无解析

【解答】

读图可知，天山的北侧是准噶尔盆地，南侧①是塔里木盆地；大兴安岭的东侧是②东北平原；横断山的西侧③是青藏高原；秦岭的北侧是④黄土高原，南侧是四川盆地，根据题意，故C错误。故选C。

4.

【答案】

D

C

D

B

【考点】

我国的土地资源及其分布

合理利用和保护土地资源

【解析】

- (1) 本题主要考查了我国土地资源。
- (2) 本题主要考查了我国的土地资源。
- (3) 本题主要考查了我国的土地资源。
- (4) 本题主要考查了耕地资源的保护。

【解答】

(1) 读图可知，我国后备土地资源不足，人均耕地少，人与耕地矛盾突出，难利用的土地多，耕地、林地少，故D正确。

故选D。

(2) 读图，在我国的可利用土地中，所占比重最大的是可利用草地，故C正确。

故选C。

(3) 读图可知，①位于我国南方地区，为水田，②主要分布在东北地区、西南地区和东南丘陵地区，为我国的林地；③主要分布在我国北方地区，为旱地；④主要分布在内蒙古、新疆、青海、西藏等地区，为草地。故D正确。

故选D。

(4) 大量使用化肥农药，用工业污水灌溉农田，发展城镇建设，占用大量耕地等都不利于我国耕地

以上内容仅为本文档的试下载部分，为可阅读页数的一半内容。如要下载或阅读全文，请访问：<https://d.book118.com/697013046165006032>