

2017 年福建省中考物理试卷

一、选择题

1. (2分) 夏商时期, 已有铜制的铃和皮质的鼓. 人耳能分辨出铃声和鼓声是根据声音的 ()

- A. 响度 B. 音调 C. 音色 D. 频率

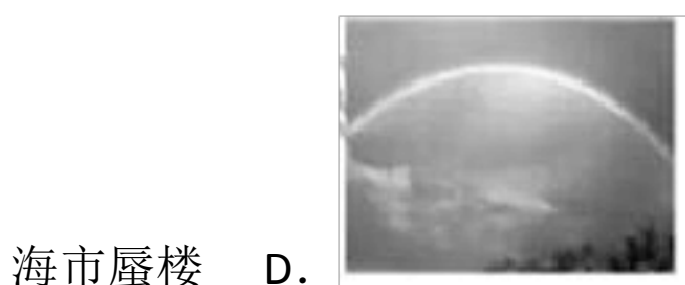

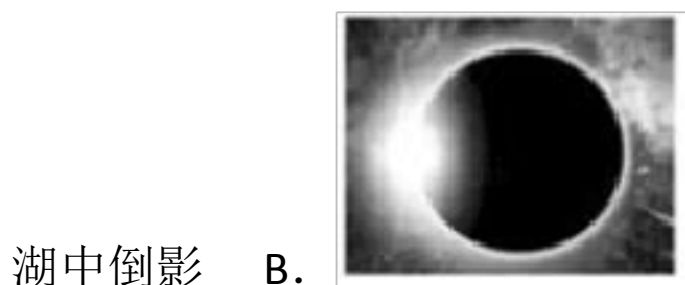
2. (2分) 今年 1 月, 我国发射的世界首颗量子科学实验卫星, 完成了在轨测试任务. 实验卫星与地面通信联系是利用 ()

- A. 次声波 B. 无线电波 C. 红外线 D. 超声波

3. (2分) 以下做法符合安全用电常识的是 ()




- A. 使用冰箱时, 金属外壳未接地
B. 家庭电路中, 开关接在零线上
C. 检修电路时, 未断开总开关
D. 电线着火时, 应先切断电源再救火

4. (2分) 战国时期, 《墨经》中记载了影子的形成、平面镜的反射等光学问题. 图中的光学现象与影子的形成原理相同的是 ()



雨后彩虹

5. (2分) 如下图的“吸引现象”由静电引起的是 ()

- A.  磁铁吸引硬币
- B.  压紧的铅块互相吸引
- C.  摩擦后的气球吸引头发
- D.  吸盘吸在墙壁上

6. (2分) 为缓解电力紧张的状况, 我省正在加大核电站的建设. 以下说法正确的选项是 ()

- A. 核电站将核能最终转化为电能
- B. 核反应堆中发生的是不可控制的核裂变
- C. 核能发电使用的燃料是天然气
- D. 核电站利用的核能属于可再生能源

7. (2分) 以下利用改变内能对外做功的设备是 ()

- A. 洗衣机 B. 柴油机 C. 收音机 D. 电视机

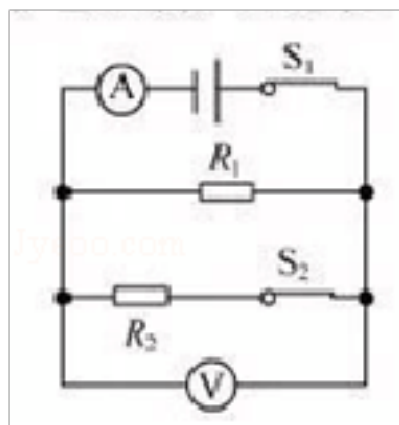
8. (2分) 自行车是“绿色”出行的交通工具, 为了减少摩擦的设计是 ()

- A. 车上安装有刹车闸 B. 轮胎上刻有花纹
- C. 脚踏板做得扁面平 D. 车轴处装有滚动轴承

9. (2分) 我国完成了速度超过 400km/h 的高铁交会试验, 两列高速运行的列车交会过程中, 产生“强吸力”的原因是两车之间的空气 ()

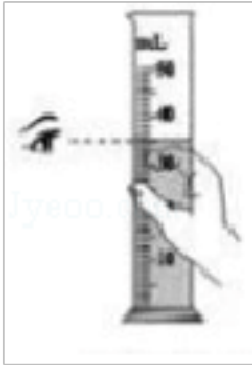
- A. 流速大, 压强大 B. 流速小, 压强小
- C. 流速大, 压强小 D. 流速小, 压强大

10. (2分) 如下图, 闭合开关 S_1 、 S_2 , 电路正常工作. 现只将 S_2 断开, 则 ()



- A. 电流表示数减小，电压表示数不变
- B. 电流表示数增大，电压表示数不变
- C. 电流表示数减小，电压表示数减小
- D. 电流表示数增大，电压表示数增大


11. (2分) 如下图，以下实验操作正确的选项是 ()




- A. 手持量筒举离桌面读数



- B. 以“1cm”刻度线处为测量起点



- C. 杠杆在水平位置平衡时，拉力的力臂为 l



- D. 为使像成在光屏中心，只需调节烛焰中心和光屏中心在同一高度

12. (2分) 如下图，体操运动员静止在平衡木上时，与运动员所受重力是一对平衡力的是 ()



- A. 平衡木对运动员的支持力
- B. 运动员对平衡木的压力
- C. 平衡木受到的重力
- D. 运动员对地球的吸引力

13. (2分) 在沙漠中，可以利用图所示的方法应急取水，此过程中发生的物态

以上内容仅为本文档的试下载部分，为可阅读页数的一半内容。如要下载或阅读全文，请访问：<https://d.book118.com/638114030052006035>