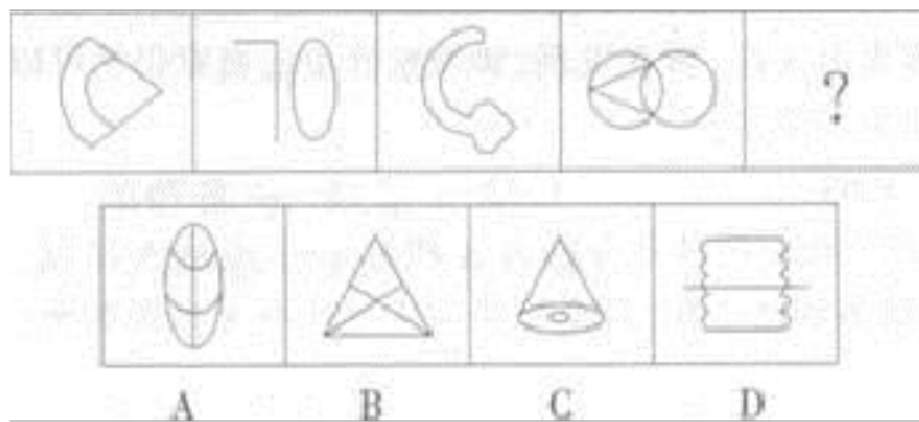


(备考 2023 年) 陕西省汉中市公务员省考 行政职业能力测验真题(含答案)

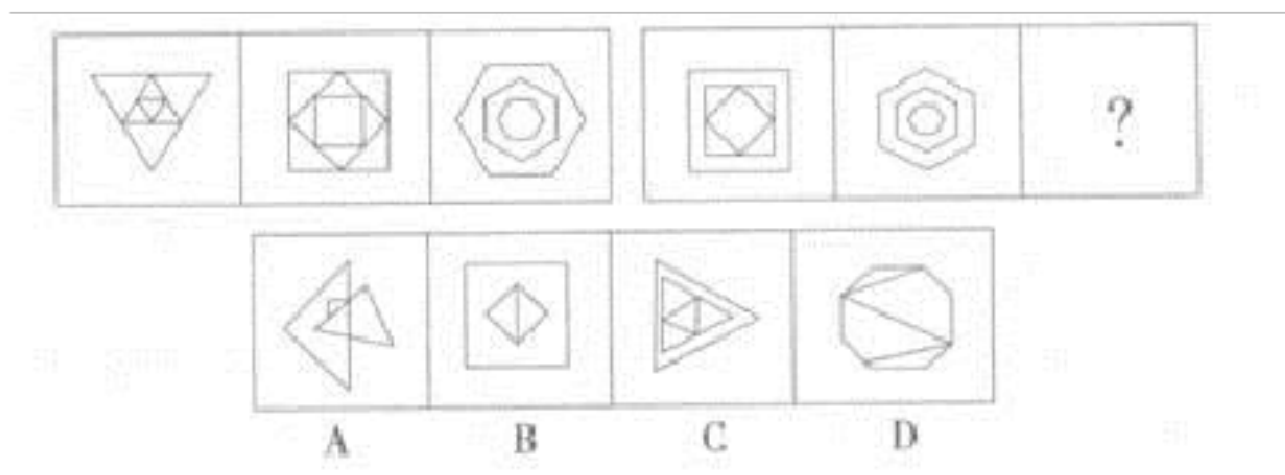
学校:_____ 班级:_____ 姓名:_____ 考号:_____

一、图形推理(6 题)

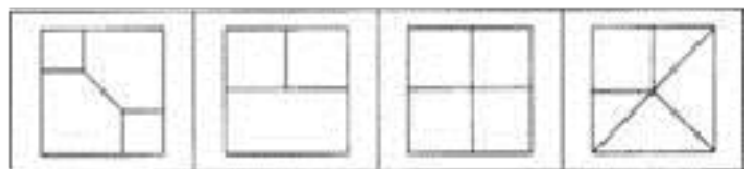
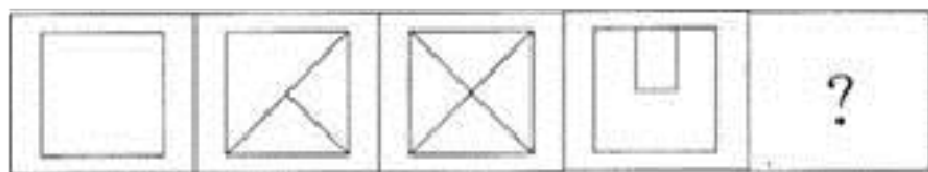
1.从所给的四个选项中，选择最合适的一个填入问号处，使之呈现一定的规律性：



2. 从所给的四个选项中，选择最合适的一个填入问号处，使之呈现一定的规律性。



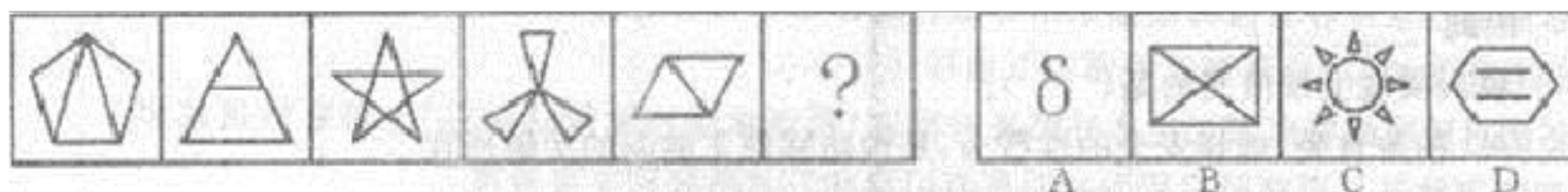
3.从所给的四个选项中，选择最合适的一个填入问号处，使之呈现一定的规律性：



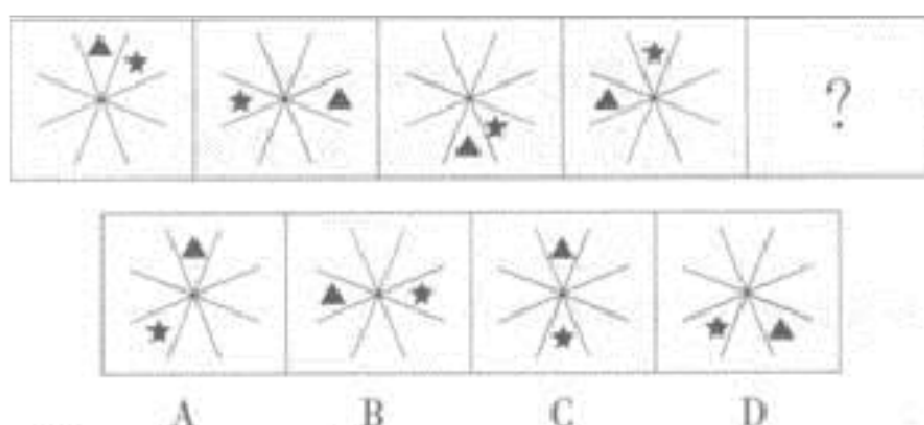
ABCD

A.如上图所示 B.如上图示 C.如上图 D.如图所示

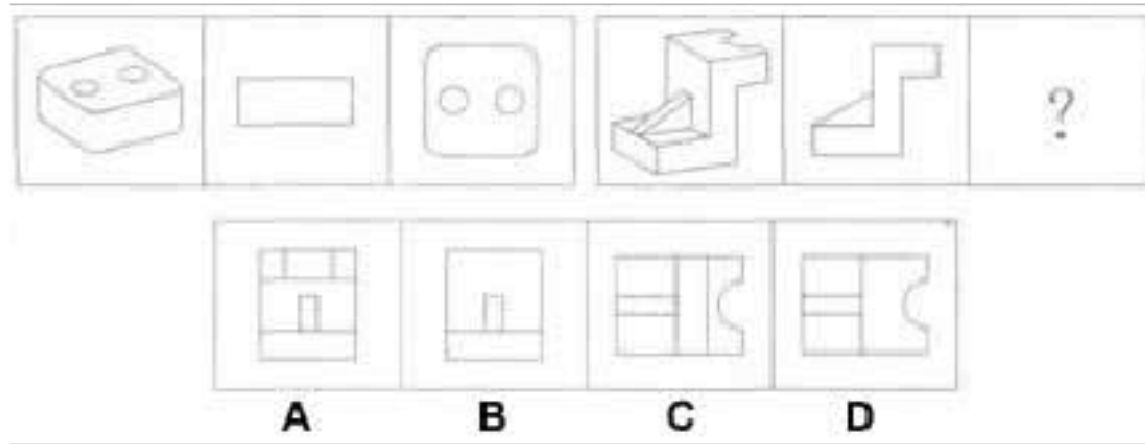
4. 从所给的四个选项中，选择最合适的一个填入问号处，使之呈现一定的规律性：



5. 从所给的四个选项中，选择最合适的一个填入问号处，使之呈现一定的规律性：



6. 从所给的四个选项中，选择最合适的一个填入问号处，使之呈现一定的规律性：



- A.①②④, ③⑤⑥ B.①⑤⑥, ②③④ C.①③④, ②⑤⑥ D.①③⑥, ②④⑤

二、定义判断(10 题)

7.

责任分散效应是指对某一件事来说,如果是单个个体被要求单独完成任务,责任感就会

很强,会作出积极的反应,但如果是要求一个群体共同完成任务,群体中的每个个体的责任感就会很弱,面对困难或遇到责任往往会退缩。

根据上述定义,以下语句体现了责任分散效应的是:

- A.先天下之忧而忧,后天下之乐而乐
- B.天下兴亡,匹夫有责
- C.明天人之际,通古今之变
- D.一个和尚挑水吃,两个和尚抬水吃,三个和尚没水吃

8. 行为经济学认为,互惠行为是一种条件合作行为,是对善意和助人的行为进行回报。互惠行为通过实施报答的形式而使对方获得利益,这种报答往往通过降低或损害自我利益而实现。根据上述定义,下列属于互

惠行为的是（ ）。

- A.企业家刘志刚每年捐款资助癌症患者，获得社会各界的赞誉
- B.为了感谢同事救了自己落水的孩子，李玲让出了自己升职加薪的机会
- C.小王利用空余时间帮助新来的大学生熟悉业务，自己也因此得到锻炼
- D.为了长期的共同合作，总经理给供货商提供了很多优厚条件

9.数字遗产是指被继承人死亡时遗留的个人所有的网络权益和财产，即以互联网为承载形态的文字作品、资料、图片和影音等所形成的一种文化传承的遗产。根据上述定义，下列属于数字遗产的是：

- A.在网络小说网站购买的虚拟货币
- B.一条死者参与编辑的维基百科词条
- C.购买的仅具有特许使用权的数字音乐。
- D.根据用户协议归属开发商的网游账号资料

10.

不作为，是指以消极的没有外部举动的方式表现出来的法律行为。根据上述定义，下列不属于不作为的是：

- A.公安人员看到有人持枪抢劫银行却坐视不管
- B.行政复议机关对老王的复议申请一直拖延。不作任何处理
- C.李某因口角生恨而将迷幻药放入王某杯中
- D.交警对出租车司机违章驾驶熟视无睹

11. “图腾”一词来源于印第安语“totem”，意思为“它的亲属”、“它的标记”。在原始人信仰中，认为本氏族人都源于某种特定的物种，即与某种动物或自然物具有亲缘关系。于是，图腾信仰便与祖先崇拜发生了关系。“totem”的第二个意思是“标志”。图腾标志在原始社会中起着重要的作用，它是最早的社会组织标志和象征，具有团结群体、密切血缘关系、维系社会组织和互相区别的职能。

根据上述定义，下面不属于图腾现象的是（ ）。

- A. 鄂伦春族称公熊为“雅亚”，意为祖父，称母熊为“太贴”，意为祖母
- B. 侗族传说中，其始祖母与一条大花蛇交配，滋生繁衍而形成侗族
- C. 古代朝鲜族每一村落村口都立一鸟杆，作为本氏族的象征
- D. 蒙古族以“苍天”为永恒最高神，“成吉思汗”的含义就是“赖苍天之力而为汗者”

12. 跨媒体制作：是指将近期具有一定程度经济效益的作品通过不同传播媒体制作出数种副产品而展开的商业行为。

根据上述定义，下列属于跨媒体制作的是：

- A. 电视剧《三国演义》改编自罗贯中的小说
- B. 奥运会开幕式同时采用了动态空中烟火组图、地面 LED 系统等技術
- C. 拍摄《黄飞鸿》系列电影
- D. 《喜羊羊与灰太狼》电视剧很受欢迎，出现了同名电影

13. 场化效应是指一个个体本来并不具有某些个性特征，但一旦进入某一

群体后就会被这一群体所产生的心理场所磁化，从而产生某些不具有的个性特征行为与情绪。

根据上述定义，下列不属于场化效应的是（ ）。

A.因为同宿舍的其他人总是去网吧玩游戏，原本不会上网的小林渐渐染上网瘾

B.公交车上拥挤不堪，有两个人为抢座发生了争吵，这让小王变得更加烦躁

C.不爱户外运动的小强在朋友的鼓动下加入了“驴友团”，从此便喜欢上户外运动

D.小李从北京的总部调到了四川1的分公司，不能吃辣的他慢慢喜欢上了川菜

14.道路交通事故是指车辆在道路上因过错或者意外造成的人身伤亡或者财产损失的事件。其中“道路”，是指公路、城市道路和虽在单位管辖范围但允许社会机动车通行的地方，包括广场、公共停车场等用于公众通行的场所。“车辆”，是指机动车和非机动车。“非机动车”，是指以人力或者畜力驱动，上道路行驶的交通工具，以及虽有动力装置驱动但设计最高时速、空车质量、外形尺寸符合有关国家标准的残疾人机动轮椅车、电动自行车等交通工具。

根据上述定义，下列不属于道路交通事故的是：

A.小王在进行封闭管理的小区内倒车时不慎将一老人撞倒

B.周小姐带着宠物狗横穿马路时，乱闯的宠物狗不幸丧生在车轮下

C.小赵将汽车停在商场附近的停车场，取车时发现车尾部被撞，肇事车辆已逃跑

D.绿灯亮时，小姜穿过斑马线过马路，被一辆闯红灯的自行车撞伤

15.三级价格歧视：是指这样一种状况，在此之中，一个垄断者在不止一个市场上销售商品并且这种商品不能从一个市场转移到另一个市场上再销售，因此厂商可以在不同市场上制定不同的价格。即对于同一商品，完全垄断厂商根据不同市场上的需求价格弹性不同，实施不同的价格。依据以上定义，下列各项中属于三级价格歧视的是（ ）。

A.某家电信公司采取一项营销方式，全国漫游的号码每条短信费用为0.2元，校园号码短信费用每条0.15元

B.某家面包店分时段实行不同的价格标准，在上午营业高峰时全部商品正价销售，下午则八折优惠，晚上销量较少时为避免面包积压而进行买一赠一活动

C.某具有垄断地位的大型家电零售商根据各地消费水平的差异制定不同的价格标准，同款产品在生活水平较高的大型城市的零售价格比生活水平较低的小型城市的价格高出45%

D.某电厂在夏季用电需求增加的时期大幅提高电价，而在用电需求较小的冬季又将电价下调

16. 通常所说的噪声污染是指人为造成的。从生理学观点来看，凡是干扰人们休息、学习和工作的声音，即不需要的声音，统称为噪声。当噪

声对人及周围环境造成不良影响时，就形成噪声污染。

根据以上定义，下列所述属于噪声污染的是：

- A.韩庄农户有几十辆农用大卡车废弃在稻田里，影响了春耕时间
- B.钢琴家正在弹奏《命运交响曲》
- C.兰州市上空布满了驱之不去的“乌云”，那是市郊工厂的废气
- D.汽车轰鸣声弄得老王整夜没有睡好觉

三、常识判断(10 题)

17.第 120 题 受益人故意造成被保险人死亡，骗取保险金，数额较大的，应定（ ）

- A.保险诈骗罪 B.故意杀人罪 C.诈骗罪 D.保险诈骗罪和故意杀人罪

18.第 98 题 发展社会主义民主政治，最根本的是要（ ）。

- A.坚持党的领导、人民当家作主和依法治国的有机统一
- B.实现民主政治的制度化、规范化、程序化
- C.充分发挥人民群众的监督作用
- D.有领导、有步骤地推进政治体制改革

19.中国书法是中国汉字特有的一种传统艺术，绵延了三千多年。下列说法不正确的是：

- A.楷书变化最为丰富，最能表现书法写意性
- B.东晋王羲之擅长草书、行书，被称为“书圣”
- C.唐代颜真卿、柳公权推陈出新，分别创立了颜体和柳体

D.小篆、隶书、草书、楷书、行书是中国书法艺术的五种主要字体

20.下列关于历史知识的说法，正确的一项是（ ）。

A . 汉高祖时期的“酎金失侯”事件使中央集权得到加强

B . 秦统一六国后历嬴政、胡亥、子婴三帝后灭亡

C . 都江堰、郑国渠、鸿沟三项水利工程均始建于战国时期

D . 东周因周平王迁至的新都镐京在原都城洛邑的东边而得名

21.民事法律关系的客体是民事权利和民事义务共同指向的对象。在货物买卖合同关系中，其客体指()。

A.所要买卖的货物 B.货物的价格 C.买卖合同 D.交付标的物的行为

22. 下列各项，说法正确的是（ ）。

A.“连中三元”的“三元”是指秀才、举人、进士

B.我国文化将五行、五色、五方位等一一对应，红色对应的方向应该是南

C.《二十四史》中，只有《史记》是断代史，其他都是通史

D.椿萱是对他人母亲的雅称

23.下列不属于材料力学的研究范畴的是：

A.材料在外力作用下产生的应变

B.材料在外力作用下产生的刚度

C.工程结构在外力作用下的稳定性

D.导致各种材料破坏的极限

24.82 . 中国十大传世名画完成于元代的是() .

A . 王希孟 《千里江山图》

B . 顾闳中 《韩熙载夜宴图》

C . 韩偓 《五牛图》

D . 黄公望 《富春山居图》

25.第 97 题 经济全球化是 ()

A.资本主义基本矛盾发展的客观趋势

B.生产社会化发展的客观趋势

C.垄断资本主义发展的客观趋势

D.发达资本主义国家进行资本输出的客观趋势

26.某单位收发员为收集邮票，故意隐匿毁弃他人信件，其行为侵犯了宪

法规定的公民的哪项权利

A . 隐私权

B . 通信自由

C . 通讯秘密

D . 社会文化权利

四、数量关系(10 题)

27.一项工程，若甲乙丙轮流做，30 天刚好做完；若甲乙丁轮流做，36 天刚好做完；若甲乙丙丁轮流做，34 天刚好做完。问甲乙轮流做，需要多少天？

A.19 B.20 C.29 D.30

28.某村打算种 800 棵树。若把任务按定额平均分给 17 个生产队，则不能按时完成任务，若增加一个生产队则超额完成任务，则定额的值可能是：

A.40 棵 B.43 棵 C.45 棵 D.48 棵

29.公园只售两种门票：个人票每张 5 元，10 人一张的团体票每张 30 元，购买 10 张以上的团体票的可优惠 10%。甲单位 45 人逛公园，按以上规定买票，最少应付多少钱？

A.119 B.128 C.136 D.145

30.2,6,13,39,15,45,23,()

A . 69

B . 66

C . 68

D . 46

31.第 10 题 某人购房用了十万元，现出租。每月租金的 25%用作管理费

以上内容仅为本文档的试下载部分，为可阅读页数的一半内容。如要下载或阅读全文，请访问：<https://d.book118.com/588026134010006024>