

2023—2024 学年第一学期期末检测

高一地理 2024.01 (答案在最后)

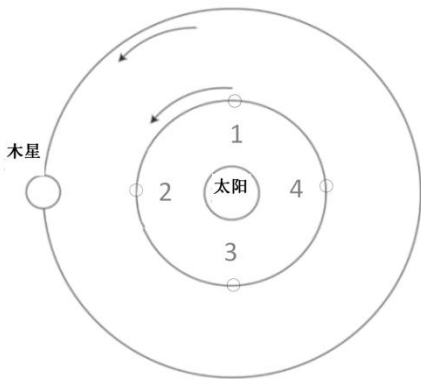
注意事项:

考生在答题前请认真阅读本注意事项及各题答题要求。

1. 本试卷共 10 页, 包含单项选择题和非选择题两部分。本次考试时间为 75 分钟, 满分 100 分。考试结束后, 请将答题卡交给监考老师。
2. 答题前, 请您务必将自己的学校、姓名、准考证号用黑色字迹的 0.5 毫米签字笔填写在试卷及答题卡上。
3. 作答选择题必须用 2B 铅笔把答题卡上对应题目的答案标号涂黑。如需改动, 请用橡皮擦干净后, 再选涂其它答案。作答综合题, 请您用黑色字迹的 0.5 毫米签字笔将答案写在答题卡上的指定位置, 在其它位置作答一律无效。
4. 如有作图需要, 可用 2B 铅笔作答, 并请加黑加粗, 描写清楚。

一、单项选择题: 共 35 题, 每题 2 分, 共 70 分。每题只有一个选项最符合题意。

木星冲日是指木星、地球和太阳几乎排列成一线, 地球位于太阳与木星之间。下图为某校学生绘制的木星冲日示意图。据此完成下面小题。



1. 木星冲日时地球处于 ()
A. 位置 1
B. 位置 2
C. 位置 3
D. 位置 4
2. 木星与地球的共同特征是 ()
A. 表面都有液态水
B. 都能够自行发光
C. 都自东向西绕日公转
D. 公转轨道都近似圆形

我国自主研发的墨子巡天望远镜(图 1), 位于青海省海西州 4200 米的高山上。其获取的仙女座星系图片如图 2 所示, 仙女座星系与银河系类似。据此完成下面小题。



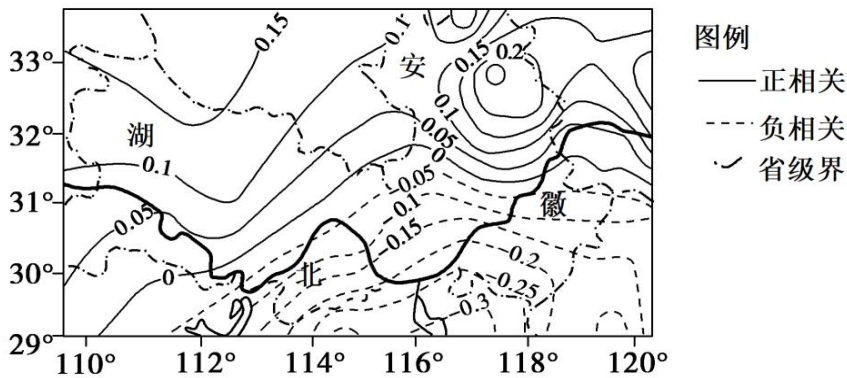
图 1



图 2

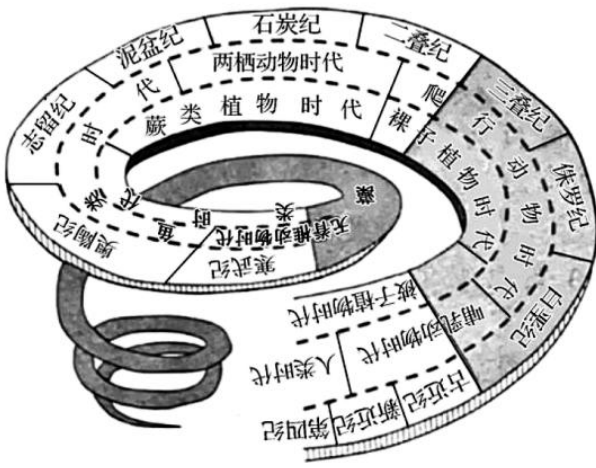
3. 墨子望远镜选址在西部远离人烟的高海拔地区，主要原因不包括（ ）
- A. 海拔高，大气稀薄
B. 晴天较多，光照条件好
C. 水汽少，云量较少
D. 人口稀疏，人类活动少
4. 仙女座星系属于（ ）
- A. 地月系
B. 太阳系
C. 河外星系
D. 星际物质

下图为某一时期太阳黑子数与我国江淮地区梅雨季节降雨强度的相关系数分布图。据此完成下面小题。



5. 图示期间，太阳黑子数与梅雨季节降雨强度（ ）
- A. 均呈正相关
B. 均呈负相关
C. 没有相关性
D. 存在相关性
6. 太阳黑子数达最大值时（ ）
- A. 通信卫星信号易受干扰
B. 江淮地区降雨增多
C. 漠河地区出现极昼现象
D. 耀斑爆发强度减弱

生物演变总是从低级到高级，从简单到复杂，从水生到陆生。煤炭是植物遗体经过生物和物理化学作用转变而成的有机矿产，地球演变过程经历过两次主要成煤期。下图为地质年代简图。据此完成下面小题。



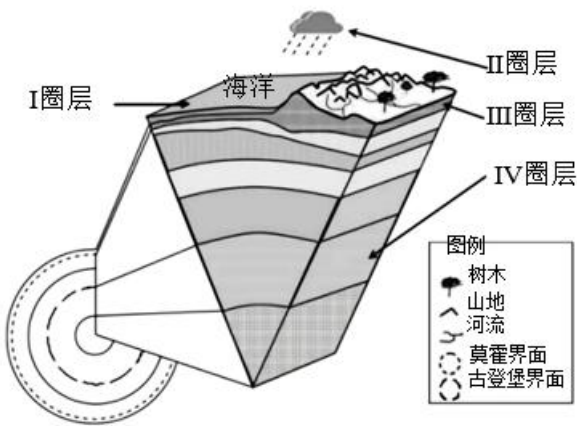
7. 关于物种演化顺序的正确说法是 ()

- A. 鸟类早于两栖类
- B. 海生藻类晚于蕨类植物
- C. 爬行类晚于鱼类
- D. 被子植物早于苔藓植物

8. 第二次成煤期主要在 ()

- A. 寒武纪和奥陶纪
- B. 石炭纪和二叠纪
- C. 侏罗纪和白垩纪
- D. 新近纪和第四纪

2023年8月6日山东德州市平原县发生5.5级地震,震源深度10千米。下图示意地球圈层结构。据此完成下面小题。



9. 此次地震的震源最可能位于 ()

- A. I 圈层
- B. II 圈层
- C. III圈层
- D. IV圈层

10. 图中 ()

- A. I 圈层的热量来自于地球内部
- B. II 圈层主要成分是氮气和氧气
- C. III圈层空间分布不连续不规则

以上内容仅为本文档的试下载部分，为可阅读页数的一半内容。如要下载或阅读全文，请访问：<https://d.book118.com/487156166142006040>