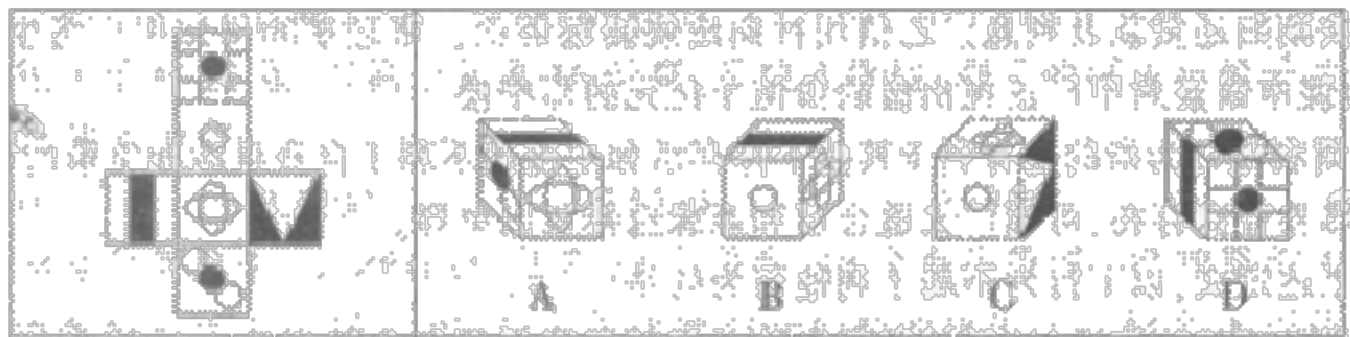


【备考 2023 年】江苏省宿迁市公务员省考 行政职业能力测验真题二卷(含答案)

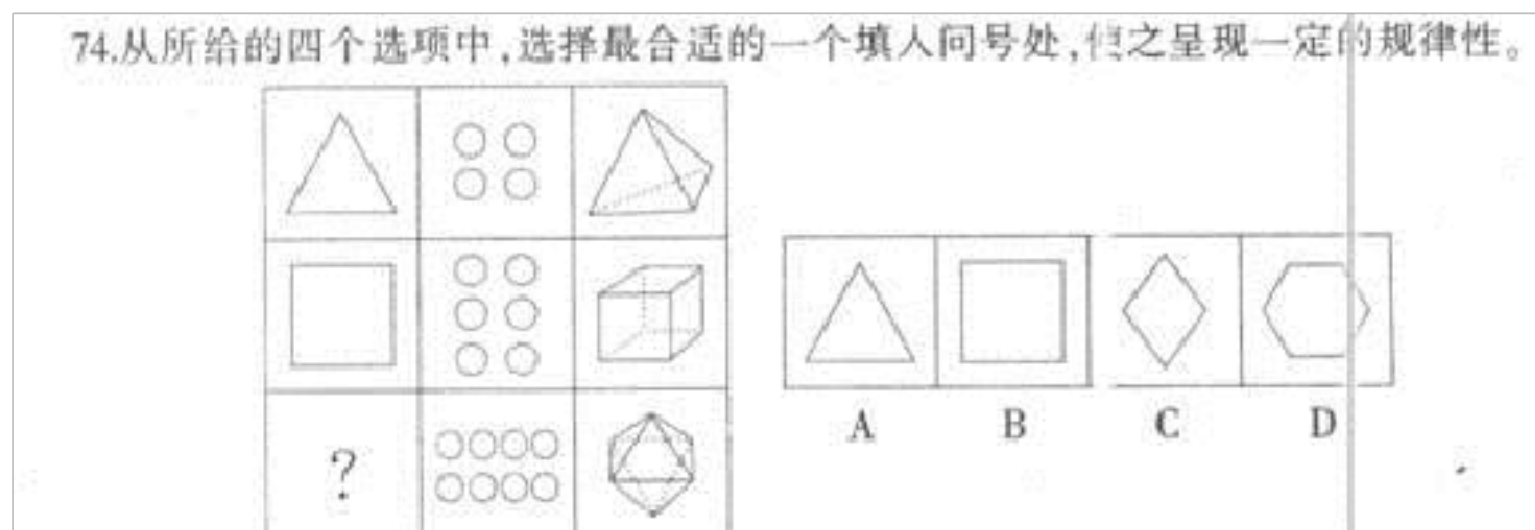
学校:_____ 班级:_____ 姓名:_____ 考号:_____

一、图形推理(6 题)

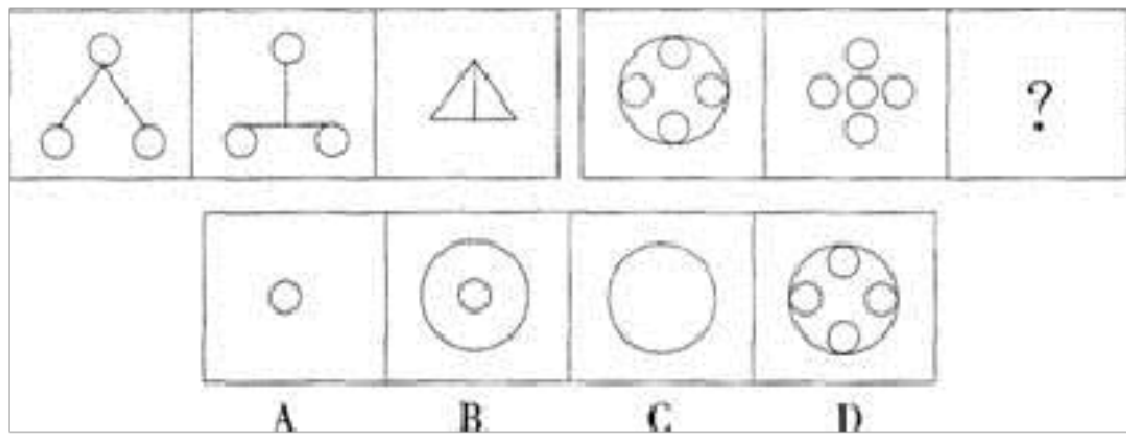
1. 左边给定的是纸盒的外表面, 下面哪一项能由它折叠而成?



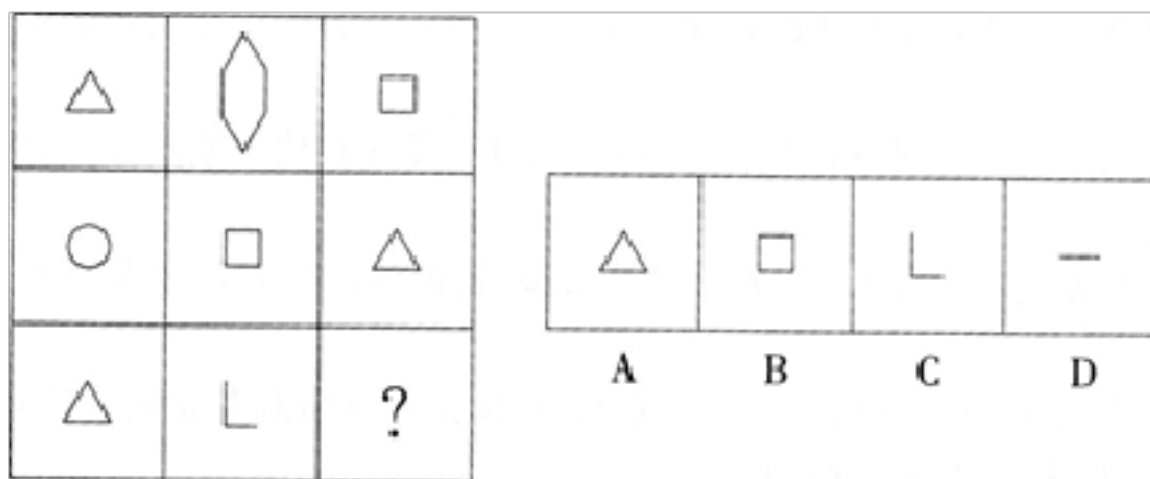
2.



3. 从所给的四个选项中, 选择最适合的一个填入问号处, 使之呈现一定的规律性:




4.从所给的四个选项中，选择最合适的一个填入问号处，使之呈现一定的规律性：

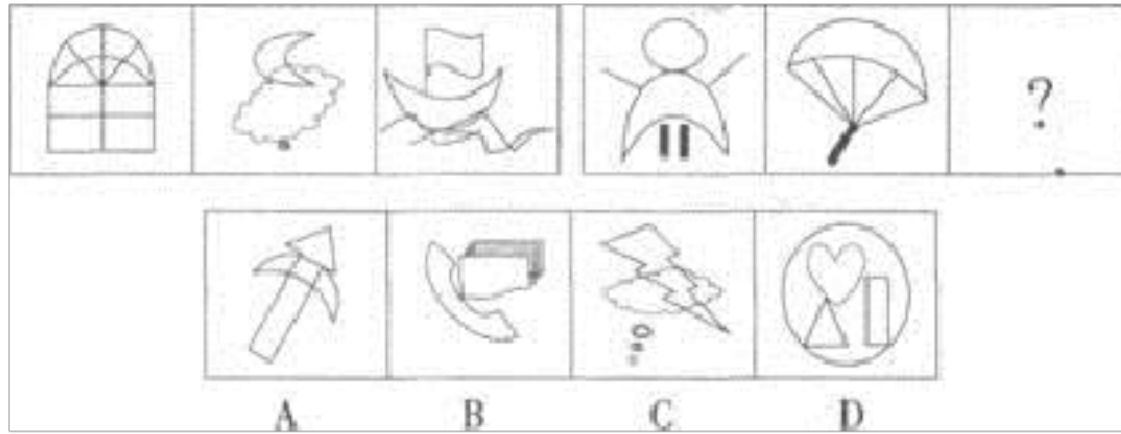


A.如上图所示 B.如上图示 C.如上图 D.如图所示

5.从所给的四个选项中，选择最合适的一个填入问号处，使之呈现一定的规律性：



6.从所给的四个选项中，选择最合适的一个填入问号处，使之呈现一定的规律性。



二、定义判断(10 题)

7. 品牌联想是指消费者看到某一特定品牌时,从他的记忆中所能被引发
出对该品牌的任何想法,包括感觉、经验、评价、品牌定位等,而这些
想法可能来自于消费者在日常生活中的各个层面。

根据上述定义,下列属于品牌联想的一项是:

- A.小芳每次用某个牌子的洗发水时,都会想起自己的初恋男友,因为他
一直用这个牌子的洗发水
- B.麦当劳的广告多是以欢乐为主题,并且富有创意,经常让人印象深刻,
甚至过目不忘
- C.大伟只要一看见南方黑芝麻糊,就觉得非常亲切,因为会回忆起童年
时喝南方黑芝麻糊的幸福时刻
- D.某位著名影星成为某国外电器品牌的代言人,各种代言广告在各大电
视台反复播放,以至于观众一看见这位影星就会想起该电器品牌

8.低碳生活是指生活作息时所耗用的能量要尽力减少,从而减低碳,特
别是二氧化碳的排放量,从而减少对大气的污染,减缓生态恶化。

根据上述定义，下列现象中不属于低碳生活的范畴的是：

- A.将废旧报纸铺垫在衣裳橱的最底层，不仅可以吸潮，还能吸收衣柜中的异味
- B.使用电脑时，尽量使用低亮度，开启程序少些，在午休和下班后关掉电脑电源
- C.选择晾晒衣物，避免使用滚筒式干衣机
- D.用跑步机上的锻炼取代在公园中慢跑

9.

低碳生活是指生活作息时所耗用的能量要尽力减少，从而减低碳，特别是二氧化碳的排放量，从而减少对大气的污染，减缓生态恶化。

根据上述定义，下列现象中不属于低碳生活的范畴的是：

- A.将废旧报纸铺垫在衣裳橱的最底层，不仅可以吸潮，还能吸收衣柜中的异味
- B.使用电脑时，尽量使用低亮度，开启程序少些，在午休和下班后关掉电脑电源
- C.选择晾晒衣物，避免使用滚筒式干衣机
- D.用跑步机上的锻炼取代在公园中慢跑

10.

许多基因影响同一单位性状的现象称为“多因一效”。另一方面，一个基因也可以影响许多性状的发育，称为“一因多效”。

根据上述定义，下列属于“一因多效”的一项是：

- A.果蝇眼睛的颜色受四十几对基因的控制
- B.豌豆中控制花色的基因也控制种皮的颜色和叶腋有无黑斑
- C.玉米叶绿素的形成至少涉及 50 对等位基因
- D.人的血型由 i、A、B 三种复等位基因决定

11.社会地位按取得的形式分为先赋地位和自致地位。先赋地位指某种被事先给定的、通常无法被改变的社会地位，自致地位指通过个人努力取得的社会地位。根据上述定义，下列属于自致地位的是：

- A.君主立宪制国家的王位继承人只能在王室家族中产生
- B.医生通常来自富裕家庭，因穷人很难承担高昂的学费
- C.通过考公务员、当村官等途径获取大城市的户口指标
- D.安史之乱后为表彰各地节度使勤王有功，默认其职位世袭

12.统计指标简称指标，是反映同类社会经济现象总体综合数量特征的范畴及其具体数值。对统计指标通常有两种理解和使用方法：一是用来反映现象总体数量状况，二是反映某种现象总体数量状况的概念和数值。统计指标按照其反映的内容或其数值表现形式，可以分为总量指标、相对指标和平均指标三种。

下列不属于统计指标的一项是（ ）。

- A.2008 年河北省国内生产总值
- B.2009 年我国年末总人口数
- C.城镇固定资产投资增长率

D.评价职工刘辉的群众满意度

13.后喻时代，指的是在当今高科技时代的某种条件下，晚辈(或学生)由于掌握了一定的新知识新技能，给先辈(或教师)传授知识和培养能力的时代。文化反哺是后喻时代的最基本特征。

根据上述定义，下列不属于后喻时代表现的是（ ）。

A.学校引进了全新的多媒体技术，张老师没用过，班长小华非常热心地演示了一遍，张老师就学会了

B.梅梅在幼儿园学会了 50 种动物的英文说法，英语专业出身的妈妈有很多都不知道，梅梅得意地教妈妈怎么读写

C.韦斯是一名出色的脑科医生，从医十多年了，不过最近他碰到了—个非常棘手的手术，为了保证手术成功，他邀请了大学的博士生导师前来指导

D.建辉去日本留学期间，学到了一种新的基因技术，学成之后，他迫不及待地回国跟身为生物学院士的爷爷分享

14.精益管理要求企业的各项活动都必须运用“精益思维”。“精益思维”的核心就是以最小资源投入，包括人力、设备、资金、材料、时间和空间，创造出尽可能多的价值，为顾客提供新产品和及时的服务。

根据上述定义，下列符合精益管理理念的是：

A.由于金融危机影响销售。造成了多余的库存积压

- B.通过招人扩大企业规模。进而生产出更多的产品
- C.生产过程中提倡节约，减少每道工序的操作人员
- D.推出送货上门服务，但需向消费者收取额外费用

15.永续设计是一种以符合经济、社会及生态学三者永续经营为方针的设计方法。永续设计的范畴很广，小至日常生活用品，大至建筑设计、都市设计、乃至地球的物理环境都在其内。根据上述定义，下列不属于永续设计的是：

- A.汽车工业以维修及拆解回收为前提使用钢铁、铝、玻璃等可回收材料
- B.自动化建筑以设置替代能源如太阳能发电、雨水收集系统等降低对外部能源的依赖
- C.尽管人们对核电站的存在有一定的恐慌，日本仍大力发展核电以减少碳排放
- D.农药规约与土壤保护计划在维持足够产量的前提下尽量降低农药用量减少生态危害

16. 行政处理，是行政主体为了实现相应法律、法规和规章确定的行政管理目标和任务，应行政相对人申请或依职权处理涉及特定行政相对人特定权利义务事项的具体行政行为。所谓行政相对人是指在行政法律关系中与行政主体相对应的另一方当事人。

根据上述定义，下列行为属于行政处理的是（ ）。

- A.中央做出开发西部的战略计划
- B.全国人大提出修改《婚姻法》
- C.行政机关主持的对特定纠纷进行的诉讼外调解
- D.公安机关逮捕犯罪人员

三、常识判断(10 题)

17.第 115 题 最早确认“公民在法律面前一律平等”这一原则的是 ()。

- A.1689 年英国《权利法案》
- B.1776 年美国《独立宣言》
- C.1787 年美国《宪法》
- D.1789 年法国《人权宣言》

18.中国传统文化是中华文明演化而汇集成的一种反映民族特质和风貌的民族文化，是民族历史上各种思想文化、观念形态的总体表征，是具有鲜明民族特色的、历史悠久、内涵博大精深、传统优良的文化，是中华民族几千年文明的结晶。学习完中国古代历史，探究小组的同学撰写了多篇历史小论文，下列论文的题目不准确的是：

- A.《丝绸之路与文化的传播》
- B.《齐民要术与西学东渐》
- C.《坊市制度与城市布局》
- D.《内阁制度与专制皇权》

19.跨国公司是由 ()。

- A.联合国有关机构出资建立起来的
- B.原料出口国共同投资建立起来的
- C.一国的或以一国的垄断组织为主建立起来的
- D.多个国家的垄断组织共同建立起来的

20. “东周时期(公元前 771 ~ 公元前 256 年), 王朝软弱无力, 封建主相互混战不绝, 表面上是个多事的时期. 不过, 这也是一个社会经济发生根本变革, 从而决定而且永久地决定中国发展进程的时期.”下列说法正确的是 ().

- A. “王朝软弱无力”指中央集权制度的建立
- B. “经济变革”指土地私有制逐步代替井田制
- C. “多事”指“百家争鸣”局面的出现
- D. “封建主”指新兴地主阶级的产生

21. 炎热的夏天, 当你走在晒得发烫的柏油路上时, 碰巧一辆洒水车洒湿了路面, 这时你会感到更加的热。产生这种感觉的主要的原因是 :

- A. 水蒸发时把里面的热量带到了人身上
- B. 洒水后空气湿度增加, 身上的汗很难蒸发
- C. 地面上的水反射了阳光, 使身体得到更多的热量
- D. 洒水车中的水经过曝晒, 内能增加, 温度升高

22. 下列关于生活常识的说法中, 错误的是 ()。

- A . 如不慎打碎体温计, 可在水银的细粒上撒些硫黄粉末, 以减少危害
- B . 抗生素类的药物宜在饭前服用, 有利于更好地吸收
- C . 自来水烧开后不宜立即饮用, 应继续煮沸 3—5 分钟再熄火

D. 酒越陈越香，是因为白酒中的乙醇和乙酸发生化学反应，生成的乙酸乙酯具有香味

23.从隋唐开始，中央行政机构中分为吏、户、礼、兵、刑、工六部，分别掌管不同的事务。其中，吏部是()。

A.管理文职官员的机关

B.掌管全国疆土、田地、户籍、赋税、俸饷及一切财政事宜的机关

C.管理全国学校事务及科举考试、外交事务的机关

D.掌管全国刑罚政令及审核刑名的机构

24. 承担侵权责任的方式不包括：

A.排除妨碍 B.消除危险 C.返还财产 D.查封场所

25.

地球上只有温带才有明显的四季变化，而寒带和热带则是长冬无夏和长夏无冬。其原因是：

A.地球绕太阳公转时地轴和公转轨道有一定的夹角所致

B.寒带的冰雪太多，无法构成四季变化

C.热带的地形地貌构成使之不易散热

D.是由地球自转引起的

26.计算机病毒是指 ()

A.编制有错误的计算机程序 B.设计不完善的计算机程序 C.计算机的程序已被破坏 D.以危害系统为目的的特殊的计算机程序

四、数量关系(10 题)

27.

两个自然数相除所得商为 40，余数为 1，被除数、除数、商及余数的和为 165，除数和被除数分别为（ ）。

A.121, 3 B.124, 3 C.3, 121 D.3, 1240

28.

第 41 题 如果现在是 18 点整,那么分针旋转 1990 圈之后是几点钟?()

- A. 16
- B. 17
- C. 18
- D. 19

29.

甲商品按标价出售可获利 10 元，九折出售后可获利 10%；乙商品按标价出售可获利 20%，九折出售可获利 20 元。问甲商品的成本价比乙商品的成本价：

A.高 100 元 B.低 100 元 C.高 205 元 D.低 205 元

30. 从 1、2、3、4、5、6、7、8、9 这几个数字中选择 3 个数字，使它们的乘积能够被 9 整除，问共有多少种不同的方法？

A.34 B.36 C.27 D.25

31.甲、乙两名工人加工了一批零件，甲先花去 2.5 小时改装机器，因此前 4 小时甲比乙少加工 400 个零件；又同时加工 4 小时后，甲总共加工

以上内容仅为本文档的试下载部分，为可阅读页数的一半内容。如要下载或阅读全文，请访问：<https://d.book118.com/437013154141006032>