

# 一升二年级暑假数学天天练（30套）

第一周 星期一

用时：（ ）分

## 一、直接写得数。

$32 \div 4 =$        $8 \div 19 =$        $6 \div 39 =$        $64 \div 8 =$        $63 \div 7 =$

$48 \div 6 =$        $28 \div 4 =$        $24 \div 8 =$        $15 \div 5 =$        $840 - 500 =$

## 二、竖式计算。

$63 \div 9 =$        $80 - 46 =$        $46 \div 6 =$        $27 \div 9 =$        $19 \div 2 =$

## 三、脱式计算。

$85 - 27 + 18$

$(44 - 26) \div 3$

$6 + 5 \times 4$

$36 - (27 - 18)$

$64 - 56 \div 7$

$42 \div 6 \times 8$

## 四、应用题。

1. 小明看一本书；每天看 7 页；6 天后还剩 21 页；小明看完这本书一共需要多少天？

2. 同学们去看电影。一年级去了 6 组，每组 7 人；二年级去了 45 人。二年级比一年级多去多少人？

3. 老师出了 20 道乘法算式，16 道除法算式。苗苗算了 32 道，还有几道没算？

4. 同学们去植树，一年级栽了 47 棵，二年级栽了 54 棵，三年级栽的比一、二年级栽的总棵数少 17 棵。三年级栽了多少棵树？

5. 一根绳子长 50 米，第一次剪 6 米，第二次剪 8 米，这绳子比原来短多少米？

参考答案：

一、8 9 7 8 9

8 7 3 3 240

二、7 34 7……4

3 9……1

三、76 6 56

27 56 56

四、1.  $21 \div 7 + 6 = 9$  (天)

2.  $42 - 6 \times 7 = 3$  (人)

3.  $20 + 16 - 32 = 4$  (道)

4.  $47 + 54 - 17 = 84$  (棵)

5.  $6 + 8 = 14$  (米)

# 一升二年级暑假数学天天练 ( 30 套 )

第一周 星期二

用时：( ) 分

## 一、直接写得数。

$7 \times 4 =$

$56 + 6 =$

$63 \div 7 =$

$600 + 3000 =$

$25 \div 5 =$

$6 \times 7 =$

$8 \times 9 =$

$200 - 70 =$

$64 \div 8 =$

$48 + 25 =$

## 二、竖式计算。

$29 \div 8 =$

$42 \div 7 =$

$61 \div 9 =$

$42 \div 8 =$

$64 \div 7 =$

## 三、脱式计算。

$40 - 15 \div 5$

$18 + 8 \times 9$

$56 \div (25 - 18)$

$80 - 5 \times 7$

$81 \div 9 \div 9$

$86 - (34 + 33)$

## 四、应用题。

1. 一个足球 7 元，4 个篮球 36 元，哪种球比较便宜？便宜多少钱？

2. 小明有 86 张画片，送给小方 18 张，送给小云 35 张。小明还剩多少张？

3. 有 45 人在做操，其中女生有 3 排，每排 6 人。男生有多少人？

4. 小华、小芳去买铅笔。小芳买了 21 支，小华买了 30 支，小华比小芳多花了 2 元 7 角。一支铅笔多少钱？

5. 李明去文具店买笔记本，原来是 35 元 5 本，现在降价促销，买 6 本 30 元。现在每本多少元？现在每本比原来便宜多少元？

参考答案：

一、 28 62 9 3600 5

42 72 130 8 73

二、  $3 \cdots 5$  6  $6 \cdots 7$

$5 \cdots 2$   $9 \cdots 1$

三、 37 90 8

45 1 19

四、 1.  $36 \div 4 = 9$  (元)  $7 < 9$  足球比较便宜，便宜 2 元。

2.  $86 - 18 - 35 = 33$  (张)

3.  $45 - 3 \times 6 = 27$  (人)

4. 2 元 7 角 = 27 角  $30 - 21 = 9$  (支)  $27 \div 9 = 3$  (角)

5.  $30 \div 6 = 5$  (元)  $35 \div 5 = 7$  (元)  $7 - 5 = 2$  (元)

# 一升二年级暑假数学天天练 ( 30 套 )

第一周 星期三

用时：( ) 分

## 一、直接写得数。

$18 \div 9 =$        $4 \times 3 =$        $16 \div 4 =$        $81 \div 9 =$        $45 \div 5 =$

$120 + 200 =$        $400 + 700 =$        $6000 - 5000 =$        $12 \div 6 =$        $6 \times 5 =$

## 二、竖式计算。

$72 \div 8 =$        $60 \div 7 =$        $39 \div 6 =$        $43 \div 9 =$        $19 + 81 =$

## 三、脱式计算。


$22 + 18 - 9$        $90 - (14 + 27)$        $45 \div (3 \times 3)$

$68 - 19 + 25$        $64 - 56 \div 7$        $(18 + 36) \div 9$

## 四、应用题。

1. 李老师买羽毛球。买了 6 筒，共有 48 个羽毛球，平均每筒有多少个羽毛球？

2. 分西瓜。每个西瓜切成 8 块，平均每人可以分到几块？



3. (1) 有 18 只兔子, 平均装在 2 个笼里, 每个笼装几只?

(2) 有 18 只兔子, 装在 2 个笼里, 一个装 6 只, 剩下另一个装几只?

4. 把这些风车平均分给 8 个小朋友, 每个小朋友分几个风车?

我们用了4张纸,  
每张纸做6个风车。



5. 三年级买来科技书 18 本, 故事书 24 本。把这些书平均分给三年级六个班, 平均每个班分多少本?



参考答案：

一、 2 12 4 9 9

320 1100 1000 2 30

二、 9  $8\cdots\cdots 4$   $6\cdots\cdots 3$

$4\cdots\cdots 7$  100

三、 31 49 5

74 56 6

四、 1.  $48 \div 6 = 8$  (个)

2.  $3 \times 8 = 24$  (块)  $24 \div 4 = 6$  (块)

3. (1)  $18 \div 2 = 9$  (只) (2)  $18 - 6 = 12$  (只)

4.  $4 \times 6 = 24$  (个)  $24 \div 8 = 3$  (个)

5.  $(18 + 24) \div 6 = 7$  (本)

# 一升二年级暑假数学天天练 (30套)

第一周 星期四

用时：( ) 分

## 一、直接写得数。

$70 + 50 =$        $800 - 300 =$        $6 \times 4 =$        $72 \div 9 =$        $28 \div 7 =$

$18 \div 6 =$        $84 - 20 =$        $5 \times 7 =$        $48 \div 8 =$        $4000 + 300 =$

## 二、竖式计算。

$26 \div 3 =$        $45 \div 6 =$        $80 \div 9 =$        $58 \div 6 =$        $76 - 19 =$

## 三、脱式计算。

$64 \div 8 \times 7$        $3 \times 3 \times 8$        $40 \div 5 \times 8$


$72 \div 8 \times 5$        $2 \times (9 \div 3)$        $63 \div 7 \times 6$

## 四、应用题。

1. 爸爸打算买 4 盆蝴蝶兰和 1 盆仙人掌，一共需要多少元？



每盆6元




每盆18元

2. 至少需要多少次才能全部运完？最后一次运几个桃子？




3. 4 只青蛙都跳上去，可以吗？

4. (1) 苹果和梨一共有多少千克？



280 千克



340 千克

(2) 梨比苹果多多少千克？

5. 图书室还剩多少本书？

图书室一共有100本书。



二(1)班借走了36本，二(2)班借走了44本。

参考答案：

一、120 500 24 8 4

3 64 35 6 4300

二、8……2 7……3 8……8

9……4 57

三、56 72 64

45 6 54

四、1.  $6 \times 4 + 18 = 42$  (元)

2.  $76 \div 9 = 8$  (次) ……4 (个)  $8 + 1 = 9$  (次)

3.  $300 + 300 + 300 + 300 = 1200$  (克) 1 千克 = 1000 克  $1000 < 1200$   
不可以。

4. (1)  $280 + 340 = 620$  (千克) (2)  $340 - 280 = 60$  (千克)

5.  $100 - (36 + 44) = 20$  (本)

# 一升二年级暑假数学天天练 ( 30 套 )

第一周 星期五

用时：( ) 分

## 一、直接写得数。

$70+90=$        $120-70=$        $40\div 8=$        $63-29=$        $54\div 6=$

$1000-800=$        $42\div 6=$        $400+600=$        $600-300=$        $50+28=$

## 二、竖式计算。

$39\div 5=$        $28\div 4=$        $59\div 8=$        $100-27=$        $67-39=$

## 三、脱式计算。

$64\div 8\div 2$        $20\div 5\times 6$        $5\times 8+23$

$36\div 4\div 3$        $7\times 9-17$        $6\times 6+15$

## 四、应用题。

1. 买这两样东西大约要用多少元钱？




948元



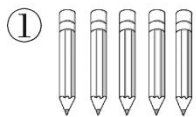
395元

2. 食堂购进了 56 袋大米，已经吃了 24 袋，剩下的还够吃 8 天，平均每天吃几袋大米？

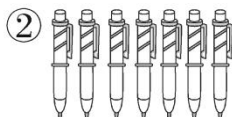
3. 岸上有 25 人，水中有 37 人。有 70 个救生圈，每人分 1 个，还剩几个救生圈？（用两种方法计算）



4. 哪一种笔最便宜？



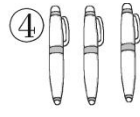
5支10元



7支21元



1支4元



3支9元

5. 小明在图书馆借了一本 70 页的故事书，计划每天看 9 页，他至少多少天才能看完这本书？

问题中出现“至少”，说明计算出商后，结果要加“1”。



参考答案：

一、160 50 5 34 9

200 7 1000 300 78

二、 $7\cdots\cdots 4$  7  $7\cdots\cdots 3$

73 28

三、4 24 63

3 46 51

四、1.  $1000+400=1400$  元

2.  $(56-24)\div 8 =4$ (袋)

3. 方法一： $70-25-37=8$ (个)

方法二： $70-(25+37)=8$ (个)

4.  $10\div 5=2$ (元)  $21\div 7=3$ (元)  $4\div 1=4$ (元)  $9\div 3=3$ (元) 2

$<3< 4$  ①号笔最便宜。

5.  $70\div 9=7$ (天) $\cdots\cdots 7$ (页)  $7+1=8$ (天)

# 一升二年级暑假数学天天练（30套）

第二周 星期一

用时：（ ）分

## 一、直接写得数。

$24 \div 8 =$        $9 \div 9 =$        $1500 - 700 =$        $9000 - 4000 =$        $800 + 900 =$

$7 \times 9 =$        $50 + 70 =$        $45 \div 5 =$        $48 \div 6 =$        $27 + 8 =$

## 二、竖式计算。

$56 \div 7 =$        $39 \div 6 =$        $76 \div 8 =$        $38 + 45 =$        $96 - 68 =$

## 三、脱式计算。

$4 \times (9 - 6)$        $52 + 8 \times 4$        $7 \times 9 - 5$

$48 \div (24 \div 4)$        $89 - (39 - 23)$        $(2 + 7) \times 8$

## 四、应用题。


1. 有 50 个苹果，每袋装 8 个，最少要装多少袋才能全部装完？

2. 商店有电脑 245 台，售出了 128，又运来 102 台，现在商店里有电脑多少台？



3. 明明、亮亮、奇奇一起收集画片。明明收集了 154 张画片，亮亮比明明多收集了 26 张，比奇奇多收集了 47 张。亮亮和奇奇各收集了几张画片？

4. 这些同学一共踢了多少下？



5. 一块橡皮 9 角钱，4 元可以买几块，还剩几角？

参考答案：

一、 3 1 800 5000

1700 63 120 9

8 35

二、 8 6……3 9……4

83 28

三、 12 84 58

8 73 72

四、 1.  $50 \div 8 = 6$ （袋）……2（个）

2.  $245 - 128 + 102 = 219$ （台）

3.  $154 + 26 = 180$ （张）  $180 - 47 = 133$ （张）

4.  $4 \times 8 = 32$ （下）  $32 + 28 = 60$ （下）

5. 4元=40角  $40 \div 9 = 4$ （块）……4（角）

# 一升二年级暑假数学天天练 ( 30 套 )

第二周 星期二

用时：( ) 分

## 一、直接写得数。

$7 \times 6 =$        $36 \div 6 =$        $10 \div 2 =$        $72 \div 8 =$        $18 \div 3 =$

$8 \times 8 =$        $48 \div 6 =$        $900 + 800 =$        $24 \div 8 =$        $32 \div 4 =$

## 二、竖式计算。

$29 \div 8 =$        $45 \div 7 =$        $44 \div 5 =$        $61 \div 8 =$        $93 - 58 =$

## 三、脱式计算。

$7 \times 3 + 18$

$32 \div 4 + 25$

$64 \div (24 - 16)$

$(22 + 18) \div 8$

$60 - (35 - 15)$

$78 - 45 \div 9$

## 四、应用题。


1. 原来一个皮球 12 元，现在降价促销，一次买 4 个共 36 元，现在每个皮球多少元？比原来便宜多少元？

2. 同学们买了 6 束花，每束 7 朵，送给养老院一些后还剩 19 朵，送给养老院多少朵？

3. 二（2）班要栽 45 棵树，平均分给 6 个植树小组，剩余的树苗由李老师来栽。每个植树小组要栽几棵树？李老师要栽几棵树？

4. 二（3）班栽的杨树有 5 行，每行 7 棵；栽的柳树共 16 棵。二（3）班栽的杨树和柳树共有多少棵？

5. 王老师带领同学们去动物园玩，买门票一共花了 38 元，有多少名同学去了动物园？



参考答案：

一、42 6 5 9

6 64 8 1700

3 8

二、 $3\cdots\cdots 5$   $6\cdots\cdots 3$   $8\cdots\cdots 4$

$7\cdots\cdots 5$  35

三、39 33 8

5 40 73

四、1.  $36\div 4=9$ （元）  $12-9=3$ （元）

2.  $6\times 7-19=23$ （朵）

3.  $45\div 6=7$ （棵） $\cdots\cdots 3$ （棵）

4.  $5\times 7+16=51$ （棵）

5.  $38-8=30$ （元）  $30\div 6=5$ （名）

# 一升二年级暑假数学天天练 ( 30 套 )

第二周 星期三

用时：( ) 分

## 一、直接写得数。

$36 \div 9 =$        $7 \times 5 =$        $32 \div 8 =$        $3200 + 4000 =$        $5 \times 4 =$

$18 \div 6 =$        $4 \times 4 =$        $5000 - 1000 =$        $42 \div 6 =$        $4 \times 4 =$

## 二、竖式计算。

$64 \div 8 =$        $48 \div 9 =$        $47 \div 7 =$        $47 \div 5 =$        $71 \div 8 =$

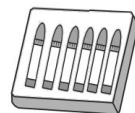
## 三、脱式计算。

$41 - 56 \div 7$        $300 + 800 - 500$        $45 \div (9 - 4)$

$63 \div 9 \times 4$        $71 - (25 - 24)$        $87 - 27 + 16$

## 四、应用题。

1. 暑假里小伟捡饮料瓶，一共挣了 50 元钱，他用这些钱买了一盒蜡笔和 1 个调色盘后，还剩多少钱？(用两种方法解答)



25元



18元

2. 文文和东东比赛写字，文文今天写了 43 个大字，东东写了 38 个大字，东东下午写了 26 个，他上午写的字和文文一样多，文文下午写了多少个大字？

3. 李大爷有高血压需长期吃药，医生嘱咐他每天吃 6 片。李大爷有事要外出 8 天，药瓶已有 24 片药，应再放多少片药就够了？

4. 低年级共有 9 个班，每个班选出男女同学各 4 名参加跳绳比赛。低年级共有多少名参赛选手？

5. 王奶奶准备买 7 块蛋糕，她怎样买合适？



单买：每块8元

优惠：买9块及以上每块便宜2元

参考答案:

一、4 35 4 7200

20 3 16 4000

7 16

二、8  $5\cdots\cdots 3$   $6\cdots\cdots 5$

$9\cdots\cdots 2$   $8\cdots\cdots 7$

三、33 600 9

28 70 76

四、1. 方法一： $50-25-18=7$ (元) 方法二： $50-(25+18)=7$ (元)

2.  $38-26=12$ (个)  $43-12=31$ (个)

3.  $6\times 8-24=24$ (片)

4.  $(4+4)\times 9=72$ (名)

5. 单买： $7\times 8=56$ (元)

优惠： $8-2=6$ (元)  $6\times 9=54$ (元) 所以买9 块合适。



# 一升二年级暑假数学天天练（30套）

第二周

星期四

用时：（ ）分

## 一、直接写得数。

$9000 - 5000 =$      $76 + 23 =$      $48 \div 6 =$      $50 - 35 =$      $72 \div 9 =$

$400 - 100 =$      $7 \times 3 =$      $25 + 38 =$      $500 - 300 =$      $5 \times 9 =$

## 二、竖式计算。

$32 \div 4$

$46 \div 6$

$27 \div 9$

$22 \div 3$

$60 \div 7$

## 三、脱式计算。

$81 - 33 + 47$

$43 + 2 \times 9$

$90 - (35 - 27)$

$(36 + 20) \div 8$

$4 + 27 - 16$

$99 + (25 - 24)$

## 四、应用题。

1、超市原来有 35 个风车，卖出 28 个后，又运来 30 个，这时超市有风车多少个？

2、同学们要栽 65 棵树，已经栽了 6 行，每行 8 棵，还要栽多少棵？

3、小明说：“我买了4袋饼干花了24元。”小刚说：“我买了1本书花了9元。”（1）一袋饼干几元钱？（2）50元最多能买几本书？

4、小兰家有6只母鸡。2只公鸡。如果每天每只产鸡蛋1枚，一周共产鸡蛋多少枚？

5、老师把47本故事书平均分给6个同学，每个同学分到几本？还剩多少本？

参考答案：

一、4000 99 8 15

8 300 21 63

200 45

二、8 7……4 3

7……1 8……4

三、95 61 82

7 15 100

四、1、 $35-28+30=37$ （个）

2、 $65-6\times 8=17$ （棵）

3、 $24\div 4=6$ 元  $50\div 9=5$ 本……5元

4、 $6\times 7=42$ 枚

5、 $47\div 6=7$ 本……5本

# 一升二年级暑假数学天天练（30套）

第二周 星期五 用时：（ ）分

## 一、直接写得数。

$$\begin{array}{ccccc} 8 \div 1 = & 5 \times 9 = & 160 - 80 = & 3000 - 500 = & 7 \times 7 = \\ 56 \div 8 = & 700 + 600 = & 5000 + 300 = & 20 \div 4 = & 36 \div 9 = \end{array}$$

## 二、竖式计算。

$$29 \div 8 = \quad 44 \div 5 = \quad 64 \div 9 = \quad 45 \div 7 = \quad 48 \div 6 =$$


## 三、脱式计算。

$$68 + 19 - 25 \qquad 24 - 56 \div 8 \qquad 6 \times 6 \div 9$$

$$61 - (90 - 54) \qquad (52 + 11) \div 9 \qquad 73 - 23 - 4$$

## 四、应用题。

1. 有 50 个梨，每盘最多放 8 个，至少要多少个盘子才能放得下？
  
2. 世纪广场举办消夏音乐会，需要 1500 把椅子，先搬来七百多把椅子，又搬来八百多把椅子，够了吗？

3. 用一些小棒摆  , 可以摆 4 个; 若用这些小棒摆  $\triangle$ , 可以摆几个?

4. 星期天妈妈买来 22 枝百合和 26 枝郁金香, 每 8 枝花插一瓶, 这些花可以插几瓶?

5. 有 50 箱矿泉水, 张阿姨每次最多只能运 6 箱, 至少要多少次才能把这些矿泉水全部运完?

参考答案:

一、8 45 80 2500

49 7 1300 5300

5 4

二、 $3\cdots\cdots 5$   $8\cdots\cdots 4$   $7\cdots\cdots 1$

$6\cdots\cdots 3$  8

三、62 17 4

25 7 46

四、1.  $50\div 8=6$  (个)  $\cdots\cdots 2$  (个)  $6+1=7$  (个)

2. 七百多 $>700$  八百多 $>800$  因为  $700+800=1500$ , 所以七百多+八百多 $>1500$ , 够了。

3.  $6\times 4=24$  (根)  $24\div 3=8$  (个)

4.  $(22+26)\div 8=6$  (瓶)

5.  $50\div 6=8$  (次)  $\cdots\cdots 2$  (箱)  $8+1=9$  (次)

# 一升二年级暑假数学天天练（30套）

第三周 星期一

用时：（ ）分

## 一、直接写得数。

$81 \div 9 =$        $160 - 80 =$        $900 + 600 =$        $8000 - 5000 =$        $300 + 330 =$

$20 \div 5 =$        $3 \times 6 \div 2 =$        $45 \div 9 \times 4 =$        $5 \times 7 =$        $32 \div 8 =$

## 二、竖式计算。

$50 \div 6 =$        $78 \div 8 =$        $40 \div 5 =$        $19 \div 2 =$        $59 + 12 =$

## 三、脱式计算。

$81 - 33 + 47$

$64 - (36 + 8)$

$(78 - 69) \times 4$

$(60 - 12) \div 6$

$800 - (48 + 52)$

$14 + 21 \div 7$

## 应用题。

1. 有 32 盆花，分别摆在教室里。如果每个教室里摆 6 盆，可以摆几个教室？还剩几盆？

2. 货运列车每分钟行驶 800 米，高速动车每分钟行驶 3500 米。高速动车每分钟比货运列车多行驶多少米？

3. 学校广播体操表演队有 20 名男生，16 名女生。如果平均排成 6 行，每行有多少人？
  
4. 今天学校要发放 43 盒学生饮用奶，已经发了 4 个班，每班发 9 盒。还要再发放多少盒学生饮用奶？
  
5. 吴老师带 37 个学生去划船，每条船限坐 5 人。吴老师至少要租几条船？



参考答案：

一、 9 80 1500 3000

630 4 9 20 35 4

二、  $8\cdots\cdots 2$   $9\cdots\cdots 6$  8

$9\cdots\cdots 1$  71

三、 95 20 36

8 700 17

四、 1. (1)  $32 \div 6 = 5(\text{个}) \cdots\cdots 2(\text{盆})$  (2)  $32 \div 4 = 8(\text{盆})$

2.  $3500 - 800 = 2700(\text{米})$

3.  $(20+16) \div 6 = 6(\text{人})$

4.  $43 - 4 \times 9 = 7(\text{盒})$

5.  $37+1=38(\text{人})$   $38 \div 5=7(\text{条}) \cdots\cdots 3(\text{人})$   $7+1=8(\text{条})$

# 一升二年级暑假数学天天练（30套）

第三周 星期二

用时：（ ）分

## 一、直接写得数。

$81 \div 9 =$        $40 \div 5 =$        $7000 - 5000 =$        $40 \div 8 =$        $900 + 600 =$

$1200 - 800 =$        $42 \div 7 =$        $63 \div 7 =$        $72 \div 9 =$        $18 \div 3 =$

## 二、竖式计算。

$46 \div 6 =$        $20 \div 4 =$        $60 \div 9 =$        $72 \div 8 =$        $55 - 26 =$

## 三、脱式计算。

$27 + 43 - 25$

$45 - 45 \div 9$

$64 + 36 - 45$

$24 + 8 \times 6$

$81 - (35 + 28)$

$63 - 42 \div 7$

## 四、应用题。

1. 二（一）班有 49 名学生平均分成 7 个小组，每个小组多少名学生？

2. 王叔叔要做 52 个灯笼，他每天最多做 8 个，至少需要多少天才能完成？

3. 同学们要栽 78 棵树。已经栽了 6 行, 每行栽 8 棵还要栽多少棵?

4. 同学们去划船, 每条船坐 7 人, 需要, 8 条船, 如果每条船坐 8 人, 那么需要多少条船?

5. 下面是二 (1) 班同学喜欢的体育运动统计表。

体育运动 篮球 羽毛球 乒乓球 跳绳

人数/人 6 10 18 12

体育运动	篮球	羽毛球	乒乓球	跳绳
人数 / 人	6	10	18	12

(1) 喜欢 ( ) 的同学最多, 喜欢 ( ) 的同学最少, 它们相差 ( ) 人。

(2) 二 (1) 班一共多少人?

参考答案：

一、 9 8 2000 5 1500

400 6 9 8 6

二、  $7\cdots\cdots 4$  5  $6\cdots\cdots 6$

9 29

三、 45 40 55

72 18 57

四、 1.  $49 \div 7 = 7$  (名)

2.  $52 \div 8 = 6$  (天)  $\cdots\cdots 4$  (个)  $6 + 1 = 7$  (天)

3.  $6 \times 8 = 48$  (棵)  $78 - 48 = 30$  (棵)

4.  $7 \times 8 \div 8 = 7$  (条)

5. (1) 乒乓球 篮球 12 (2)  $6 + 18 + 10 + 12 = 46$  (人)

# 一升二年级暑假数学天天练（30套）

第三周

星期三

用时：（ ）分

## 一、直接写得数。

$12 \div 3 =$

$3 + 9 =$

$21 \div 7 =$

$3 \times 6 =$

$27 - 9 =$

$48 \div 8 =$

$18 \div 2 =$

$35 \div 5 =$

$25 \div 5 =$

$36 \div 6 =$

## 二、竖式计算。

$458 \div 9 =$

$64 \div 8 =$

$39 \div 7 =$

$32 \div 5 =$

$89 - 62 =$

## 三、脱式计算。

$8 \div 4 \times 7$

$56 + 9 \div 3$

$28 + 58 - 39$

$81 \div (37 - 28)$

$24 + 48 \div 8$

$(39 + 24) \div 9$

## 四、应用题。

1. 老师带学生去公园游玩，老师说我们一共有 36 人，需要交船费 72 元，每条船限乘 4 人。（1）需要租几条船？

（2）每条船的租金是多少元？

2. 星期日同学们去游乐园，门票每张 6 元。小丽带了 50 元钱，最多可以买几张门票？

3. 班上组织活动，6 个小朋友一组，二（1）班一共有 40 人，则他们班至少需要几张桌子？

4. 聪聪和明明买了一本相同的故事书，聪聪每天看 9 页，4 天看完了。明明每天看 6 页，几天才能看完？

5. 按○££●●●○££●●●○££●……这样的顺序排下去，第 50 个图形是什么？

参考答案：

一、4 12 3 18 18

6 9 7 5 6

二、5……4 8 5……4

6……2 27

三、14 59 47

9 30 7

四、1. (1)  $36 \div 4 = 9$  (条) (2)  $72 \div 9 = 8$  (元)

2.  $50 \div 8 = 8$  (张) ……2 (元)

3.  $40 \div 6 = 6$  (张) ……4 (人)  $6 + 1 = 7$  (张)

4.  $9 \times 4 \div 6 = 6$  (天)

5.  $50 \div 6 = 8$  (组) ……2 (个) 是£

# 一升二年级暑假数学天天练（30套）

第三周

星期四

用时：（ ）分

## 一、直接写得数。

$56 \div 7 =$        $38 + 12 =$        $60 - 40 =$        $150 + 50 =$        $5 \times 5 =$

$9000 - 8000 =$        $90 + 70 =$        $1600 - 700 =$        $6 \div 6 =$        $8 \times 4 =$

## 二、竖式计算。

$47 \div 7 =$        $81 \div 9 =$        $52 \div 6 =$        $30 \div 5 =$        $40 \div 7 =$

## 三、脱式计算。

$24 \div 3 \times 2$

$8 \times (65 - 58)$

$65 - 49 \div 7$

$80 - 40 \div 5$

$3 + 6 \times 4$

$32 \div (65 - 57)$


## 四、应用题。

1. 有 34 位乘客要过河，每条船限乘坐 4 人，至少需要几条船能把他们一次运过河？

2. 3 筐白菜连筐重 47 千克，每个筐重 2 千克。白菜重多少千克？



3. 在植树活动中，学校买来 4 捆树苗，每捆有 6 棵。



4. 要挖总长 60 米的水沟，已经挖好了 15 米。剩下的要用 5 天挖完，平均每天挖多少米？

5. 服装店上午卖出 65 件衣服，下午比上午少卖 40 件，全天一共卖了多少件？

参考答案：

一、 8 50 20 200 25

1000 160 900 1 32

二、  $6\cdots\cdots 5$  9  $8\cdots\cdots 4$

6  $5\cdots\cdots 5$

三、 16 56 58

72 27 4

四、 1.  $34\div 4=8$ (条) $\cdots\cdots 2$ (人)  $8+1=9$ (条)

2.  $47-3\times 2=41$ (千克)

3.  $6\times 4\div 8=3$ (棵)

4.  $(60-15)\div 5=9$ (米)

5.  $65-40+65=90$ (件)

# 一升二年级暑假数学天天练 ( 30 套 )

第三周

星期五

用时：( ) 分

## 一、直接写得数。

$33+29=$        $780-80=$        $45\div 5=$        $6\times 9=$        $500+800=$

$3800-200=$        $18\div 9=$        $25\div 5=$        $6+40=$        $0\times 3=$

## 二、竖式计算。

$49+17=$        $63\div 9=$        $36\div 6=$        $40\div 6=$        $39\div 8=$

## 三、脱式计算。

$35+14\div 7$

$(22+18)\div 8$

$60-15-35$

$54\div 6\times 9$

$30+(33-29)$

$73-23-4$

## 四、应用题。

1. 一件大衣要钉 6 颗扣子，一盒扣子有 45 颗，最多能钉多少件大衣？



饮料每盒 6 元




花生每包 7 元

2. 双层公交的下层有 38 人，上层有 9 排，每排坐 5 人，这辆公交上一共有多少人？

3. 轩轩有 32 元，萌萌有 17 元，他俩的钱一共可以买几包花生？
4. 同学们进行古诗文诵读表演。有 6 个小组参加，每个小组有 8 名同学，其中有两个小组的同学表演完了，还有多少名同学没有表演？
5. 有 36 枝花。全部插进小花瓶，至少要多少个花瓶？



限插5枝



限插8枝

参考答案：

一、 62    700    9    54    1300

3600    2    25    46    0

二、 66    7    6

6……4    4……7

三、 37    5    10

81    34    46

四、 1.  $45 \div 6 = 7$  (件) ……3 (颗)

2.  $38 + 9 \times 5 = 83$  (人)

3.  $(32 + 17) \div 7 = 7$  (包)

4.  $(6 - 2) \times 8 = 32$  (名) 或  $6 \times 8 - 2 \times 8 = 32$  (名)

5.  $36 \div 5 = 7$  (个) ……1 (枝)     $7 + 1 = 8$  (个)

以上内容仅为本文档的试下载部分，为可阅读页数的一半内容。如要下载或阅读全文，请访问：<https://d.book118.com/43700610320006034>