

2023 年全国各类成人高等学校招生考试

(高起点) 历史地理

一、选择题：1~40 小题，每小题 2 分，共 80 分。在每小题给出的四个选项中，选出一项符合题目要求的。

1. 据考古发现，在河南偃师二里头的宫殿遗址中，有面积约 1 万平方米的厚厚的夯土台基，与此相似的大型建筑遗址还有多座，共同组成一个规模宏大的建筑群。这可用以说明

()

- A.早期国家的出现
- B.部落联盟空前壮大
- C.手工业高度发达
- D.母系氏族社会繁荣学校

2. 据史料记载，西汉前期“京师之钱累巨万，贯朽而不可校。太仓之粟陈陈相因，充溢露积于外，至腐败不可食”，出现这一现象的主要原因是()

- A.儒家思想成为正统
- B.休养生息政策的实行
- C.王国问题得以解决
- D.政府鼓励发展工商业

3. 北魏文明太后根据李冲的建议，在地方建立三长制，即五家立一邻长，五邻立一里长，五班级里立一党长。这一制度意在()

- A.加强对基层的控制

B.强化豪强地主势力

C.减少国家财政支出

D.促进江南经济开发

4. 唐代贞观年间修律，“比隋代旧律”，死罪减少 92 条，其他刑罚也有所减轻，还废除了鞭号背酷刑与断趾等肉刑。据此可知，唐律()

A.打击达官显贵

B.崇尚宽简

C.体现人人平等

D.废除死刑

5. 南宋陈旉编纂的《农书》对南方水田种植技术进行了系统总结，江浙一带成为全国稻米收成最丰富的地区，出现“苏湖熟，天下足”的谚语。以上史实表明当时()

A.江南农业经济发达

B.积贫积弱问题得到解决

C.南北经济趋于平衡

D.农业科学技术发展成熟姓名

6. 忽必烈即位后，自称大元的创立者，并召集一批学者为辽、金、宋修官史，下令编撰《元一统志》。忽必烈此举旨在()

A.削弱地方割据的基础

B.建立皇权至上的权力结构

C.树立元朝的正统地位

D.消除贵族集团的内部纷争

7. 明代改元朝的行中书省为承宣布政使司，统管地方民政和财政，同时设立提刑按察使司

分管地方监察、司法，都指挥使司分管军政，统称“三司”。此举旨在()

- A.提高行政效率
- B.抑制藩王势力
- C.促进经济发展
- D.巩固中央集权

8. 清代乾隆时期，组织编写了当时我国最大的一部丛书，共收录古代重要典籍约 3500 种，合计近 8 万卷，为保存文化遗产做出了重要贡献，该丛书是()

- A.《四库全书》
- B.《永乐大典》
- C.《古今图书集成》
- D.《资政新篇》

9. 洋务运动期间，洋务派的部分主张和实践获得慈禧太后的认同，同时在中央和地方也受到激烈抨击。这一现象表明，洋务运动缺乏()

- A.上层支持
- B.技术创新
- C.财政支持
- D.内部共识

10. 中国素有“天下兴亡，匹夫有责”之说，1912 年《民立报》却提出“天下兴亡，匹妇有责”。这反映出()

- A.中国妇女得到解放
- B.儒家伦理遭到废除
- C.社会风尚发生变化

D.民主革命取得成功

11.1941~1943年，八路军359旅在南泥湾开垦荒地，把荆棘丛生、野狼出没的南泥湾变成了五谷丰登的“陕北江南”。这反映的是()

A.减租减息运动

B.土地改革运动

C.大生产运动

D.农业合作化运动

12.1947年，《解放战争第二年的战略方针》规定，第二年作战的基本任务是举行全国性的反攻。揭开解放军反攻序幕的是()

A.收复延安

B.解放石家庄

C.攻克锦州

D.挺进大别山

13.1954年，新中国第一次以世界上五大国的地位参加了某次重要的国际会议，并在讨论和平解决朝鲜问题和印度支那问题上发挥了积极作用。这次会议是()

A.万隆会议

B.日内瓦会议

C.雅尔塔会议

D.开罗会议

14.1984年11月，上海飞乐音响公司向本企业和社会公开发行股票，成为改革开放后上海第一家试行股份制经营的企业。这反映出当时()

A.企业改革的进一步深化

B.市场经济已经居于主导地位

C.城市经济体制改革开启

D.多种所有制结构已正式形成

15.14 世纪末以前，欧洲 50%以上的大学分布在地中海沿岸，中欧、东欧和北欧的大学数量极少。14 世纪末开始，大学的地域分布由意大利逐渐向西南欧、中欧和东欧其他地区扩展。与这一变化相关的因素包括()

A.启蒙运动的推动

B.资产阶级革命的冲击

C.文艺复兴的影响

D.工业革命的深入发展

16. “珍妮纺纱机”的出现在棉纺织业中引发了技术革新的连锁反应，揭开了工业革命的序幕。其发明者是()

A.哈格里夫斯

B. 凯伊

C.瓦特

D.史蒂芬孙

17.17、18 世纪，拉丁美洲的绝大部分地区仍在西班牙和葡萄牙的统治之下，殖民者强占了印第安人大片土地。18 世纪以后，殖民地上盛行()

A.庄园制

B.工场制

C.租佃制

D.编户制

18.19 世纪早期，德意志一些地区开始工业革命。此后，德意志的纺织、冶金、采煤和铁路运输等部门虽有一定程度的发展，但进程缓慢。阻碍德意志工业革命进程的主要因素是（）

- A.农民战争风起云涌
- B.英国的军事干预
- C.普法战争遭遇失败
- D.分裂的政治局面

19.1933 年，罗斯福制定“民间自然资源保护队”计划，征招 18 至 25 岁的失业青年，从事造林、防洪、筑路等工作。该计划的主要目的是()

- A.发展农业生产
- B.兴修水利工程
- C.进行科学研究
- D.缓和社会矛盾

20.

表 1 欧洲一体化进程大事表

时间	事件
1951	欧洲煤钢共同体
1958	欧洲经济共同体、原子能共同体
1967	欧洲共同体
1993	欧洲联盟

表 1 反映出()

- A.欧洲各国分歧已经消除
- B.世界多极化趋势加强
- C.政治联合助推经济联合
- D.逆全球化势力的增强

南极洲是开展极地研究的“天然实验室”。图1示意我国南极科学考察站的位置。据此完成21~22题。

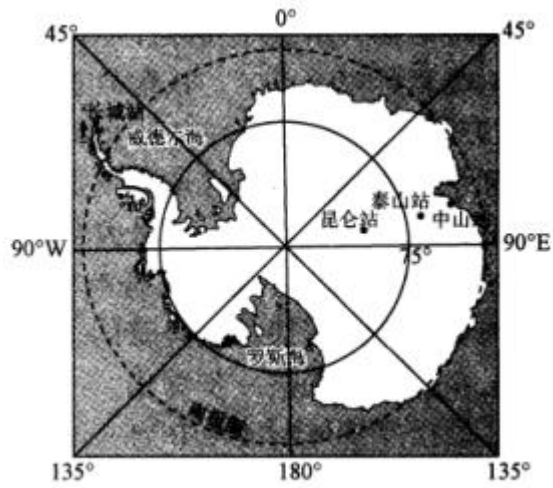


图1

21. 我国南极科学考察站中，没有极昼极夜现象的是()

- A.中山站
- B.长城站
- C.昆仑站
- D.泰山站

22. 长城站位于昆仑站的()

- A.西北方向
- B.东北方向
- C.西南方向
- D.东南方向

图 2 示意世界不同纬度人口的分布。读图 2,完成 23~24 题。




图 2

23. 世界人口主要分布在()

- A.北半球中低纬度地区
- B.北半球中高纬度地区
- C.南半球中低纬度地区
- D.南半球中高纬度地区

24. 南半球人口较少的主要原因是()

- A.干旱少雨
- B.气候湿热
- C.海拔较高
- D.陆地较少

图 3 示意天山北麓某河流一次洪水过程中径流流量的变化。读图 3, 完成 25~26 题。

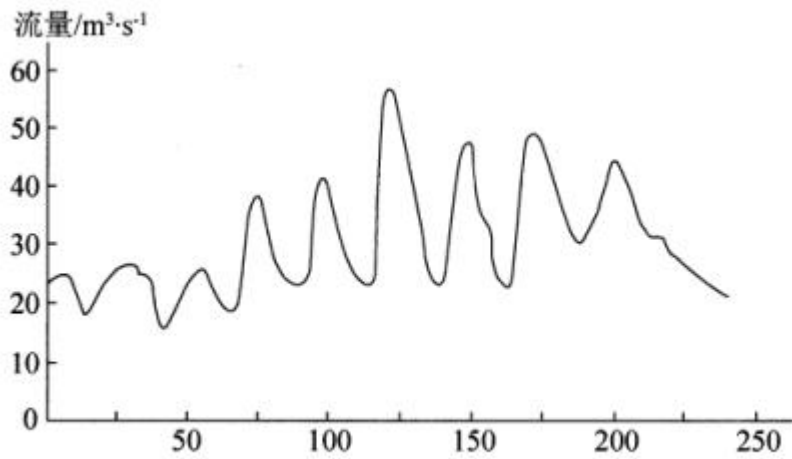


图 3

25. 该次洪水过程中, 径流流量()

- A.波动下降
- B.持续增多
- C.日变化大
- D.保持稳定

26. 该次洪水过程中, 河流的主要补给水源是()

- A.浅层地下水
- B.湖泊水
- C.持续性降雨
- D.积雪融水

线留尼汪岛是一座火山岛, 图 4 示意该岛地理位置及地形。据此完成 27 ~ 29 题。

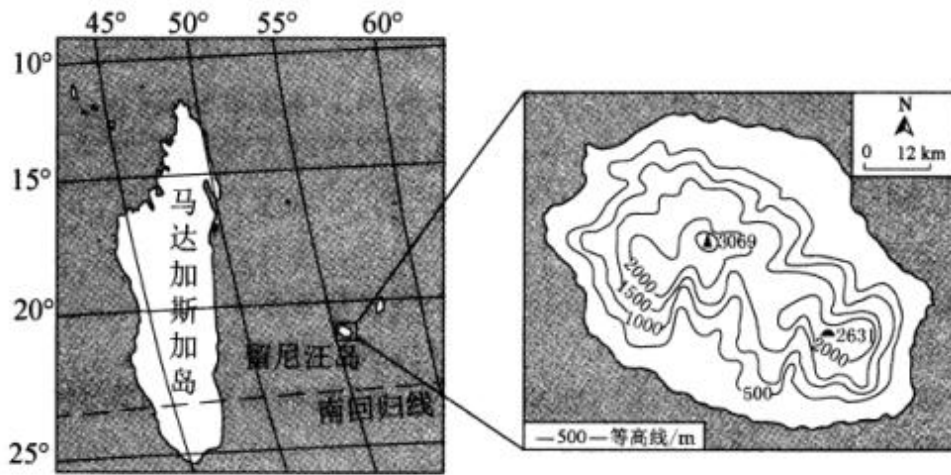


图 4

27. 留尼汪岛()

- A.位于西半球中低纬度地区
- B.年平均气温区域差异较大
- C.地处环太平洋火山地震带
- D.地势南高北低且呈阶梯状

28. 一年中多数时段, 留尼汪岛受()

- A.东北信风带控制
- B.赤道低气压带控制
- C.东南信风带控制
- D.极地高气压带控制

29. 留尼汪岛的降水 ()

- A.东南多西北少
- B.多为台风雨
- C.集中在七八月
- D.以降雪为主

引汉济渭工程(图 5)从汉江引水, 通过输水隧洞补给渭河。据此完成 30~31 题。

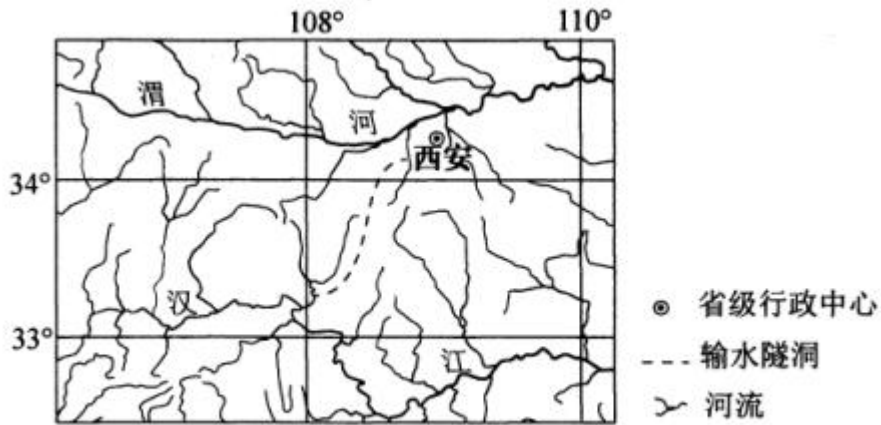


图 5

30. 引汉 济渭工程的输水隧洞穿越了 ()

A. 昆仑山脉

B. 南岭

C. 阴山山脉

D. 秦岭

31. 引汉 济渭工程输送至渭河流域的水, 主要用于()

A. 人工湿地景观的建设

B. 地下回灌题

C. 城镇居民生活和生产

D. 农田灌溉

图 6 示意 1970~2020 年我国人口数量及人均耕地面积变化。读图 6, 完成 32~33 题。

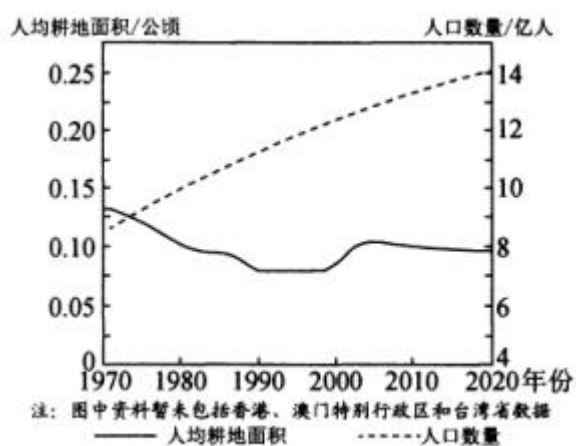


图 6

32. 2010~2020年,我国人均耕地面积趋于稳定,主要原因是()

- A. 退耕还林还草
- B. 城镇化水平的提升
- C. 基本农田建设
- D. 回乡务农人口增多

33. 为了保障我国粮食安全,以下措施中可行的是()

- A. 严格保护耕地
- B. 减少人口数量
- C. 大力围湖造田
- D. 扩大城镇规模

图 7 示意我国某城市一个街区在地铁站开通前后土地利用类型的变化。读图 7, 完成 34~

35 题。

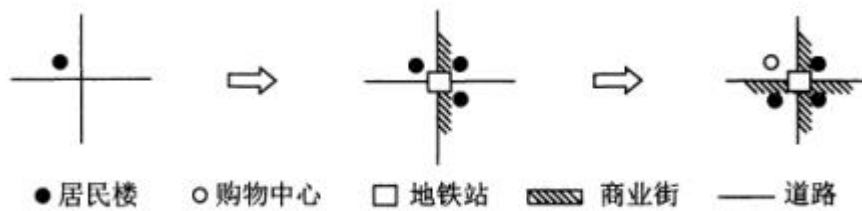


图 7

34. 随着地铁站的开通, 图示街区()

- A. 地价保持稳定
- B. 商业规模逐渐萎缩
- C. 人口密度减小
- D. 商业活动趋于多样

35. 图示街区位于该城市的()

- A. 中心商务区
- B. 城乡结合部
- C. 行政办公区
- D. 生态绿化带

刚果(布)国家 1 号公路(图 8)由中国企业建设, 是落实中非合作论坛会议精神的重要组成部分, 也是“一带一路”倡议在刚果(布)落地生根的精品项目。该公路沿线环境复杂多样, 有原始森林、丘陵、沼泽, 公路的修建遵循了“绿色建造、环境和谐”的方针。据此完成 36~37 题。

以上内容仅为本文档的试下载部分，为可阅读页数的一半内容。如要下载或阅读全文，请访问：<https://d.book118.com/368022053127006045>