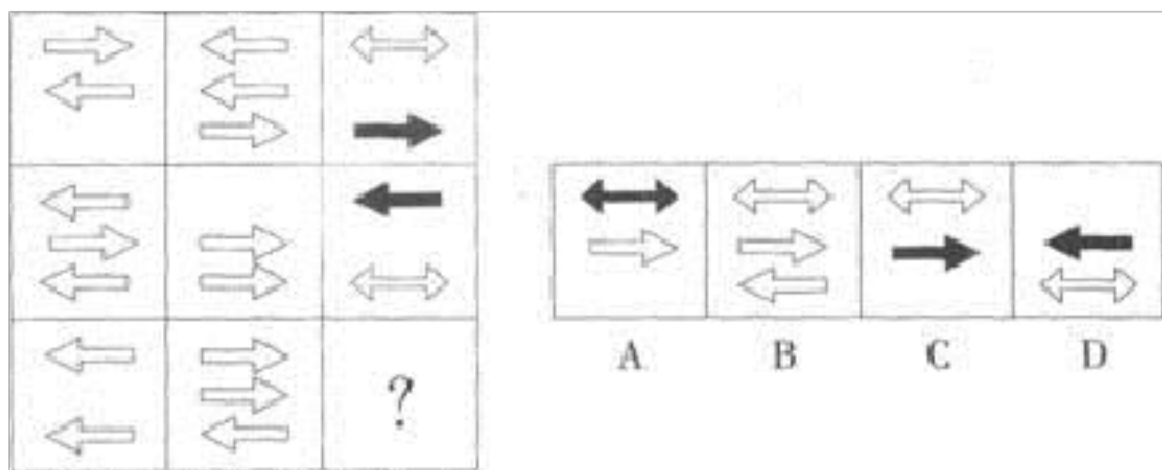


2022-2023 学年吉林省通化市公务员省考行政职业能力测验真题(含答案)

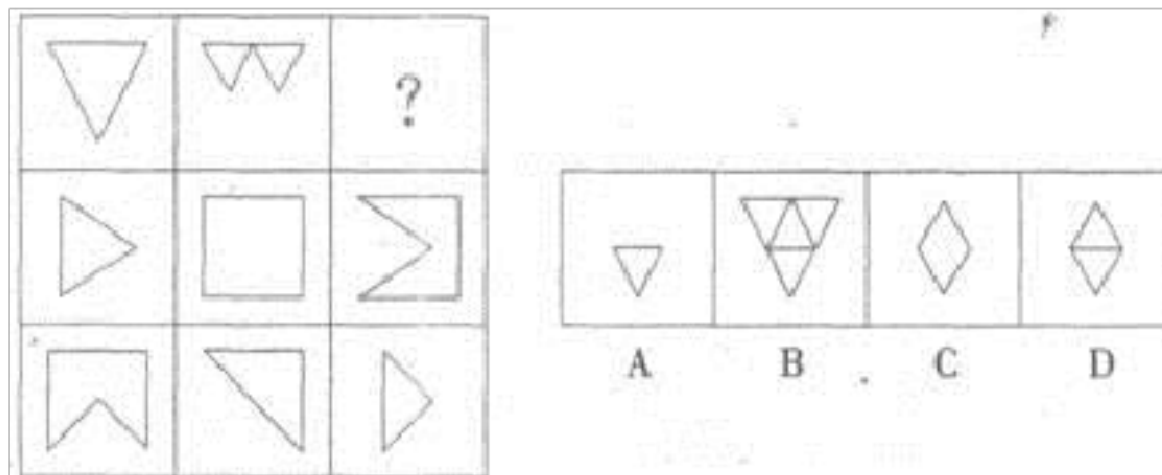
学校:_____ 班级:_____ 姓名:_____ 考号:_____

一、图形推理(6 题)

1. 从所给的四个选项中, 选择最合适的一个填入问号处, 使之呈现一定的规律性。()



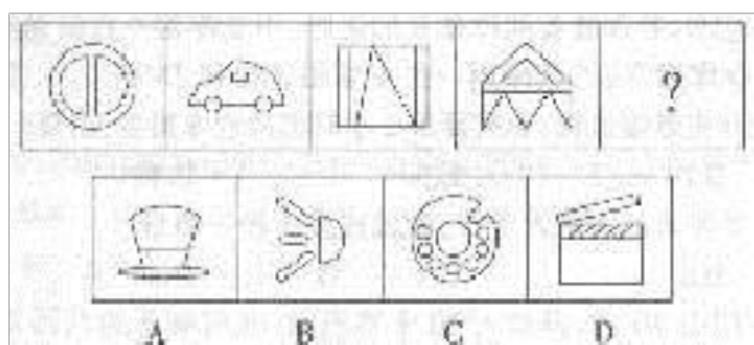
2. 从所给的四个选项中, 选择最合适的一个填入问号处, 使之呈现一定的规律性:



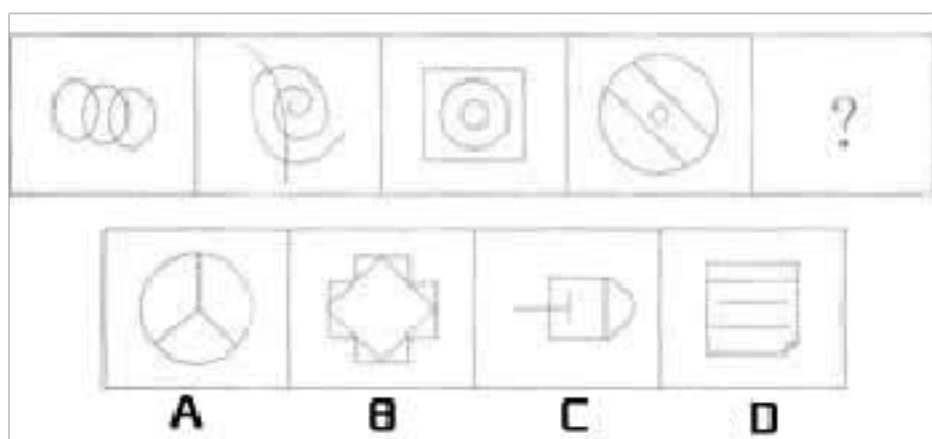
A.①②③, ④⑤⑥ B.①③⑥, ②④⑤ C.①④⑤, ②③⑥ D.①⑤⑥, ②

③④

3. 从所给的四个选项中, 选择最合适的一个填入问号处, 使之呈现一定的规律性:

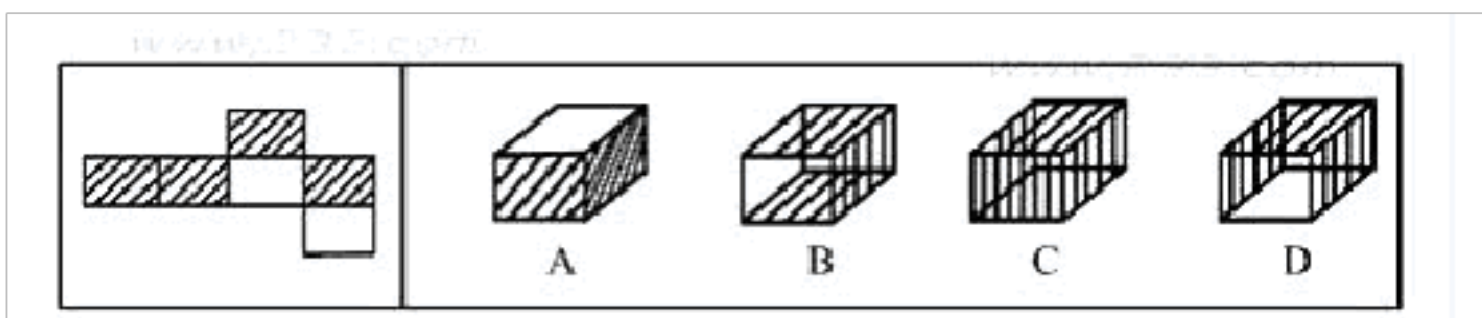


4. 从所给的四个选项中, 选择最合适的一个填入问号处, 使之呈现一定的规律性:




A. ①②③, ④⑤⑥ B. ①③⑥, ②④⑤ C. ①④⑤, ②③⑥ D. ①⑤⑥, ②③④

5.



6. 哪幅图可与图 E 结合组成正方形? ()



二、定义判断(10 题)

7. 组织协调能力是指根据工作任务，对资源进行分配，同时控制、激励和协调群体活动过程，使之相互融合，从而实现组织目标的能力。

下列情况，能够体现组织协调能力的是（ ）。

- A.某单位主要领导只抓中心工作，其他工作则交由副职处理
- B.某地发生群体性事件，因处置不力，使事件扩大
- C.某老处长工作能力强，曾因业绩突出而受过表彰，但总与下属人员发生冲突
- D.某单位为便于开展工作，经常与其他单位保持联系

8.选择性障碍就是对于同样能达到目的的不同方法、途径、路线，在选择的时候难以抉择，即便作出决定后仍然疑虑其他的选择是不是更好，从而导致时间的浪费、精神上的焦虑。

根据上述定义，下列属于选择性障碍的是：

- A.李女士在商场看中了一款衣服，黄色和红色她都喜欢，犹豫不知道该买哪个，最终各买了一件
- B.小王站在路口，两条路线都可以到达火车站，且花费的时间差不多，小王一时难以选择
- C.策划部的小丽准备了两套策划方案，部门经理倾向于采用方案 A，而公司总经理却主张采用方案 B，搞得她一筹莫展

D.小张去书店购买考研辅导教材，面对几家不同机构编写的教材，他不知道该买哪个，最后还是选择了店家推荐的教材

9. 《中华人民共和国突发事件应对法》规定，突发事件是指突然发生，造成或者可能造成严重社会危害。需要采取应急处置措施予以应对的自然灾害、事故灾难、公共卫生事件和社会安全事件。

根据上述定义，对突发事件描述比较确切的一项是（ ）。

A.发生、发展速度很快，出乎意料，事态严重，必须采取非常规方法来处理

B.难以应对，可能对人民生命财产和身心健康构成威胁

C.可产生一定强度或广度的公共卫生影响，需要立即采取紧急救援行动

D.可能造成重大人员伤亡、财产损失、生态环境破坏和严重社会危害

10.生态足迹也称生态占用，是指特定数量人群按照某一种生活方式所消费的、自然生态系统提供的各种商品和服务功能，以及在这一过程中所产生的废弃物需要环境(生态系统)吸纳，并以生物生产性土地(或水域)面积来表示的一种可操作的定量方法。通过生态足迹需求与自然生态系统的承载力进行比较即可以定量的判断某一国家或地区目前可持续发展的状态，以便对未来人类生存和社会经济发展做出科学规划和建设。

根据上述定义，下列各项说法错误的是：

A.生态足迹是一种衡量对生态环境破坏程度的定性方法

B.生态足迹是判断某一国家或地区目前的可持续发展的状态的重要指

标

C.生态足迹的值越高，人类对生态的破坏就越严重

D.日本每人的生态足迹远远超过日本土地、水源所具备的生产能力，所以日本只能利用别国资源

11. 短板理论是指木桶的盛水量是由组成木桶的木板中最短的一块决定的，这块短板即为这个木桶盛水量的“限制因素”。根据上述定义，下列不符合短板理论的是()。

A.某单位员工工作积极性降低，单位遂任命一位新领导，提高了团队士气

B.某家长注重孩子的智力培养，忽视其心理健康，使得孩子因为心理问题而迷失自我

C.某企业注重对技术精英的培养，对一般员工的使用和开发不足，致使团队士气受挫

D.某酒业集团投入巨资做广告，一度成为酒业的新秀，但终因产能不足，导致企业破产

12. 工作扩大化，是指在横向水平上增加工作任务的数目或变化性，使工作多样化。工作丰富化是指从纵向上赋予员工更复杂、更系列化的工作，使员工有更大的控制权。

下列属于工作丰富化的是 ()。

A.自助餐厅的伙计在面食、沙拉、蔬菜、饮品和甜点部轮换工作

B. 邮政部门的员工从原来只专门分捡邮件增加到也负责分送到各邮政部门

C. 在某传输数据系统公司，员工可以经常提出自己喜欢的工作并随后转入新的岗位

D. 在一家研究所，一个部门主管告诉她的下属，只要在预算内并且合法，他们就可以做想做的任何研究

13.

复种指数指的是一年内农作物总播种面积与耕地面积之比，一般用百分数表示。复种指数的高低受当地日照、土壤、水利、肥料、劳力和科学技术水平等条件的制约。日照条件好、无霜期长、水分充足、合理套种等是提高复种指数的基础。根据上述定义，下列关于复种指数的叙述哪项是正确的？

A. 我国由南向北，地区复种指数逐渐增高

B. 复种指数和地区所处的经度有密切的关系

C. 春季和秋季的复种指数要高于夏季和冬季

D. 较高的农业科技水平可使复种指数超过百分之百

14. 隐性伤害，就是指在校园情境中由于教育方法、管理方式的不完善或失当等对学生身体和精神所造成的非直接的伤害。这种伤害，由于其伤害结果具有潜在性和迟滞性，很容易被人们所忽视，但它往往对少年儿童脆弱的心灵会造成无法估量的消极影响。

根据上述定义，下列不属于隐性伤害的是（ ）。

- A.小赵由于没有按时完成作业，被罚打扫卫生一周
- B.小李被告知：“以后来不来上课随便，能不能毕业看个人造化了。”
- C.小周因目睹了校园打架斗殴事件，受到小陈的威胁，从此变得更加胆小了
- D.某小学组织全体学生观看《南京大屠杀》，教育学生勿忘国耻，许多学生当场吓哭了

15.财产保全，是指人民法院在利害关系人起诉前或者当事人起诉后，为保障将来的生效判决能够得到执行或者避免财产遭受损失，对当事人的财产或者争议的标的物，采取限制当事人处分的强制措施。

根据上述定义，下列最可能获得人民法院批准的财产保全申请是（ ）。

- A.甲认为乙所写的作品抄袭了自己已经出版的书籍，遂向法院提出停止出售乙作品的要求
- B.甲乙双方签订购销合同后，甲方因资金周转问题无法按时支付定金，乙方遂向法院申请解除合同并要求甲方赔偿损失
- C.甲乙双方签订购销合同后，甲方按约定给付供方 150 万元的预付款，却发现乙方根本没有能力履行合同，而且所付货款有被转移的可能，遂向法院申请冻结这 150 万元的预付款
- D.甲厂向乙信用社贷款 600 万元，用于购买新的生产线。但由于该生产线并未正常运转，甲厂无法按期归还贷款及利息。乙信用社向法院提起诉讼，审理期间得知甲厂将生产线转卖后，遂向法院申请查封甲厂正在

出售的价值 1 亿元的写字楼

16. 安慰剂效应, 又称假药效应, 指的是病人虽然没有获得有效的治疗, 但却“预料”或“相信”治疗有效, 而让病患症状得到舒缓的现象。

根据上述定义, 下列属于安慰剂效应的一项是 ()。

- A.老钱被医院检查出了癌症, 几个月后死亡, 后来发现是误诊, 其实老钱并没有得癌症
- B.小马得了流行性感冒, 没有吃药在家休息了两天后, 流感就好了
- C.某公司采纳了专家的意见对公司制度进行改革后, 改变了亏损的局面
- D.牙痛患者一进牙医诊所, 就感觉牙痛好多了

三、常识判断(10 题)

17.当经济发展中出现有效需求不足时, 需要 (), 以刺激经济增长, 增加就业。

- A.增发国债, 增加税收, 增加转移支付
- B.降低存款准备金率
- C.在公开市场上卖出有价证券
- D.提高再贴现率

18. 列宁指出：“设想世界历史会一帆风顺、按部就班地向前发展, 不会有时出现大幅度的跃退, 那是不辩证的, 不科学的, 在理论上是不正确的。”从哲学角度看, 上述材料最能体现下列哪种说法? ()

- A.社会发展的规律是客观的, 不以人的意志为转移

- B.社会由低级向高级发展是社会发展的必然规律
- C.事物发展是否定之否定，即螺旋式上升、波浪式前进的过程
- D.新事物必然会战胜旧事物

19.让中国开始沦为半殖民地半封建社会的条约是：

- A.《辛丑条约》
- B.《马关条约》
- C.《虎门条约》
- D.《南京条约》

20.下列关于地震自救，表述不正确的是（）。

- A.为防止次生灾害的发生，首先要切断电源、气源
- B.应疏散到高大建筑物、窄小胡同、陡山坡及河岸边
- C.在家中要就地避险，可选择较安全的地方(如床下、桌子底下)躲避
- D.住单元楼内，可选择开间小的卫生间、厨房、储藏室及墙角躲避

21.第 12 题 非同一系统的任何机关相互行文都使用（）。

- A. 上行文
- B. 平行文
- C. 通知
- D. 下行文

22.关于世界地理，以下说法正确的是（）。

- A.日本本土四岛包括北海道、本州、四国、九州
- B.摩洛哥、斯洛文尼亚、东帝汶三国分属于两个大洲
- C.按人口数量由多到少应该是俄罗斯 > 美国 > 巴西
- D.缅甸、印度、南非都是英联邦成员国

23.我国古诗词意境丰富，著名诗人孟郊的《感怀》：“举才天道亲，首阳谁采薇。去去荒泽远，落日当西归。”文中的“采薇”借指的是：

A.隐居生活 B.田园生活 C.游子思乡 D.重阳怀故

24.下列关于新民主主义革命时期的大事件的表述。不正确的是：

A.五四运动标志着中国新民主主义革命的开始：中国工人阶级也第一次以独立的姿态登上政治舞台

B.中共二大第一次提出了明确的反帝反封建的民主革命纲领

C.中共三大正确估计了国民党的革命立场，决定共产党员以个人身份加入国民党，标志第一次国共合作正式形成

D.南昌起义标志着中国共产党独立领导革命战争，创建人民军队和武装夺取政权的开始

25.

第 74 题 某电视台拍摄电视剧《鲁迅》，编剧康某根据周某撰写的人物传记《鲁迅》一书创作了剧本，并由王某任总导演。依据我国著作权法的规定，该电视剧的著作权归谁所有？（ ）

A. 电视台

B. 康某

C. 周某

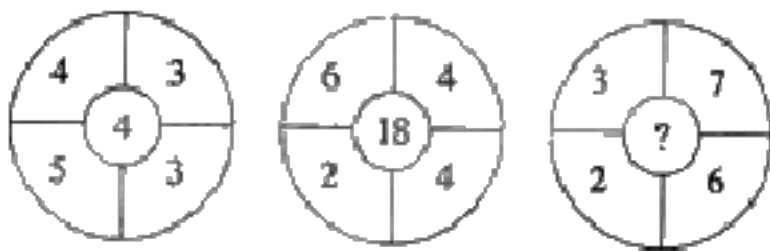
D. 电视台、康某、周某与王某共有

26.第 6 题 宋代海上往来大多是三、四月间从日本驶往中国的江浙沿海，

五、六月从江浙沿海驶向日本。这样选择航行时间主要是为了（ ）。

- A. 避开倭寇的活动
- B. 遵守朝廷有关海禁的规定
- C. 利用海洋回流
- D. 利用季风

四、数量关系(10 题)



27.第 89 题

- A. 2
- B. 8
- C. 9
- D. 13

28. 从边长为 1 的正方形的中心和顶点中任取两点。

两点间距离为 $\frac{\sqrt{2}}{2}$ 的概率是:

- A. $\frac{1}{2}$
- B. $\frac{2}{3}$
- C. $\frac{2}{5}$
- D. $\frac{3}{5}$

29.今年王先生的年龄是他父亲年龄的一半,他父亲的年龄又是他儿子的 15 倍,两年后他们三人的年龄之和恰好是 100 岁,那么王先生今年的岁数是多少?()

- A.40 岁 B.30 岁 C.50 岁 D.20 岁

以上内容仅为本文档的试下载部分，为可阅读页数的一半内容。如要下载或阅读全文，请访问：<https://d.book118.com/347053102165006032>