


备考 2023 年甘肃省白银市公务员省考行政 职业能力测验真题二卷(含答案)

学校:_____ 班级:_____ 姓名:_____ 考号:_____

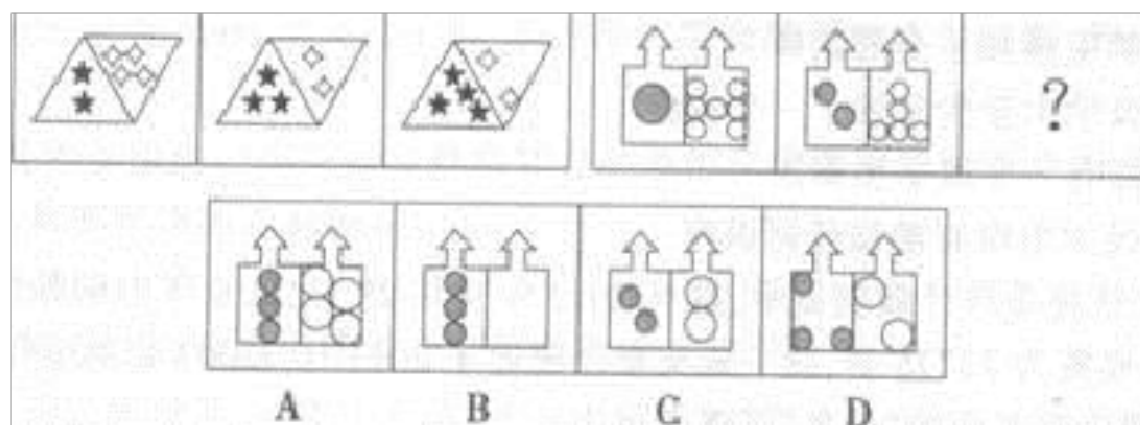
一、图形推理(6 题)

1. 从所给的四个选项中, 选择最合适的。一个填入问号处, 使之呈现一定的规律性 ()。

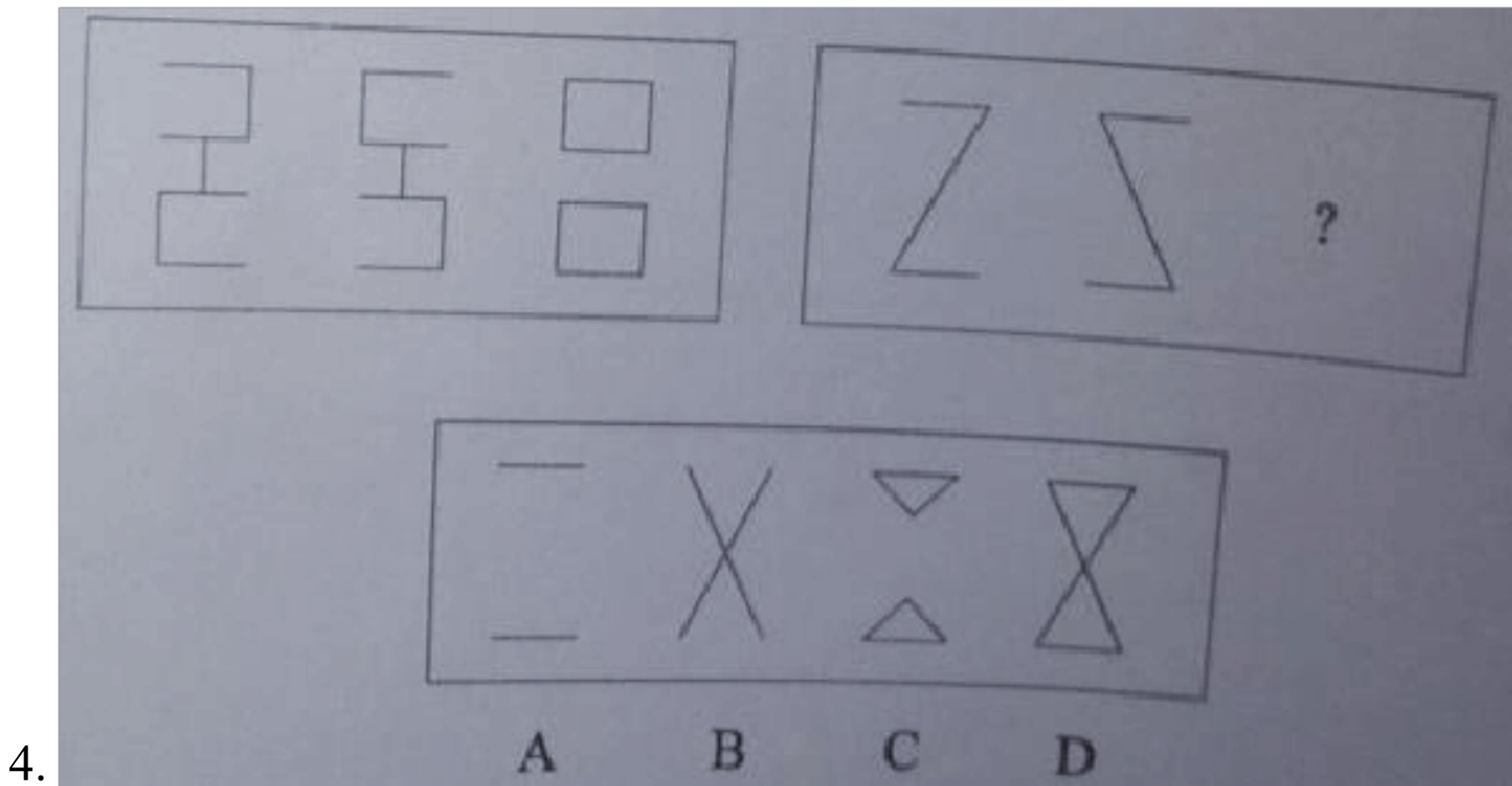
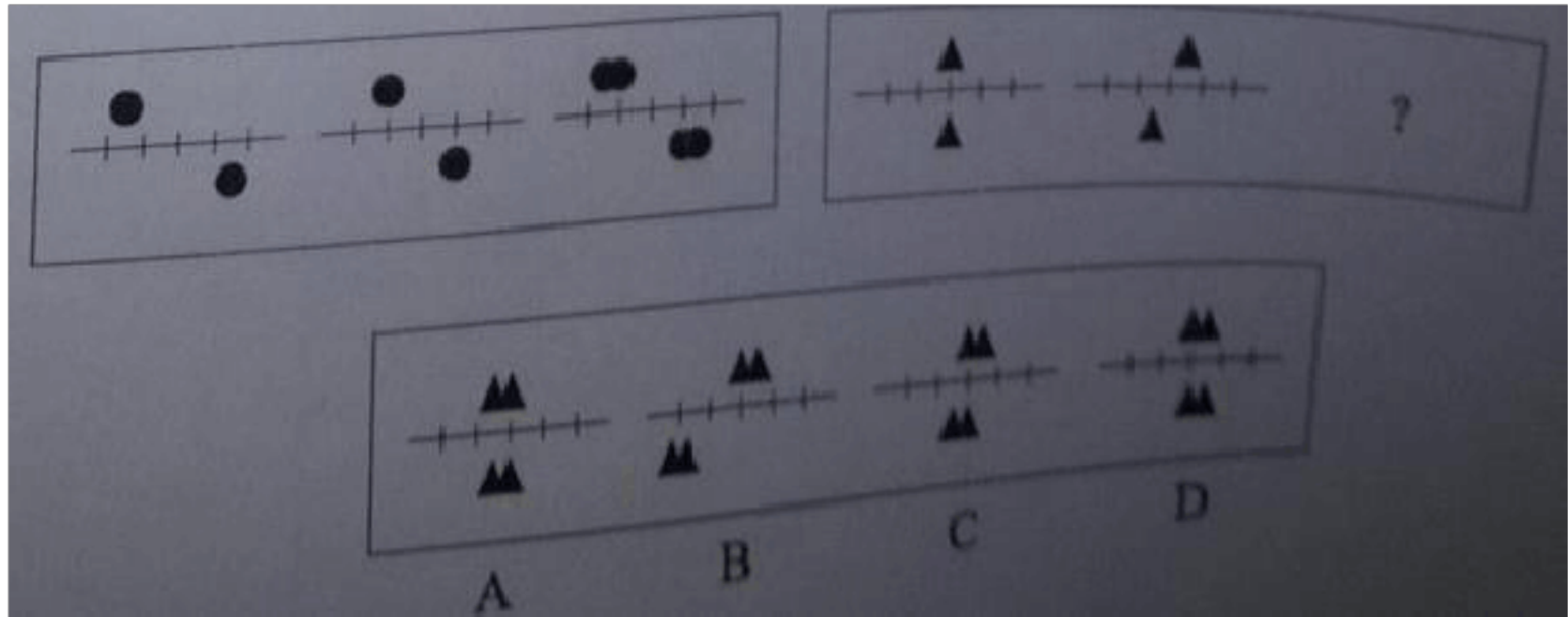


- A.①②⑤, ③④⑥ B.①③⑤, ②④⑥ C.①④⑤, ②③⑥ D.①④⑥, ②③⑤

2. 从所给的四个选项中, 选择最合适的一个填入问号处, 使之呈现一定的规律性。

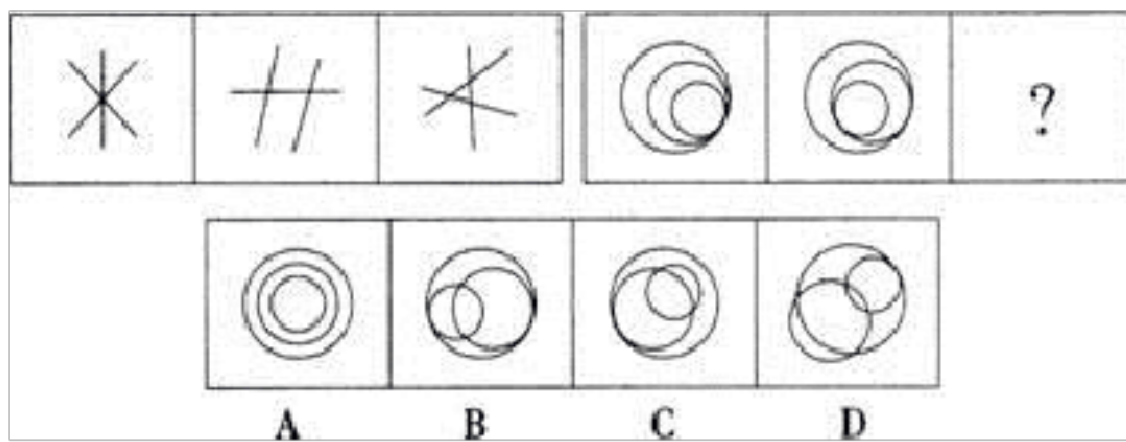


3.

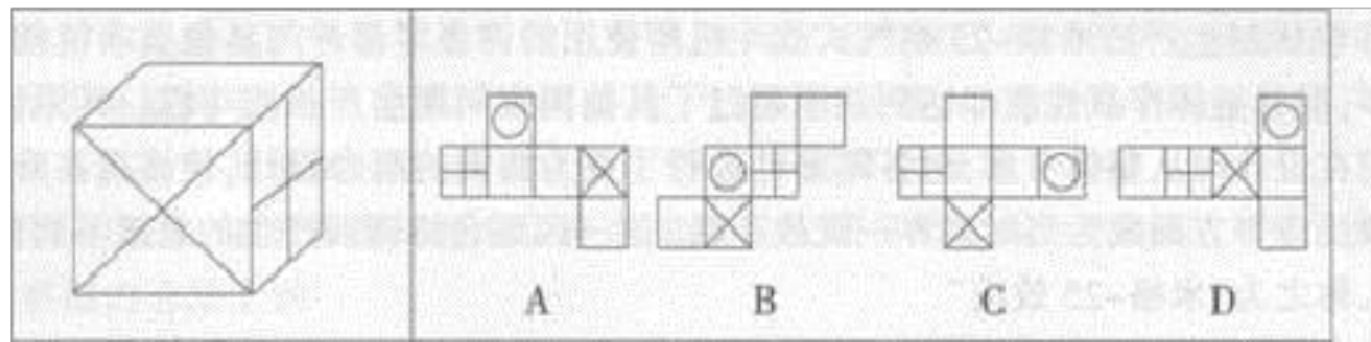


4.

5.从所给的四个选项中，选择最合适的一个填入问号处，使之呈现一定的规律性：



6.将左边正方体展开后，可能得到的图形是：



二、定义判断(10 题)

7. 隐性伤害，就是指在校园情境中由于教育方法、管理方式的不完善或失当等对学生身体和精神所造成的非直接的伤害。这种伤害，由于其伤害结果具有潜在性和迟滞性，很容易被人们所忽视，但它往往对少年儿童脆弱的心灵会造成无法估量的消极影响。

根据上述定义，下列不属于隐性伤害的是（ ）。

- A.小赵由于没有按时完成作业，被罚打扫卫生一周
- B.小李被告知：“以后来不来上课随便，能不能毕业看个人造化了。”
- C.小周因目睹了校园打架斗殴事件，受到小陈的威胁，从此变得更加胆小了
- D.某小学组织全体学生观看《南京大屠杀》，教育学生勿忘国耻，许多学生当场吓哭了

8. 中国刑法规定了单位犯罪。单位犯罪的主体是单位，包括公司、企业、

事业单位、机关、团体。

依据上述规定，下列说法错误的是（ ）。

- A.某市自来水公司是公用企业，因而不能成为单位犯罪中的企业
- B.某市工商行政管理局能够成为单位犯罪中的机关
- C.某市共青团委能够成为单位犯罪中的团体
- D.某市第一中学能够成为单位犯罪中的事业单位

9. 转移支付，是指政府或企业无偿地支付给个人或下级政府，以增加其收入和购买力的费用。是政府或企业的一种不以取得商品或劳务作补偿的支出，是一种收入再分配的形式。

根据上述定义，下列属于转移支付的是（ ）。

- A.某企业在年终总结会议上对工作优异的员工进行表彰，并给予一定的奖励
- B.汶川大地震后，某高校积极组织全校师生向灾区进行捐款，并组织志愿者到灾区服务
- C.春节期间，哈尔滨市组织全市各类志愿服务队开展“我陪空巢老人过大年”活动
- D.元旦来临之际，某市政府开展“送温暖”活动，给生活贫困户发放了慰问金

10. 心理学上的“皮格马利翁效应”，是指热切的期望与赞美能够产生奇迹：期望者通过一种强烈的心理暗示，使被期望者的行为达到他的预期

要求。它蕴含这样一个道理：赞美和期待具有一种超常的能量，能够改变一个人的行为与思想，激发人的潜能；如果向对方传递了一种消极的期望，则会让他变得自暴自弃，向着消极的一面发展。

根据上述定义，下列选项中不符合皮格马利翁效应的是（ ）。

A.受老师喜爱或关注的学生，一段时间内学习成绩或其他方面都有很大进步，而受老师漠视甚至是歧视的学生为了证明自己，也有可能逆流而上，取得好成绩

B.出生在贫民窟的小罗尔斯性格顽劣，而当校长对他说“你将来一定会是纽约州的州长”之后，罗尔斯改掉了恶习，最终成为纽约州第一位黑人州长

C.美国钢铁大王卡内基选拔的第一任总裁查尔斯·史考伯说：“使一个人发挥最大能力的方法，是赞赏和鼓励。再也没有比上司的批评更能抹杀一个人的雄心。”

D.松下幸之助经常给下属打电话询问近况如何，下属回答还算顺利时，松下就会说：“很好，希望你好好加油。”许多下属因此精神振奋，业绩优异

11.过度消费是指超出一定界限，与经济发展水平不相适应的消费水平，在我国主要有三种突出类型：超前消费、炫耀性消费和病态消费。其中的炫耀性消费，并不是为了满足个人消费的需求，而是通过一种消费方式向他人炫耀和展示自己的金钱财力和社会地位。根据上述定义，下列属于炫耀性消费的是：（ ）。

- A.小红喜欢追求时尚，平时所购买的衣服都是当前最流行的款式
- B.某公司董事长刘某看到当前房地产市场有利可图，遂投资购买了一幢豪华别墅
- C.在 2003 年上海汽车博览会期间，某富豪买走了一辆价值 1188 万元的“雅致 728 宾利”
- D.40 岁的赵老板非常迷信，早早地为自己买了一块风水宝地，希望死后仍然可以庇护子孙后代

12.农超对接是指农户和商家签订意向性协议书，由农户向超市、菜市场 and 便民店直供农产品的新型流通方式，主要是为优质农产品进入超市搭建平台。农超对接的本质是将现代流通方式引向广阔农村，将千家万户的小生产与千变万化的大市场对接起来，构建市场经济条件下的产销一体化链条，实现商家、农民、消费者共赢。根据上述定义，下列哪项属于农超对接的作用？

- A.市场需要什么，农民就生产什么，避免生产的盲目性
- B.减少流通环节，降低流通成本
- C.减少流通环节，提高流通成本
- D.稳定农产品销售渠道和价格

13.

自闭症又称孤独症，被归类为一种由于神经系统失调导致的发育障碍，不能进行正常的语言表达和社交活动，常做一些刻板和重复性的动作和行为。自闭症的

社会互动能力、社交语言及象征性和想象性游戏能力发展迟缓，需要在三岁前出现。

根据上述定义，下列最可能属于自闭症的是：

- A. 护士艾担心被传染上癌细胞，每次下班后，总是反复地洗手十多次，后来发展到别人不小心碰到了她，她就会不停地洗手
- B. 两岁半的小红在爸妈不在场的情况下绝对不开口与人交流，老担心别人是人贩子，会把她拐走
- C. 小赵直到三岁才学会叫爸爸妈妈，在幼儿园也不爱和其他小朋友玩，经常自己拿着个瓶盖在那儿玩
- D. 小李三岁后随爸妈到北京，不太愿意开口说话，怕自己的方言被人嘲笑，也不愿意和其他小朋友玩

14. 边境贸易有两种形式：一是边民互市贸易，指两国双方边境居民在规定的开放点或指定的集市上，以不超过规定的金额，买卖准许交换的商品。二是边境小额贸易，指边境地区的外贸公司，与邻国边境地区的贸易机构或企业之间进行的小额贸易。

根据上述定义，下列属于边境小额贸易的是（ ）。

- A. 中哈两国共同在边境口岸霍尔果斯建立边境经济合作区，为中哈边境企业提供贸易平台
- B. 由于香港的许多商品都比内地便宜，住在深圳的小赵经常跟团到香港去疯狂购物
- C. 位于中越边境的广西某公司经常会与越南的某公司进行两国特产和

生活用品的贸易

D.王某居住在中蒙边境地区的二连浩特市，经常自己开车到蒙古境内购买一些价格便宜的生活必需品

15.社会惰化是指个人与群体其他成员一起完成某种事情时，或个人活动有他人在场时，往往个人所付出的努力比单独时偏少，不如单干时出力多，个人的活动积极性与效率下降的现象。

根据上述定义，下列不属于社会惰化的是（ ）。

A.一个和尚挑水吃，两个和尚抬水吃，三个和尚没水吃

B.在群体拔河比赛中，每个人所用的力量不及一对一拔河比赛中个人所用的力量

C.某库房组织工作人员卸货，如果规定每个人搬完 20 箱货物即可先休息，则大多数人每次至少搬两箱货物，如果规定所有工作人员在 1 个小时内搬完 300 箱货物，则大多数人每次只搬一箱货物

D.小红考试的时候，如果监考老师站在她旁边，她的考试成绩就会下降

16. 失语症，顾名思义就是丧失语言能力，但是在职场中并不仅限于此，最主要的表现为，在工作中已经失去了发表个人意见和观点的权利，无法和同事以及上司进行正常的工作交流和沟通，和自己所在的团体缺乏应有的正常沟通，被日渐边缘化，这被称之为职场失语症。根据上述定义，下列选项属于职场失语症的是（ ）

A.老王是公司里的“老好人”，对上级命令绝对服从，不懂得拒绝别人，

即使有想法，也得不到他人的重视

B.小宋是一个客服人员，每天要接待大量的客户，最近一段时间，每到下午四点左右，他就感觉嗓子十分疼痛说不出话来

C.小李平时在开会发表意见时经常跑题，变成对自己的搭档的控诉演讲，久而久之，大家虽然在工作中还会与他合作，但在开会时不再仔细听他发言了

D.老刘最近非常郁闷，他的几个下属联合起来架空他，每次的工作都直接向他的上级进行汇报，而目，也不听他的指挥，他决定向上司反映这个情况

三、常识判断(10 题)

17. 在行政诉讼中，人民法院认为规章之间不一致的。应报请（ ）作出解释或者裁决。

A.最高人民法院 B.最高国家权力机关 C.最高人民检察院 D.国务院

18.公民可以适用正当防卫民事权利是（ ）

A.名誉权 B.生命权 C.肖像权 D.抚养权

19.今年，全球华人都以不同的方式纪念孔子，孔子思想的核心是（ ）。

A.仁 B.义 C.孝 D.信

20.

被称为“雨巷诗人”的现代派诗人是：

A.徐志摩 B.戴望舒 C.胡适 D.闻一多

21.中国共产党在新民主主义革命领导权问题上有着深刻认识,党认为实现对革命的领导权的根本保证是:

A.动员全民开展武装斗争 B.建立最广泛的人民统一战线 C.加强中国共产党的建设 D.扩大革命的影响力和控制力

22. 农业和土地问题一直是中国政府所关注的重要问题, 以下关于税收土地等政策按照时间顺序排序, 正确的是 ()。

A.两税法—租庸调制—一条鞭法—摊丁入亩

B.农民交租交息, 地主减租减息—耕者有其田—《中国土地法大纲》—家庭联产承包责任制

C.俄国农奴制改革—林肯颁布《宅地法》—日本明治维新—依靠贫农、雇农、联合中农。限制富农

D.《汜胜之书》—《齐民要术》—《农政全书》—《农桑辑要》

23.张某委托刘某购买山地车一辆, 刘某到商场后发现山地车脱销, 担心张某急需使用。遂为之购买自行车一辆, 张某拒收, 刘某诉至法院。下列选项中正确的是:

A.张某拒绝受领的行为合法, 刘某的行为属于越权代理

B.张某与刘某之间无书面委托书, 委托关系不成立

C.刘某的行为属于有效行为, 因为是为了张某的利益。

D.张某不得拒绝受领, 因为刘某有代理权

24.运用试管香蕉技术来推广优良香蕉品种，这种技术属于（ ）。

A. 基因工程 B. 发酵工程 C. 酶工程 D. 细胞工程

25.

第 61 题 建国六十年，六十年风雨兼程，六十年沧桑巨变。下列建国后的重大历史事件按时间排序正确的一项是（ ）。

- A. 土地改革运动展开—西藏和平解放—中美建交
- B. 中美建交—中日建交—改革开放
- C. 唐山大地震—第一颗原子弹试验成功—恢复在联合国的合法席位
- D. 中日建交—改革开放—宁夏回族自治区成立

26.第 15 题 我们要建立社会主义市场经济体制，就必须（ ）。

- A. 弱化国家对经济的宏观调控
- B. 加强和改善国家对经济的宏观调控
- C. 建立起全国统一的、开放的市场体系
- D. 建立多层次的社会保障制度

四、数量关系(10 题)

27. $35, 7, 5, (), \frac{25}{7}$
A. 1 B. $\frac{7}{5}$ C. 3 D. $\frac{5}{7}$

28.

第 73 题 三毛家有三个孩子，一天共买了 21 个苹果分给了三个孩子，他们弟兄三个关系很好，大毛主动拿出 1 个苹果给二毛，二毛觉得弟弟的

少，就拿出 1 个给了三毛，三毛觉得自己吃不完，就给了大毛 2 个，此时三个兄弟的苹果的数目相等，问原来大毛有多少个苹果？（ ）

- A. 6个
- B. 7个
- C. 8个
- D. 9个

29.某人把一些书借给同学看，他先借给了甲 2 本和剩下的

$\frac{1}{4}$ ，然后借给了乙 3 本和剩下的

$\frac{1}{3}$ ，又借给了丙 4 本和剩下的

$\frac{2}{5}$ ，又借给了丁 4 本和剩下的

$\frac{1}{2}$ ，最后剩下 1 本，他一共有多少本书？

A.26 B.30 C.34 D.38

30.某剧场共有 100 个座位，如果当票价为 10 元时，票能售完，当票价超过 10 元时，每升高 2 元，就会少卖出 5 张票。那么当总的售票收入为 1360 元时，票价为多少？()

- A . 12 元
- B . 14 元
- C . 16 元
- D . 18 元

以上内容仅为本文档的试下载部分，为可阅读页数的一半内容。如要下载或阅读全文，请访问：<https://d.book118.com/336052023210010035>