





# 新西师大版一年级数学下册期末考试卷（一）

## 一、填空。（22分）

1、3个十和8个一组成（ ），100是由（ ）个十组成。

2、50前面的一个数是（ ），后面一个数是（ ）。

3、三十六写作（ ），90读作（ ）。

4、一张  可以换成（ ）张 ，也可以换成（ ）张 ，还可以换成（ ）张 。

5、5角=（ ）分      17角=（ ）元（ ）角

30角=（ ）元      8元5角=（ ）角。

6、把75、60、36、48、47、80这六个数按从大到小的顺序填在下面的括号里。

（ ）>（ ）>（ ）>（ ）>（ ）>（ ）

7、按数的规律填空。90，80，70，60，（ ），（ ），（ ），（ ），（ ）。

8、妈妈买回一些水果，其中有13个苹果，草莓的个数比苹果多得多。草莓可能有多少个？

（画√）



17个	8个	39个

## 二、选择。将正确答案的番号填在括号里。（8分）

1、最大的一位数与最小的两位数的和是（ ）。

A、19                      B、18                      C、21

2、在数7、17、37、75、77中，个位上是7的数有（ ）个。

A、2                      B、4                      C、5

3、小芳有1元8角钱，买铅笔用去5角，剩下的钱是（ ）。

A、8角                      B、1元3角                      C、1元

4、用4个大小相同的正方形可以拼成一个（ ）。

A、三角形

B、圆

C、长方形或正方形

三、仔细计算。(30分)

1、直接写出得数。(12分)

90 + 9 =

60 - 30 =

0 + 83 =

16 - 8 =

98 - 70 =

65 + 5 =

39 + 8 =

85 - 5 =

28 + 35 + 17 =

81 - 5 - 20 =

80 - 60 + 35 =

3 + 37 - 4 =

2、用竖式计算。

90 - 52 =

47 - 29 + 51 =

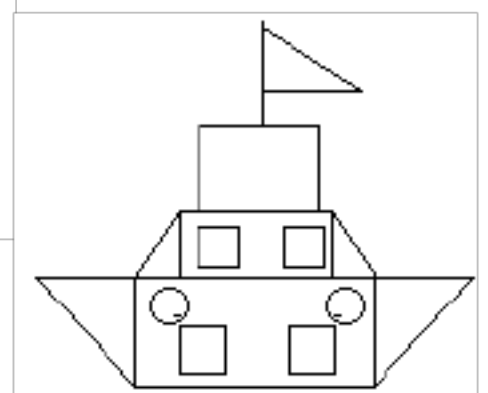

28 + 34 + 23 =

35 + 29 =

50 - 20 - 18 =

25 + 63 - 83 =

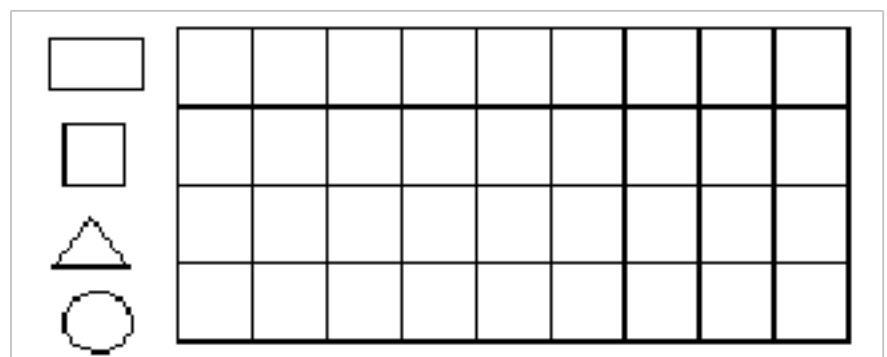
四、连线。



五、统计员。(12分)

1、数一数，填一填，按图形的个数在格子里涂色。(8分)

图形	长方形	正方形	三角形	圆
个数				



2、一共有（        ）个图形，其中（        ）最多，长方形比圆多（        ）个，正方形和三角形一共有（        ）个。（4分）

六、解决问题。（20分）

1、一年级有87人去春游，租了两辆大客车。还有几人没有上车？（4分）



$$\square \bigcirc \square \bigcirc \square = \square \quad ( \quad )$$

2、丽丽剪了37颗☆，她再剪8颗就和贝贝剪的一样多了。贝贝剪了几颗五角星？（4分）

$$\square \bigcirc \square = \square \quad ( \quad )$$

3、购物活动。



(1) 一台录音机比一本书贵多少元？（4分）

$$\square \bigcirc \square = \square \quad (\text{元})$$

(2) 小红买一部电话机 找回7元钱。小红付了多少元？

$$\square \bigcirc \square = \square \quad (\text{元})$$

(3) 明明有80元钱，买（        ）和（        ）正好花完？（4分）

$$\square \bigcirc \square = \square \quad (\text{元})$$

附参考答案、

一、填空。

- 1、38, 10; 2、49, 51; 3、36, 九十; 4、10, 5, 2; 5、50, 1、7; 3, 85;  
6、 $80 > 75 > 60 > 48 > 47 > 36$ ; 7、50, 40, 30, 20, 10; 8、39(√)

二、选择。A, B, B, C;

三、计算。

- 1、直接写出得数。99, 30, 83, 8, 28, 70, 47, 80, 80, 56, 55, 36;  
2、用竖式计算。38, 69, 85, 64, 12, 5;

四、连线、上1—下3, 上2—下1, 上3—下2, 上4—下4;

五、统计员。1、3, 4, 5, 2; 涂色略; 2、14, 三角形, 1, 9;

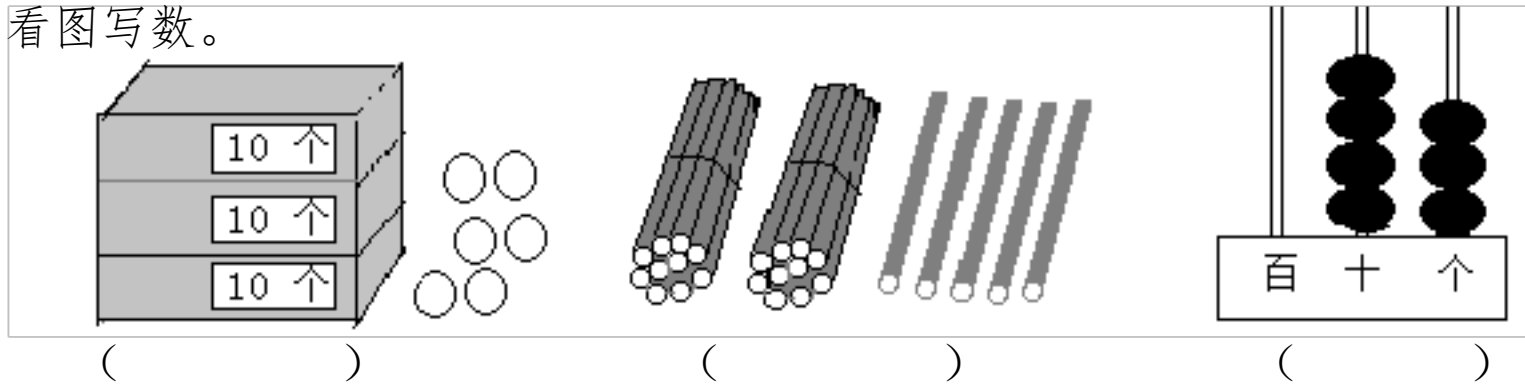
六、解决问题。

- 1、 $87 - 43 - 39 = 5$ (人) 答：还有5人没上车。  
2、 $37 + 8 = 45$ (颗) 答：贝贝剪了45颗星。  
3、(1)  $74 - 7 = 67$ (元) 答：一台录音机比一本书贵67元。  
(2)  $53 + 7 = 60$ (元) 答：小红付了60元。  
(3)  $27 + 53 = 80$ (元) 答：裸体遥控车和电话机正好用完。

# 新西师大版一年级数学下册期末考试卷（二）

## 一、填空。

1、看图写数。



2、4 个十和 7 个一组成（ ）。86 元里面有（ ）张 10 元币和（ ）张 1 元币。

个位上的 5 表示（ ），十位上的 5 表示（ ）。100 由（ ）个十组成。

3、4 元=（ ）角      40 分=（ ）角      13 分=（ ）角（ ）分

1 元 9 角=（ ）角      1 元=（ ）分      3 元 4 角-3 角=（ ）

4、(1) 玲玲家在（ ）楼（ ）号

他家上面是（ ）家，下面是

（ ）家，左面是（ ）家，

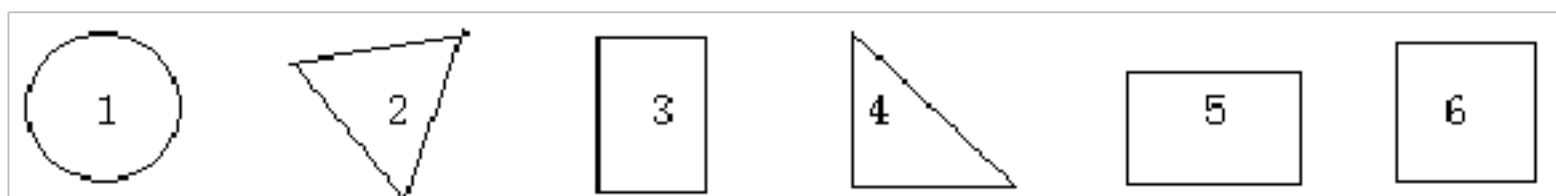
右面是（ ）家。

红红家	华华家	洋洋家	3 楼
娟娟家	玲玲家	丁丁家	2 楼
强强家	云云家	军军家	1 楼
1	2	3	

(2)（ ）家在华华家右面，（ ）家在云云家左面。

(3)2 楼 1 号是（ ）；（ ）家的下面是丁丁家。

5、把图形编号填入相应的（ ）里。



（ ）是长方形，（ ）是三角形。

## 二、计算。

1、口算。  $46 - 5 =$        $30 + 20 =$        $38 - 20 =$        $43 + 8 =$

$40 + 30 =$        $79 - 60 =$        $81 - 8 =$        $36 + 8 =$

2、用竖式计算。

$48 + 37 =$

$46 - 19 =$

$100 - 48 =$

$53 + 27 =$


3、计算。

$43 - 26 + 31$

$98 - 27 - 36$

$72 - 29 + 36$

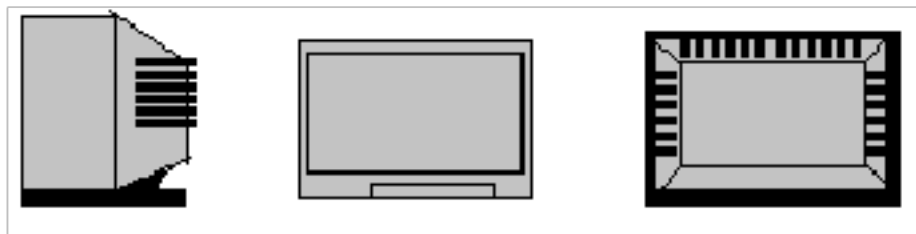
4、夺红旗。

$83 - 32 \square + 28 \square - 76 \square + 55 \square + 18 \square - 36 \square + 22 \square$  

三、判断题。

1、观察下面的电视机：哪幅图是从前面看到的？（画“√”）哪幅图是从侧面看到的？

（画○），哪幅图是后面看到的？（画□）



( ) ( ) ( )

2、这件衣服 42 元，裙子的价格比衣服贵得多，短裤的价格比衣服便宜一些。

裙子的价格可能是多少元？（画“√”）

短裤的价格可能是多少元？（画“○”）

5 元	40 元	45 元	100 元

3、认识钟表，认为对的打“√”，错的打“×”。



四、看图在格子涂色记录。



踢足球



跳绳



讲故事

1、参加三种活动一共有多少人？

2、你还能提出哪些数学问题，并解答。

五、解决问题。

1、一年级一班有 52 名学生，二班有 47 名学生。

(1) 两个班一共有多少名学生？

(2) 一班比二班多多少名学生？

2、菜店里运来 78 筐西红柿，卖出 36 筐，现在菜店里还有多少筐西红柿？

3、东方电视台的春节晚会安排了 50 个节目，前两个小时表演了 19 个节目，后两个小时表演了 17 个节目，还剩多少个节目没有表演。

4、大青蛙吃了 56 只害虫，小青蛙吃了 30 只害虫。

(1) 它们一共吃了多少只害虫？

(2) 小青蛙再吃多少只害虫就和大青蛙吃的害虫一样多？

5、小明、小亮和小丽进行投掷沙包比赛。小明投了 10m，小亮投了 15m。

(1) 小丽比小亮多投 6 米，小丽投了多少米？

(2) 他们三人一共投了多少米？



## 附参考答案

### 一、填空。

- 1、36, 25, 43; 2、47, 8, 6; 5 个 1, 5 个十, 10; 3、40, 4, 1、3, 19, 100, 3 元 1 角; 4、(1) 2、2, 华华家, 云云家, 娟娟家, 丁丁家; (2) 洋洋家, 红红家; (3) 云云家, 洋洋家; 5、3, 5; 2, 4;

### 二、计算。

- 1、口算。41, 50, 18, 51; 70, 19, 73, 44;  
2、竖式计算。85, 37, 52, 80.  
3、计算。48, 35, 79.  
4、夺红旗。51, 79, 3, 58, 76, 50, 72;

### 三、判断题。

- 1、○, √, □。  
2、裙子: 100 元, 短裤: 40 元。  
3、√, √, ×。

### 四、看图涂要格子涂色记录。

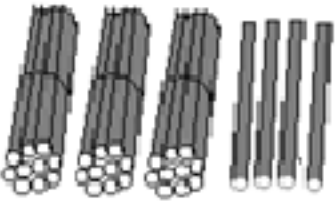

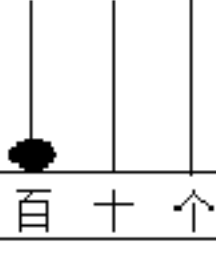
- 1、 $6+3+7=16$  (人) 答: 参加三种活动一共 16 人。  
2、略

### 五、解决问题。


- 1、(1)  $52+47=99$  (人) 答: 两个班一共有 99 人。  
(2)  $52-47=5$  (人) 答: 一班比二班多 5 人。  
2、 $78-36=42$  (筐) 答: 现在店里还有 42 筐西红柿。  
3、 $50-19-17=14$  (个) 答: 还剩 14 个节目没有表演。  
4、(1)  $56+30=86$  (只) 答: 它们一共吃了 86 只害虫。  
(2)  $56-30=26$  (只) 答: 还吃 26 只害虫就和大青蛙吃的一样多。  
5、(1)  $15+6=21$  (米) 答: 小丽投了 21 米。  
(2)  $10+15+21=46$  (米) 答: 他们三人一共投了 46 米。

( 分)

1、读数、写数。

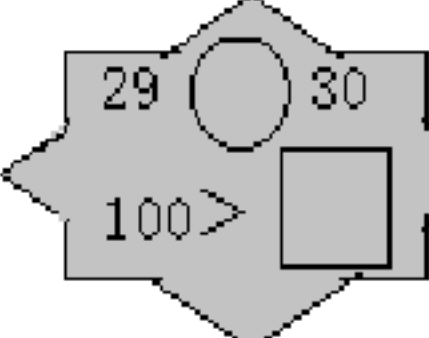
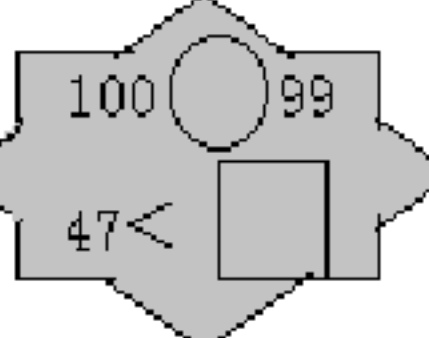
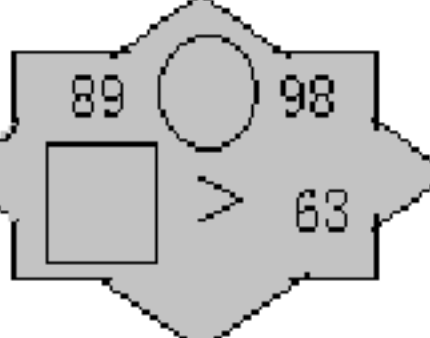
		
读作 (            )	读作 (            )	读作: (            )

2、下面的数中，最大的数是 (            )，最小的数是 (            )，最接近 100 的数是 (            )，最接近 90 的数是 (            ) 和 (            )。



3、52 是由 (            ) 个十和 (            ) 个一组成的；100 是由 (            ) 个十组成；(            ) 个十组成 70。

4、在○里填“>”、“<”，在□里填适当的数。

		
---	--	---

5、4 元 = (            ) 角                      50 分 = (            ) 角

18 角 = (            ) 元 (            ) 角      7 角 = (            ) 分

二、计算。(共 30 分)

1、直接写出得数。(10 分)

41 + 9 =            10 + 30 =            57 - 9 =            85 - 80 =            60 + 40 =

100 - 30 =            72 - 8 =            26 + 10 =            50 + 26 =            80 - 8 =

2、计算。(8 分)

$\begin{array}{r} 25 \\ + 75 \\ \hline \end{array}$	$\begin{array}{r} 17 \\ + 22 \\ \hline \end{array}$	$\begin{array}{r} 98 \\ - 88 \\ \hline \end{array}$	$\begin{array}{r} 53 \\ - 29 \\ \hline \end{array}$
---	---	---	---

3、用竖式计算。

37 + 18 =

100 - 26 =


63 + 17 =

16 + 27 + 49 =

99 - 29 - 25 =

54 + 42 - 67 =

、连线。(4分)



9:00

3:30

快8时了

刚过4时

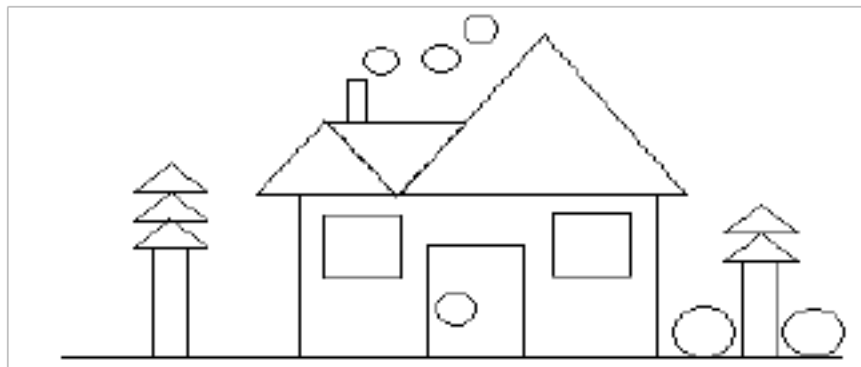
2、找座位。(6分)

讲台					
军军 1			园园	希希坐在在兵兵左边	园园坐在兵兵的右边
红红 2			京京	军军坐在希希的后面	贝贝坐在园园的前面
希希 3			贝贝	红红坐在第3组第3排	京京坐在第2组第1排
	第1组	第2组	第3组		

四、看一看，填一填 (共 20 分)

1、我的家。(16分)

(1) 分一分，数一数。




三角形	正方形	圆	长方形
△	□	○	▭
( ) 个	( ) 个	( ) 个	( ) 个

(2) 我的家一共有 ( ) 个图形。最多的图形是 ( )，最少的图形是 ( )。

) 个。

2、献爱心。(4分)



欢欢可能捐了多少元? (画√)

京京可能捐了多少元? (画△)

5 元	38 元	45 元	50 元	100 元

五、解决问题。( 分)

1、一(1)班评上“纪律星”的有26人,评上“智多星”的有18人,评上“才艺星”的有12人。(6分)

(1) 评上“纪律星”和“智多星”的一共有多少人?(3分)

$$\square \bigcirc \square = \square \text{ (人)} \quad \text{答: 一共有 ( ) 人。}$$

(2) 评上“纪律星”比评上“才艺星”的多多少人?(3分)

$$\square \bigcirc \square = \square \text{ (人)} \quad \text{答: 多 ( ) 人。}$$

2、商店原来有“海宝”玩具100个,已经卖了94个,又进了65个。现在还有“海宝”玩具多少个?

$$\square \bigcirc \square \bigcirc \square = \square \text{ (个)} \quad \text{答: 现在还有“海宝”玩具 ( ) 个。}$$

3、商店玩具价格如下:

飞机: 28 元

坦克: 47 元

小汽车: 35 元

(1) 坦克比飞机多多少元?

$$\square \bigcirc \square = \square \text{ (元)} \quad \text{答: 坦克比飞机多 ( ) 元。}$$

(2) 军军有70元,买了玩具飞机和玩具小汽车,还剩下多少钱?

$$\square \bigcirc \square \bigcirc \square = \square \text{ (元)}$$

答: 还剩 ( ) 元。

附参考答案

1、三十四，四十二，一百； 2、100，88，99，98，100； 3、5，2；10，7；

4、<，>，<； 0~99； 比47大的任一个数，比63大的任一个数。

5、40，5，1、8；70；

## 二、计算。

1、直接写出得数，50，40，48，5，100，70，64，36，76，72；

2、计算。100，39，10，24；

3、竖式计算。55，74，80，92，45，29.

三、1、连线。上1—下2，上2—下3，上3—下4，上4—下1.

2、(从上到下，从左到右) 1: 乐乐，京京，贝贝， 2、希希，兵兵，园园，3、 军军，  
欢欢，红红；

四、看一看，填一填。1、8，2，6，5； 2、21，△，□，6；

2、献爱心。38元(√) 50元(○)

## 五、解决问题。

1 (1)  $26+18=44$ (人) 答：评上“纪律星”和“智多星”的共有44人。

(2)  $26-12=14$ (人) 答：评上“纪律星”比评上“才艺星”的多14人。

2、 $100-94+65=71$ (个) 答：现在还有“海宝”玩具71个。

3、(1)  $47-28=19$ (元) 答：玩具坦克比玩具飞机多19元。

(2)  $70-28-35=7$ (元) 答：还剩下7元。

以上内容仅为本文档的试下载部分，为可阅读页数的一半内容。如要下载或阅读全文，请访问：<https://d.book118.com/308021054070006033>