

## 2020年七年级地理综合题专题训练（较难）（14）

1. 读经纬网图，回答问题。


(1) 写出图中各点的经纬度 A\_\_\_\_\_， B\_\_\_\_\_， C\_\_\_\_\_。

(2) 从东西半球看，A地位于\_\_\_\_\_半球；从低中高纬度看，C地位于\_\_\_\_\_纬度地区；\_\_\_\_\_地位于南北半球分界线上。

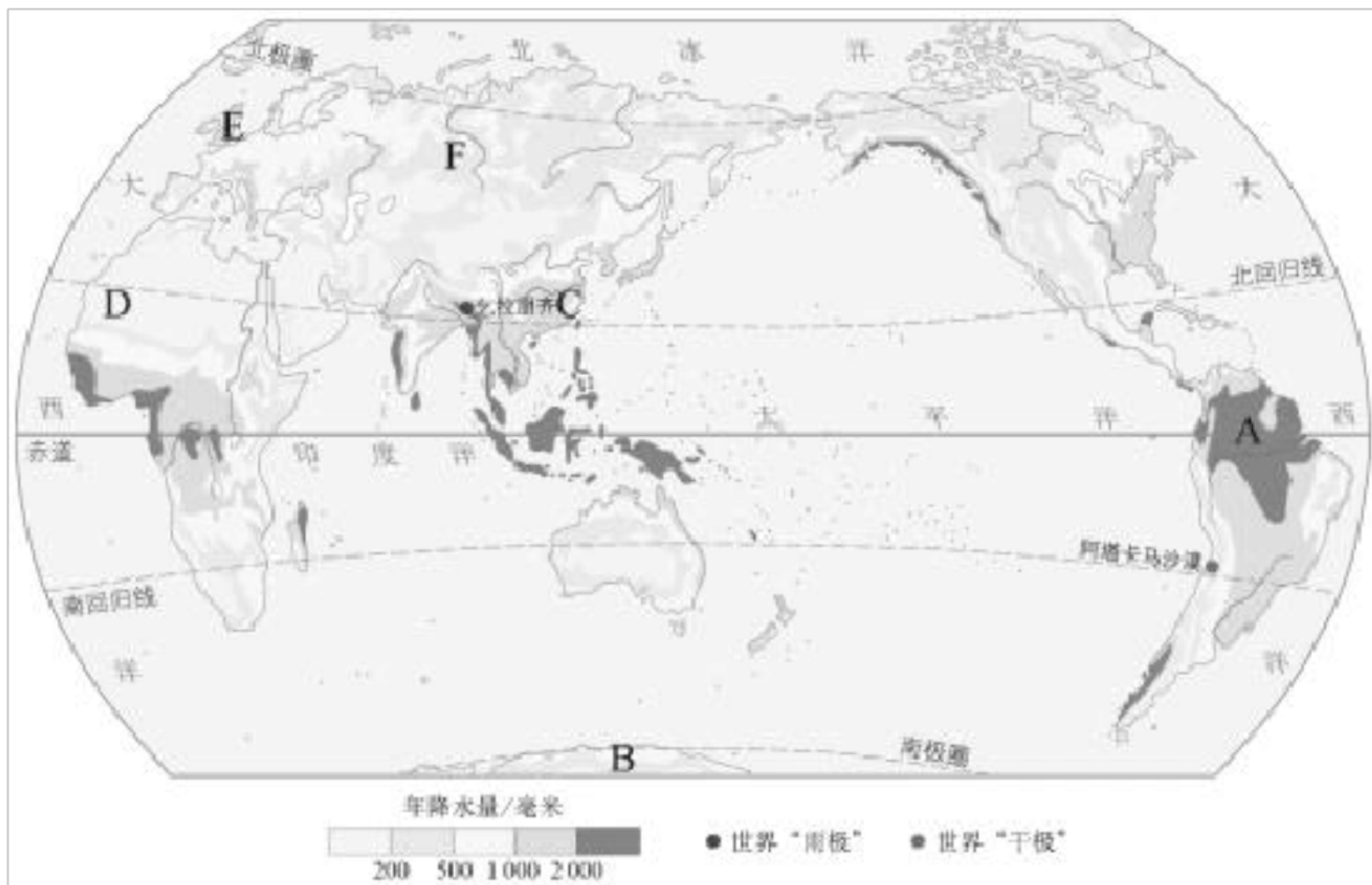
(3) A地位于B地的\_\_\_\_\_方向，D地位于B地的\_\_\_\_\_方向。

(4) A、C两地所在纬线较长的是\_\_\_\_\_地所在纬线。

(5) 同一晴天中，A、B两地更早看到日出的是\_\_\_\_\_地。



2. 读世界降水量分布图，回答问题。



(1) A、B两地相比，A地降水\_\_\_\_\_，B地降水\_\_\_\_\_。结论：从纬度位置上看\_\_\_\_\_附近地带降水多，\_\_\_\_\_地区降水少。

(2) C、D两地相比，C地降水\_\_\_\_\_，D地降水\_\_\_\_\_。结论：南、北回归线两侧，大陆\_\_\_\_\_

降水多，大陆\_\_\_\_\_降水少。

(3) E、F两地相比，E地降水\_\_\_\_\_，F地降水\_\_\_\_\_。结论：中纬度地区，\_\_\_\_\_地区降水多，\_\_\_\_\_地区降水少。

(4) 图中\_\_\_\_\_降水最多，被称为世界“雨极”，此处年降水量多，主要是由于其位于\_\_\_\_\_山脉的南麓，东、北、西三面地势较高，地形呈簸箕状，从\_\_\_\_\_洋吹来的暖湿气流，在此受阻抬升，形成丰沛的降水。

3. 如图为某中学地理兴趣小组组织夏令营活动的野外考察线路和考察地等高线地形图(单位：米)。读图回答下列问题。

(1) 图中字母C表示的地形部位名称是\_\_\_\_\_。

(2) 图的等高距是\_\_\_\_\_米，野外考察路线中②处与④处的相对高度是\_\_\_\_\_米。

(3) 若考察队员沿着路线骑行，最费力的路段是\_\_\_\_\_ (填字母)

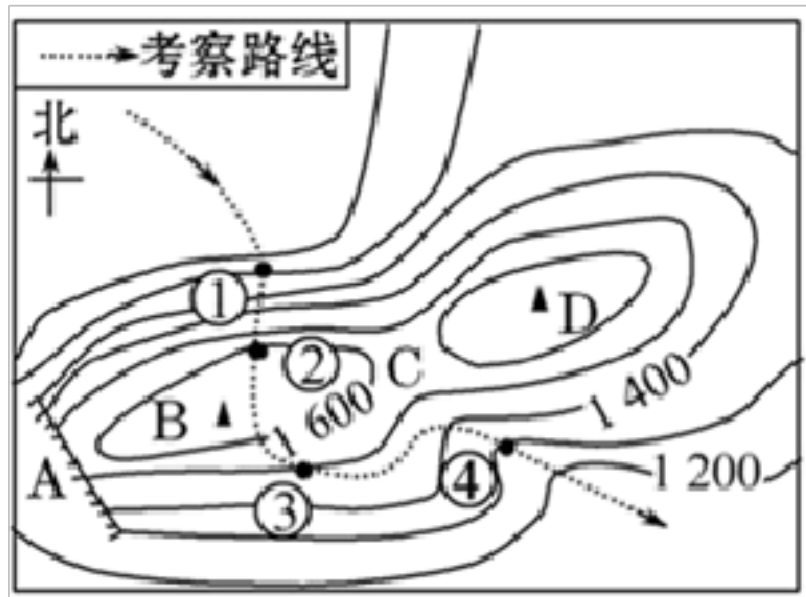
A. ①至②路段 B. ②至③路段

C. ③至④路段 D. ④以下路段

(4) 攀岩是人们比较喜欢的一种野外挑战极限运动，图A、B、C、D四处中，你认为最适合攀岩运动的是\_\_\_\_\_处，此处的地形部位名称是\_\_\_\_\_。

(5) 考虑到如遇大雨天气可能引发山洪而产生危险，老师要求同学们不准在①②③④中\_\_\_\_\_处搭帐篷宿营，原因是\_\_\_\_\_。

(6) 某考察队员在④处迷路，他沿着附近一条的小溪，向下游前进，摆脱了困境，请解释这种做法的合理性是\_\_\_\_\_。



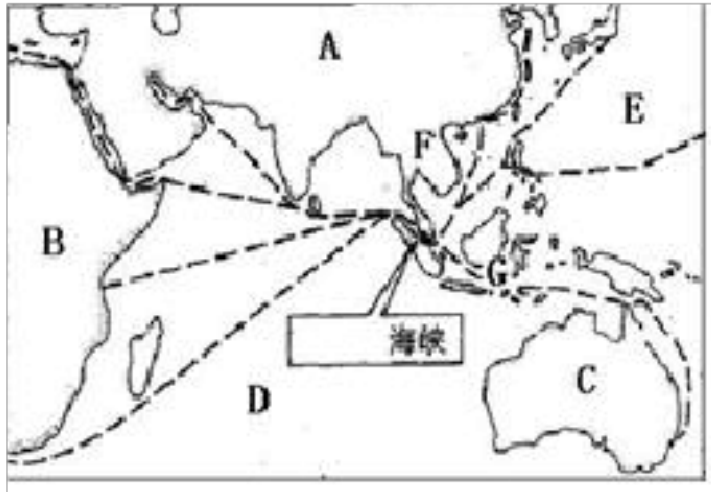
4. 读东南亚地图完成下列问题

(1) 大洲：A\_\_\_\_\_洲，B\_\_\_\_\_洲，C\_\_\_\_\_洲；大洋：D\_\_\_\_\_洋，E\_\_\_\_\_洋，东南亚包括F\_\_\_\_\_半岛和G\_\_\_\_\_群岛。

(2) 有一船只从中国的沿海出发到欧洲去，途中要经过太平洋、\_\_\_\_\_海峡、印度洋，再经\_\_\_\_\_运河进入地中海，最后到达\_\_\_\_\_洋。

(3) 马来群岛的气候以\_\_\_\_\_为主，该气候特征：终年\_\_\_\_\_。

(4) 东南亚主要的粮食作物：\_\_\_\_\_。



5. 读我国四大地理区域示意图，回答下列问题。

(1) 我国四大地理单元之间界线明显。写出 AD、CD 之间界线确定的主导因素。AD\_\_\_\_\_，CD\_\_\_\_\_。

(2) M 区地理位置比较特殊，从位置来看：从\_\_\_\_\_向\_\_\_\_\_过渡；从植被来看：从\_\_\_\_\_向\_\_\_\_\_过渡。

(3) 你的学校所在的黄冈市位于四大地理分区中的\_\_\_\_\_（填字母）地区，其降水和热量配合特点是\_\_\_\_\_。

B、C 区域的显著自然地理特征分别是\_\_\_\_\_、\_\_\_\_\_。

(4) 某同学到新疆旅游，发现当地瓜果特别甜。请解释原因。\_\_\_\_\_。

(5) 台湾省享有热带、亚热带“水果之乡”的美称，四季鲜果不断。与出口欧洲相比，台湾省的水果销往祖国大陆的好处有哪些？\_\_\_\_\_。

(6) 近年来，台湾频发地震，其主要原因是\_\_\_\_\_。

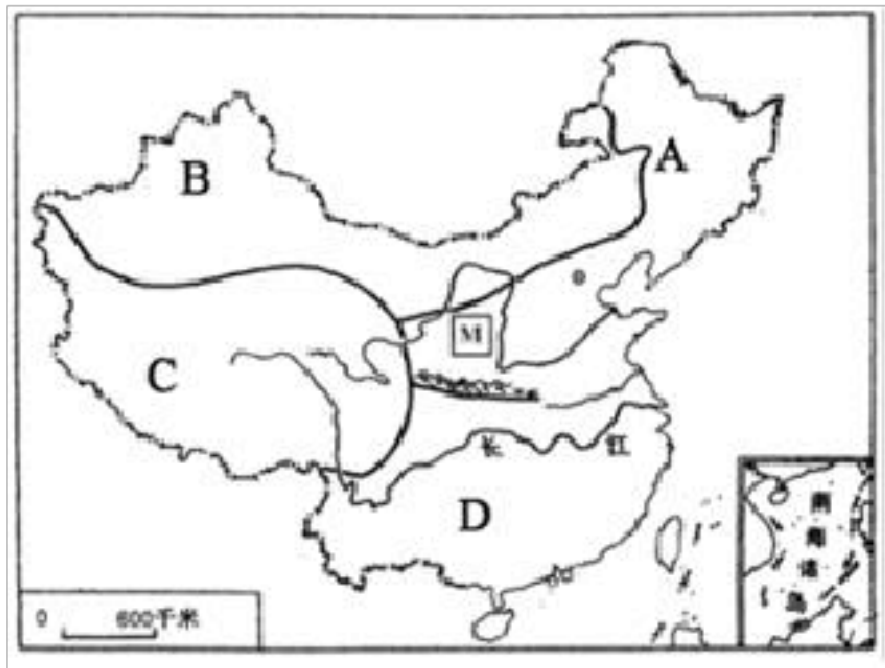
A. 太平洋板块与印度洋板块碰撞

B. 太平洋板块与亚欧板块碰撞

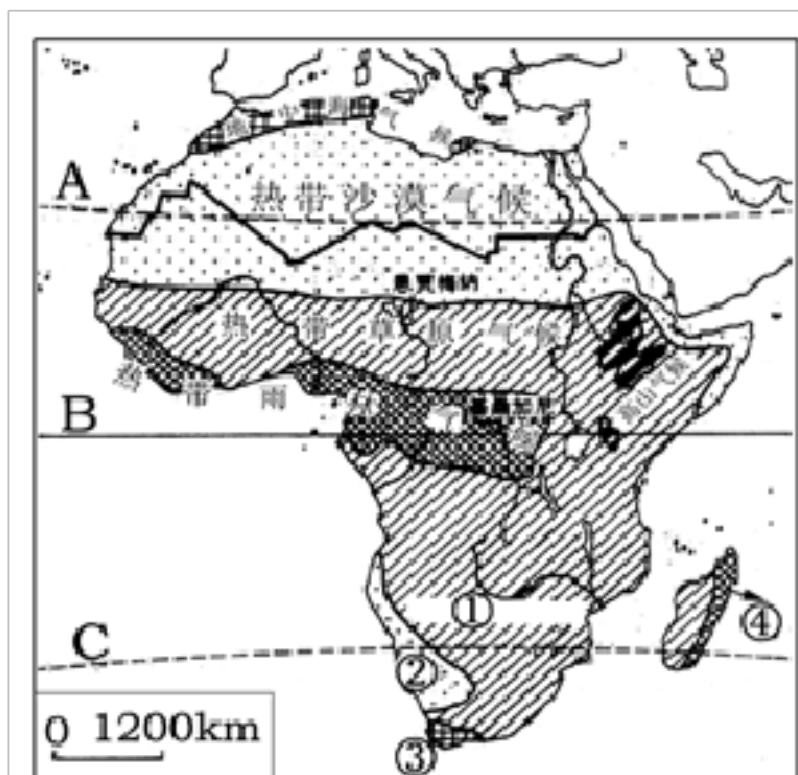
C. 印度洋板块与亚欧板块碰撞

D. 太平洋板块与南极洲板块碰撞

(7) 试从文化渊源方面说明台湾与祖国大陆的关系。\_\_\_\_\_。



6. 读下列“非洲气候类型分布图”和“非洲物产分布图”，回答问题。

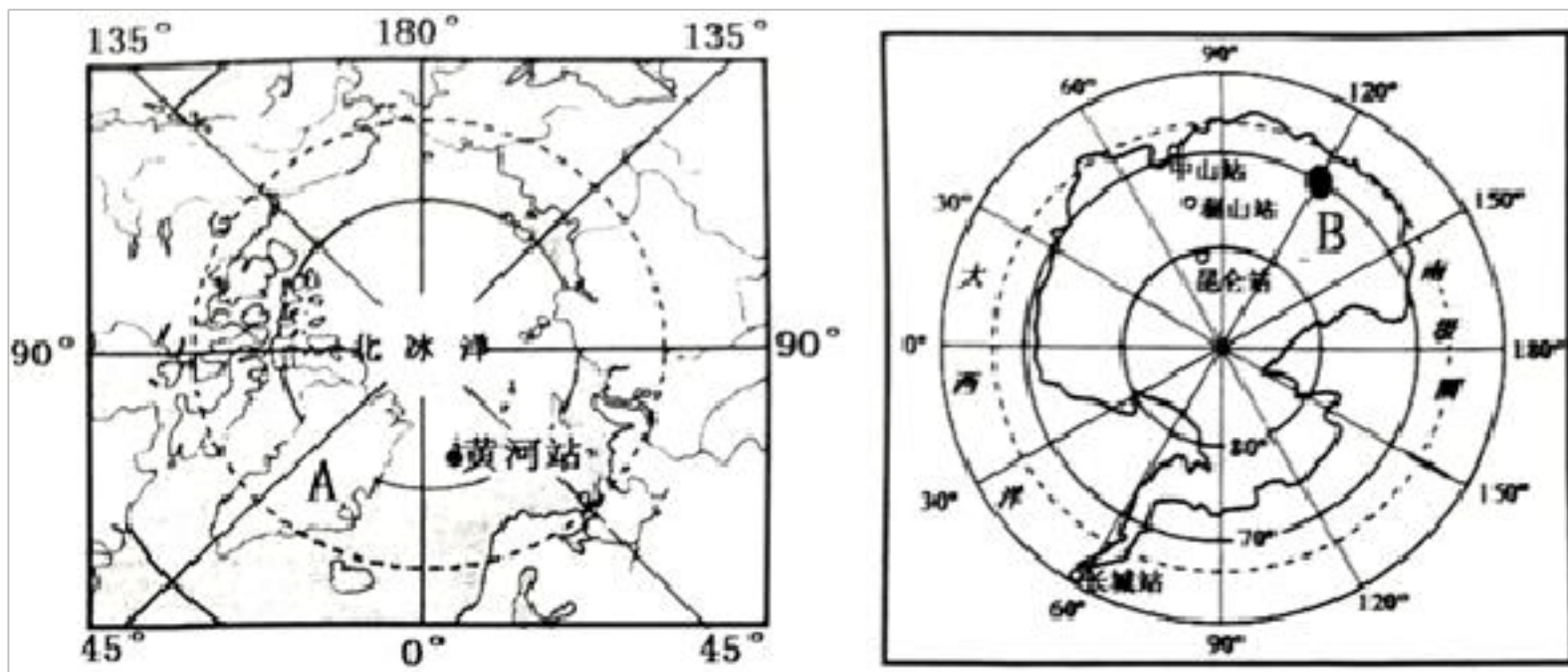


非洲气候类型分布图



- (1)、非洲北临\_\_\_\_\_，东临\_\_\_\_\_洋。
- (2)、从“非洲气候类型分布图”看出：非洲大部分地区位于 A\_\_\_\_\_和 C\_\_\_\_\_（重要纬线）之间，主要属于\_\_\_\_\_（温度带），绝大多数地区年平均气温都在 20℃ 以上，气候普遍暖热，因而被称为“\_\_\_\_\_”。
- (3)、非洲气候类型中，分布面积最广的是\_\_\_\_\_气候，其气候类型在分布上,形成了以 B\_\_\_\_\_（纬线）为中心,南北两侧呈\_\_\_分布的特点。
- (4)、某旅游记者在游记中写到：“烈日下，成群的斑马悠闲地在草原上散步，不远处有几只幼狮在母狮周围嬉戏。”该记者描述的地区应在图中的（ ）  
A、①处 B、②处 C、③处
- (5)、非洲地域辽阔，物产丰富，被誉为“\_\_\_\_\_”，结合右上图，你认为非洲发展经济有哪些资源方面的优势？\_\_\_\_\_。（写两点即可）
- (6)、右上图 A、B 两条河流中流量较大的是\_\_\_\_\_河，请根据左上“非洲气候类型分布图”，说说你的判断理由\_\_\_\_\_。

7. 读“两极地区”图，回答问题。



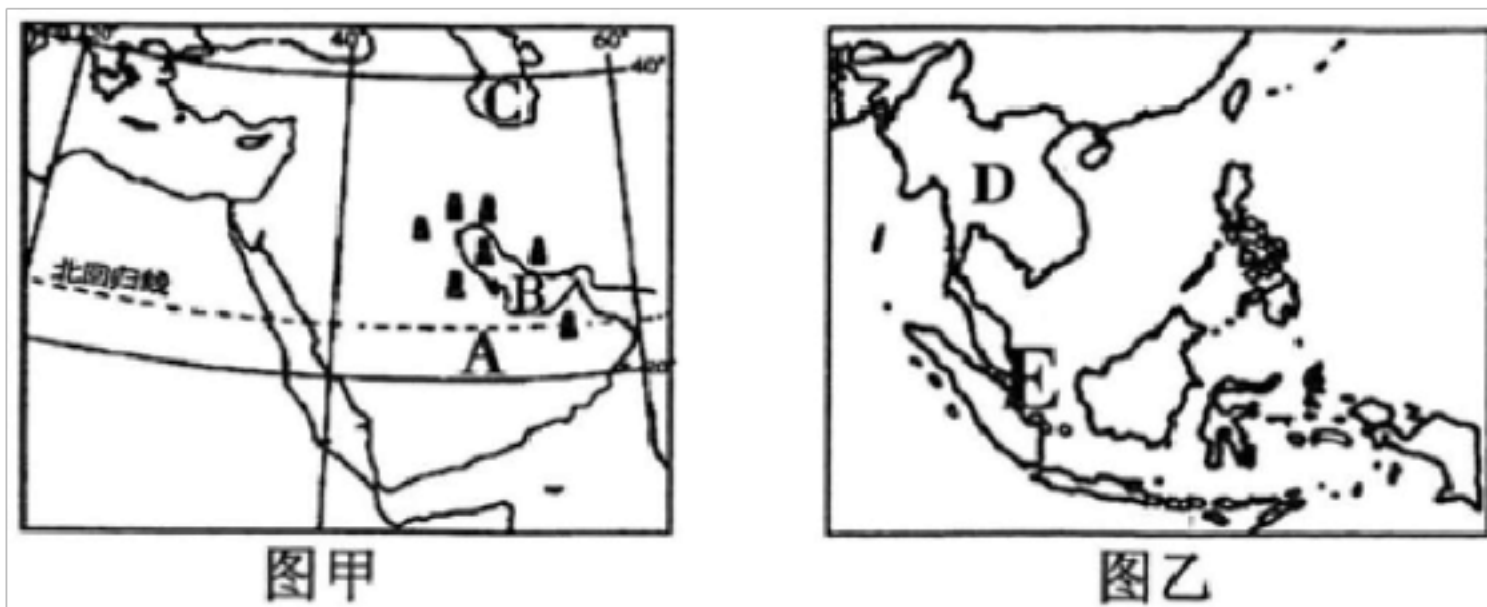
- (1) A 所在的岛屿是\_\_\_\_\_，中山站濒临的大洋是\_\_\_\_\_。
- (2) B 点位于 (120°E, 70°S) \_\_\_\_\_ (时区)。当黄河站 (东一区) 时间为 2019 年 4 月 1 日 9:00 时，B 处的时间为\_\_\_\_\_。
- (3) 南北两极的代表动物分别是\_\_\_\_\_、\_\_\_\_\_。它们一般有哪些特点来适应极地严酷的自然环境? \_\_\_\_\_。
- (4) 北极地区的原住居民主要是\_\_\_\_\_、\_\_\_\_\_。试简要分析北极地区有常住居民而南极地区没有的原因。\_\_\_\_\_。

8. 读欧洲地区图，回答问题。

- (1) ①\_\_\_\_\_ (国家)
- (2) 图中地区内河航运发达的自然原因是：欧洲西部分布最广的\_\_\_\_\_气候和以\_\_\_\_\_为主的地形。
- (3) 欧洲著名的国际河流，也是欧洲第二长河，此河是\_\_\_\_\_ (河流)。
- (4) 中国游客到该地区旅游，要欣赏以下景观，分别要去的国家是到“千年古都”罗马观光，应该到\_\_\_\_\_ (填代号)。到“啤酒之都”慕尼黑，欢度啤酒节，应该到\_\_\_\_\_ (填国家名称)。到“艺术之都”，领略艺术魅力，应该到\_\_\_\_\_ (填代号)。观赏经典斗牛比赛，要到\_\_\_\_\_ (填代号)。

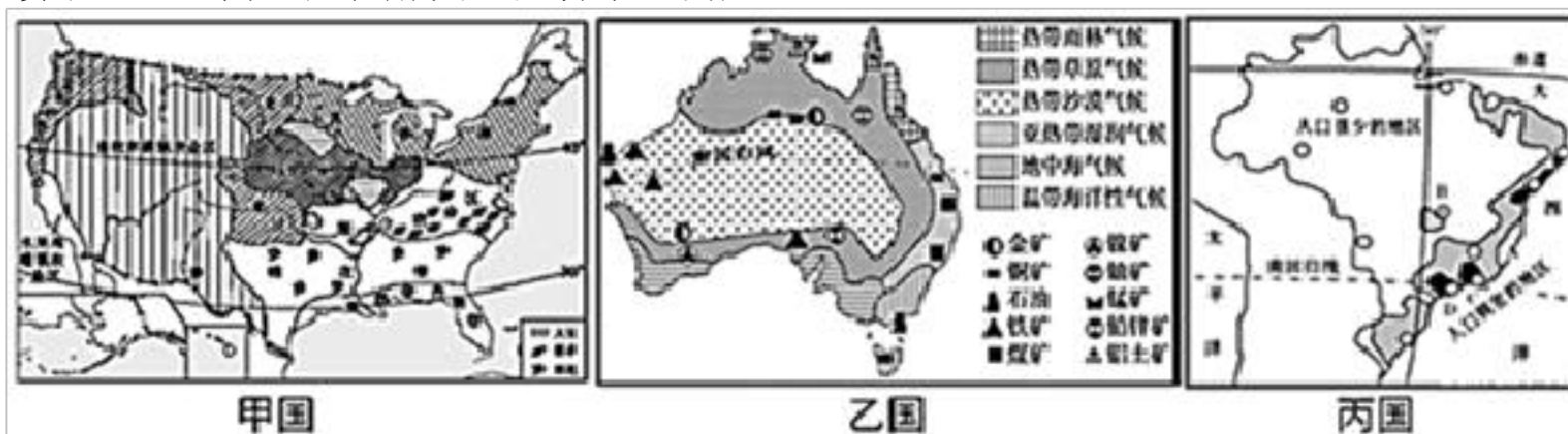


9. 读世界两大区域示意图，据所学知识完成下列各题。



- (1) 图甲所示地区最丰富的能源资源是\_\_\_\_\_，主要分布在 B\_\_\_\_\_及其沿岸地区；
- (2) 图乙中 D 是\_\_\_\_\_半岛，其地形特点是\_\_\_\_\_，该半岛的城市主要分布在河流沿岸及河口三角洲；
- (3) 图甲地区的人种主要是\_\_\_\_\_，居民大多信仰\_\_\_\_\_教；
- (4) 将图甲中所示资源从中东运往日本，途中走最短航线经图乙之地 E 是\_\_\_\_\_海峡。

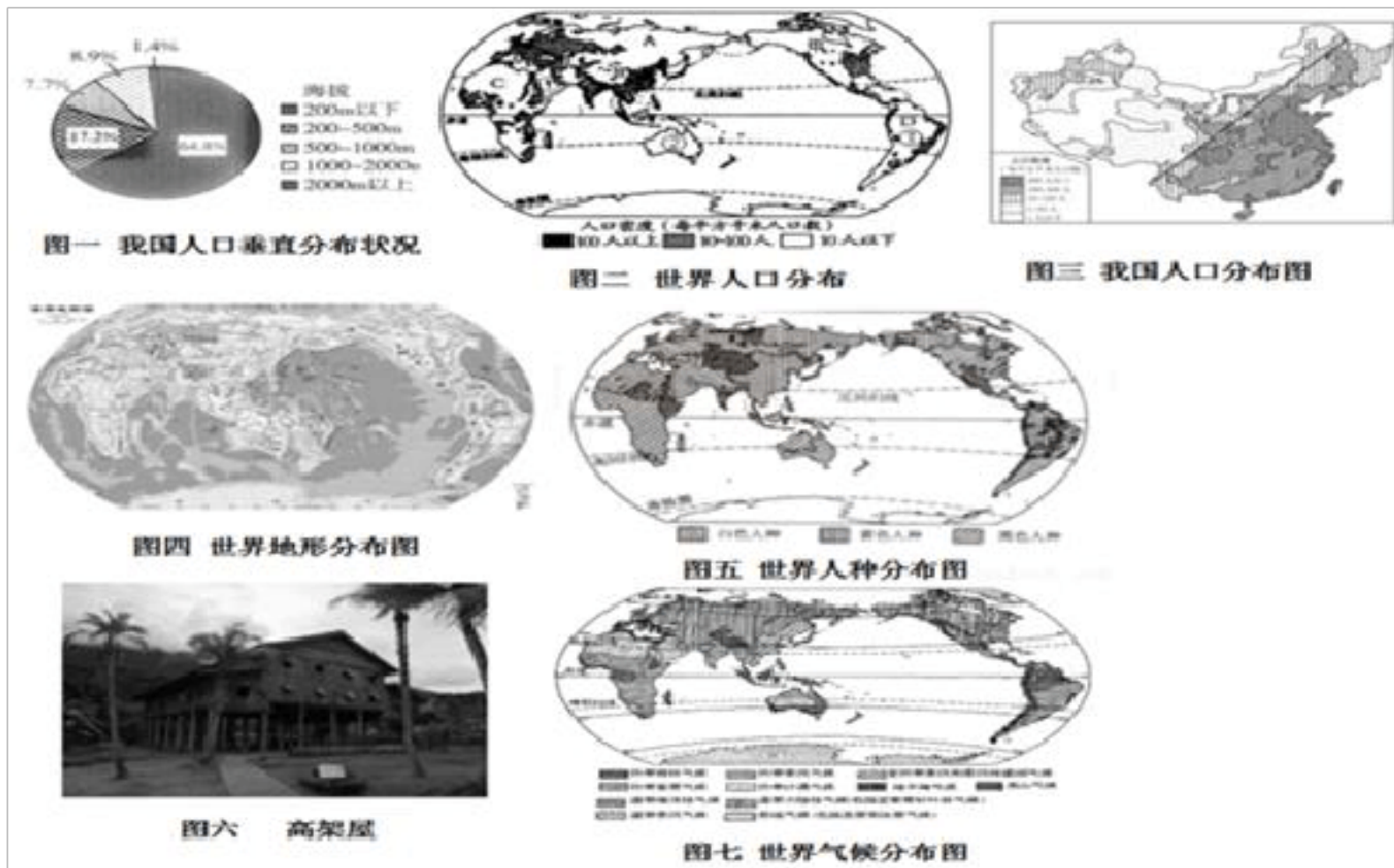
10. 读甲、乙、丙三国轮廓图，回答下边问题。



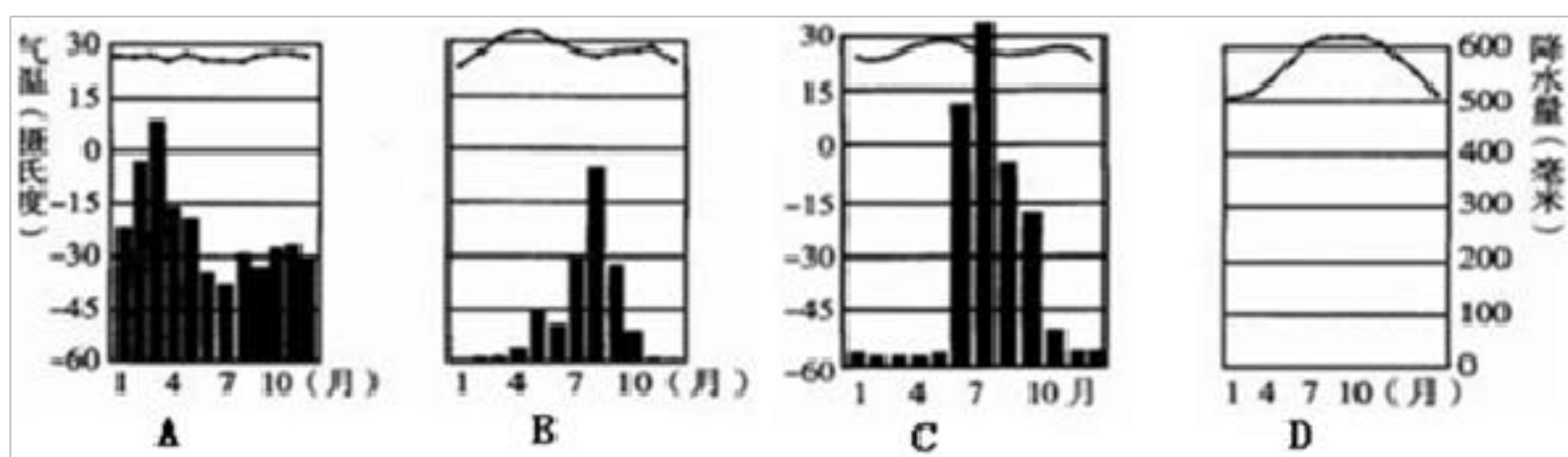
- (1) 甲国是\_\_\_\_\_，乙国的首都是\_\_\_\_\_，丙国位于\_\_\_\_\_洲。
- (2) 三国地理特征有明显的差异。下列对甲乙丙三国地理特征的描述，正确的是\_\_\_\_\_。
- ①甲国地形分为三大南北纵列带，其中西部为阿巴拉契亚山脉  
 ②乙国有许多特有的动物，如袋鼠、鸸鹋等  
 ③丙国濒临太平洋和大西洋  
 ④洛杉矶是甲国太平洋沿岸最大的港口城市和经济、文化中心  
 ⑤乙国是世界上最大的咖啡生产国和出口国  
 ⑥丙国热带雨林面积急剧减少，已引起国际社会的极大关注
- A. ①②③ B. ④⑤⑥ C. ①②⑤ D. ②④⑥
- (3) 三国都是世界农产品出口大国。从图中信息可知，甲国农业生产的显著特点是\_\_\_\_\_。
- (4) 乙国和丙国有许多共同的地理特征，请列举两条。（提示：可以从位置、气候、资源、人口和城市分布等方面分析）\_\_\_\_\_。

11. 某中学地理兴趣小组以我国和世界人口分布为主，探究“影响人口分布的主要自然因素”，下面是他们的探究程序，请你与他们一道完成探究过程吧。

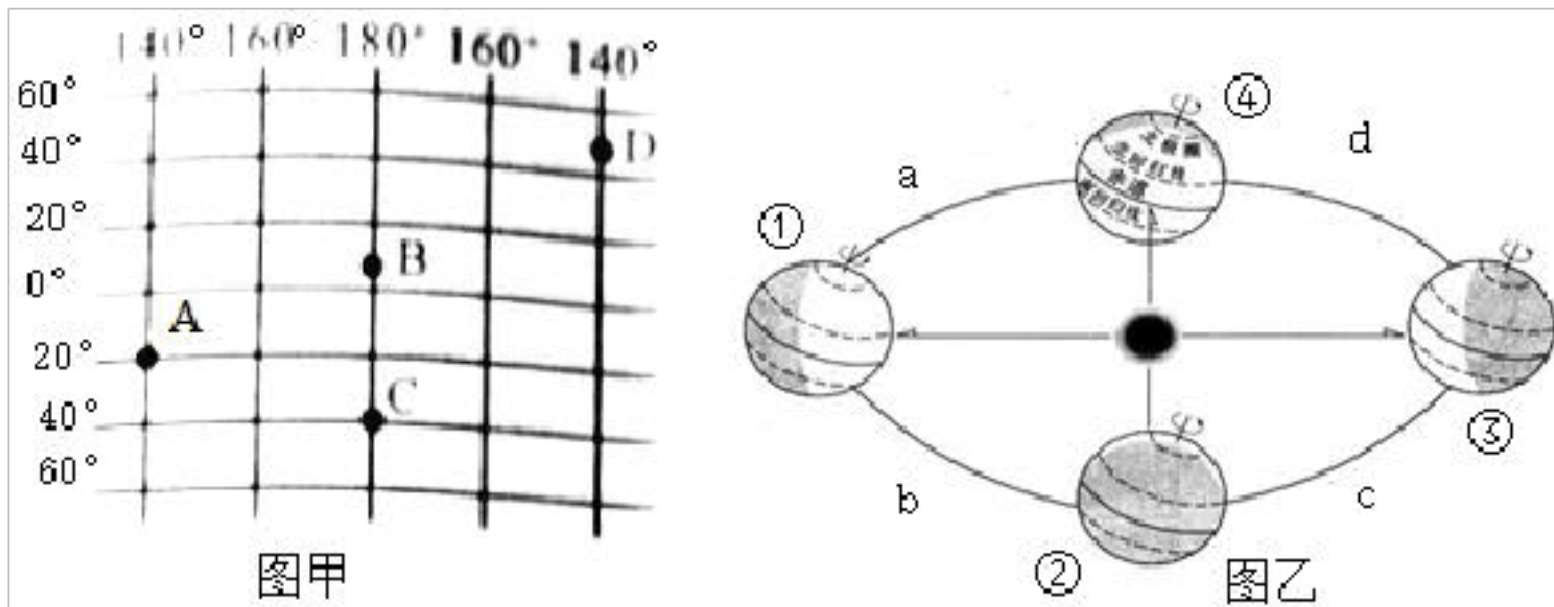
【探究资料】



- (1) 为探究“影响人口分布的主要因素”，兴趣小组应在以上图中选择的资料有：\_\_\_\_\_。
- (2) 纬度位置与人口分布：我国东部是世界上人口最稠密的地区之一，结合图二可以看出我国大部分人口位于\_\_\_\_\_地区。
- 海陆位置与人口分布：从海陆位置看，图三反映出我国人口主要分布在\_\_\_\_\_地区。
- 地形与人口分布：读图一从地形类型看，我国约 65%的人口主要分布\_\_\_\_\_地区。
- 综合归纳：我国人口分布集中分布于地形平坦、气候适宜的\_\_\_\_\_地区。
- (3) 从图二世界人口分布图可以看出，世界人口最稠密的地区有：亚洲的东部、\_\_\_\_\_；欧洲西部和\_\_\_\_\_洲东部等地区。
- (4) 图二中 C 区紧邻温暖的大西洋，但人口稀少，其主要原因是什么？\_\_\_\_\_。
- (5) 与图六景观对应的“气温曲线图和降水柱状图”最为相符的是\_\_\_\_\_，你能解释当地以木制高架屋的民居和气候之间关系吗？\_\_\_\_\_。

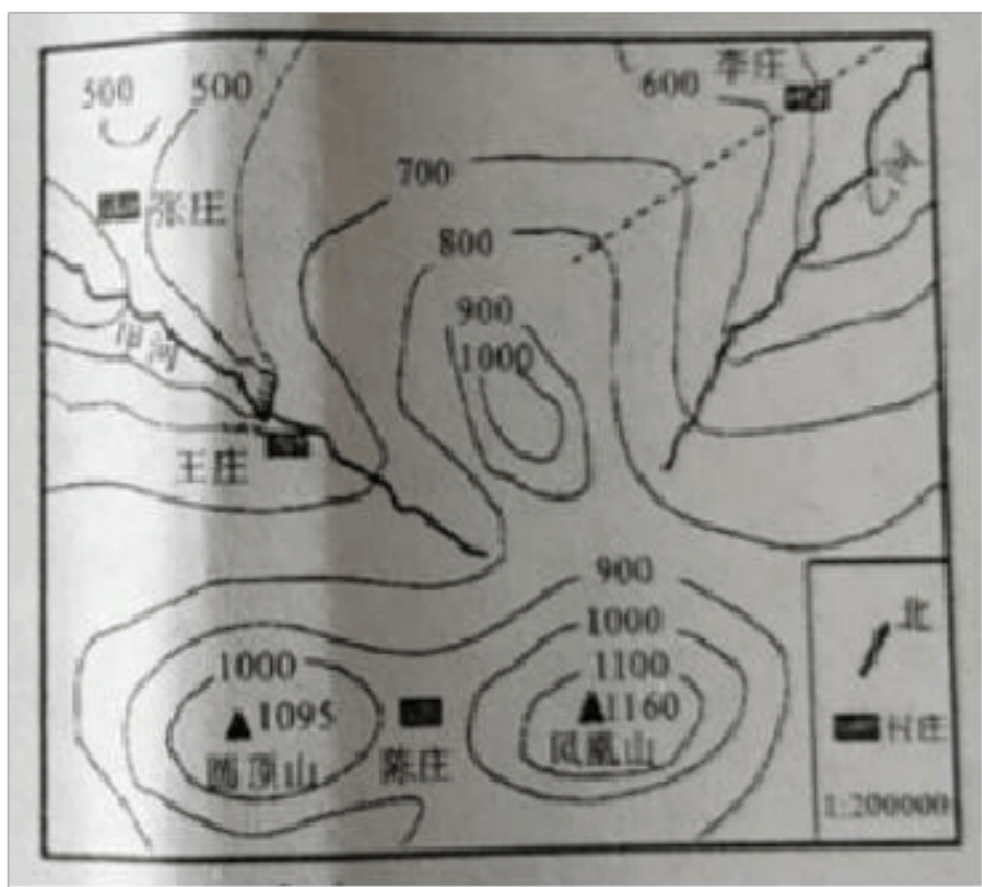


12. 读下列甲、乙两幅图，填空。



- (1) 图甲中 A 点的经纬度是\_\_\_\_\_。B 点属于东西半球的\_\_\_\_\_半球，C 点在五带中的\_\_\_\_\_带，D 点属于\_\_\_\_\_纬度（从“低”“中”“高”中选择）。
- (2) 图甲的四个点中，地球自转一周所行距离最长的是\_\_\_\_\_点。
- (3) 一架飞机从 A 点出发，沿着 A 点所在的经线一直向北飞，能否回到出发点？\_\_\_\_\_。
- (4) 图乙中当地球运行到③时，北半球的节气是\_\_\_\_\_，此时太阳直射点在\_\_\_\_\_（填纬线的名称）。当地球运行到①时，北极圈有\_\_\_\_\_现象。
- (5) 2020 年元旦当天，地球运行在图乙中的\_\_\_\_\_段（填字母），元旦之后，北半球夜逐渐变\_\_\_\_\_（填“长”或“短”）。

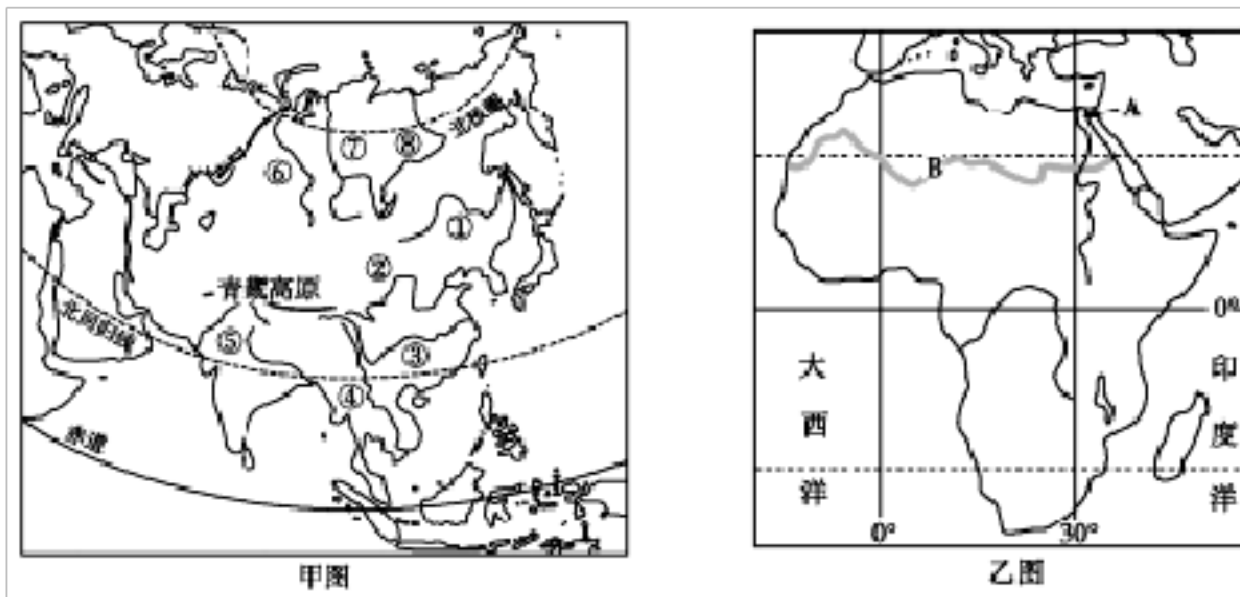
13. 樊城区某学校组织七年级学生在图中区域参加冬令营地理实践活动。读图完成下列问题。



- (1) 本图所示地区，地形类型以\_\_\_\_\_为主。
- (2) 图中李庄的地形部位是\_\_\_\_\_，若李庄处的气温为 10℃，则凤凰山顶处气温为\_\_\_\_\_℃。
- (3) 甲、乙两河共同发育的地形部位是\_\_\_\_\_，甲河的流向是\_\_\_\_\_。
- (4) 图中四个村庄附近能够欣赏“疑是银河落九天”美景的是\_\_\_\_\_；该村庄能够形成的有利因素有\_\_\_\_\_。
- (5) 图中王庄到张庄的图上距离是 2 厘米，实地距离约\_\_\_\_\_千米。
- (6) 如果从陈庄出发，爬凤凰山比爬圆顶山的难度大的原因是\_\_\_\_\_。



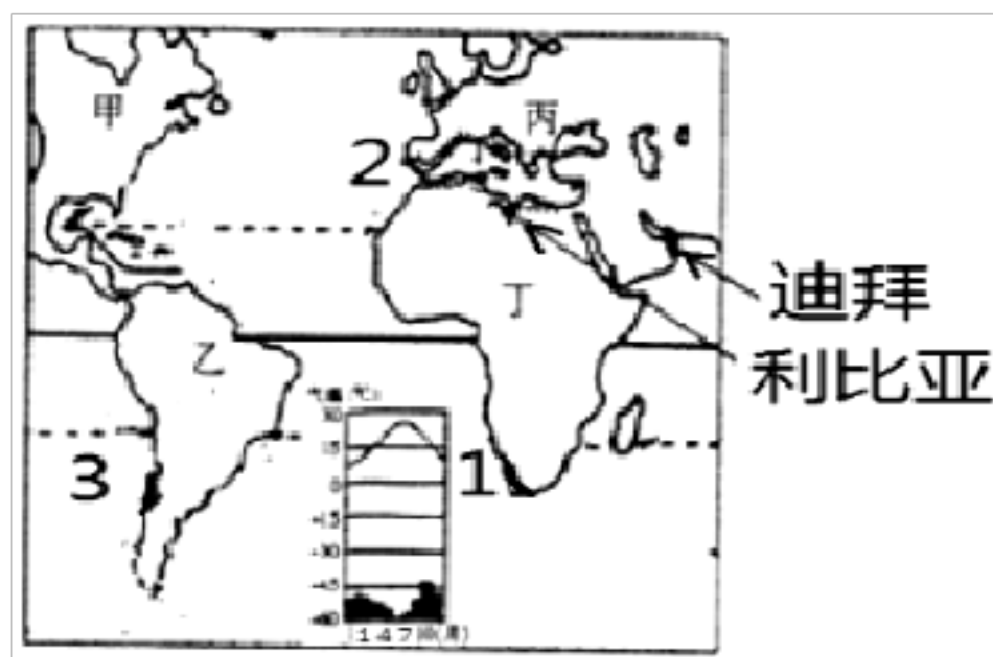
14. 读甲、乙两图，结合所学知识回答下列问题：



- (1) 甲图中①~⑧河流分别注入太平洋、印度洋和北冰洋，形成\_\_\_\_\_状水系，由此判断亚洲的地势特点是\_\_\_\_\_。
- (2) 乙图中 A 是亚、非两洲的分界线\_\_\_\_\_运河，B 线以南的广大地区是\_\_\_\_\_（人种）的故乡。
- (3) 亚洲的气候特点是\_\_\_\_\_，与亚洲相比，非洲缺少温带、寒带气候的原因是\_\_\_\_\_。
- (4) 丙图的高脚屋是东南亚原住居民的房屋，双层结构，上层住人，下层存放杂物，窗户大，屋顶坡面长且陡。请分析这种民居与当地气候的关系。

15. 读“世界部分地区图”，回答问题。

- (1) 图中甲乙丙丁几个大洲所环绕的大洋是\_\_\_\_\_。
- (2) 图中①②③三处中气候特点与所给的气温曲线和降水量柱状图相符的是\_\_\_\_\_点。
- (3) 从迪拜开出的游船想要去往美国纽约，最近的海上航线是：印度洋→红海→\_\_\_\_\_运河→地中海→\_\_\_\_\_海峡→大西洋→纽约。
- (4) 由利比亚的位置判断，当地居民主要信仰\_\_\_\_\_教。



16. 分析澳大利亚牧羊带分布与自然条件的关系。



- (1) 对照图1与图2，指出澳大利亚三大牧羊带的主要地形类型。\_\_\_\_\_。
- (2) 读图2，说出澳大利亚的大致纬度范围。阅读材料，看看澳大利亚的温度条件是否都适合发展养羊业？\_\_\_\_\_。
- (3) 绵羊品种繁多，不同品种的绵羊适应不同的气候条件。其中，细毛羊喜欢温暖干燥的气候；半细毛羊适应湿热的环境，惧怕干燥；肉用羊和肉毛兼用羊喜欢温暖湿润、全年温差不大的气候。对照图2与图3，说出澳大利亚的牧羊带与年降水量分布的关系。\_\_\_\_\_。

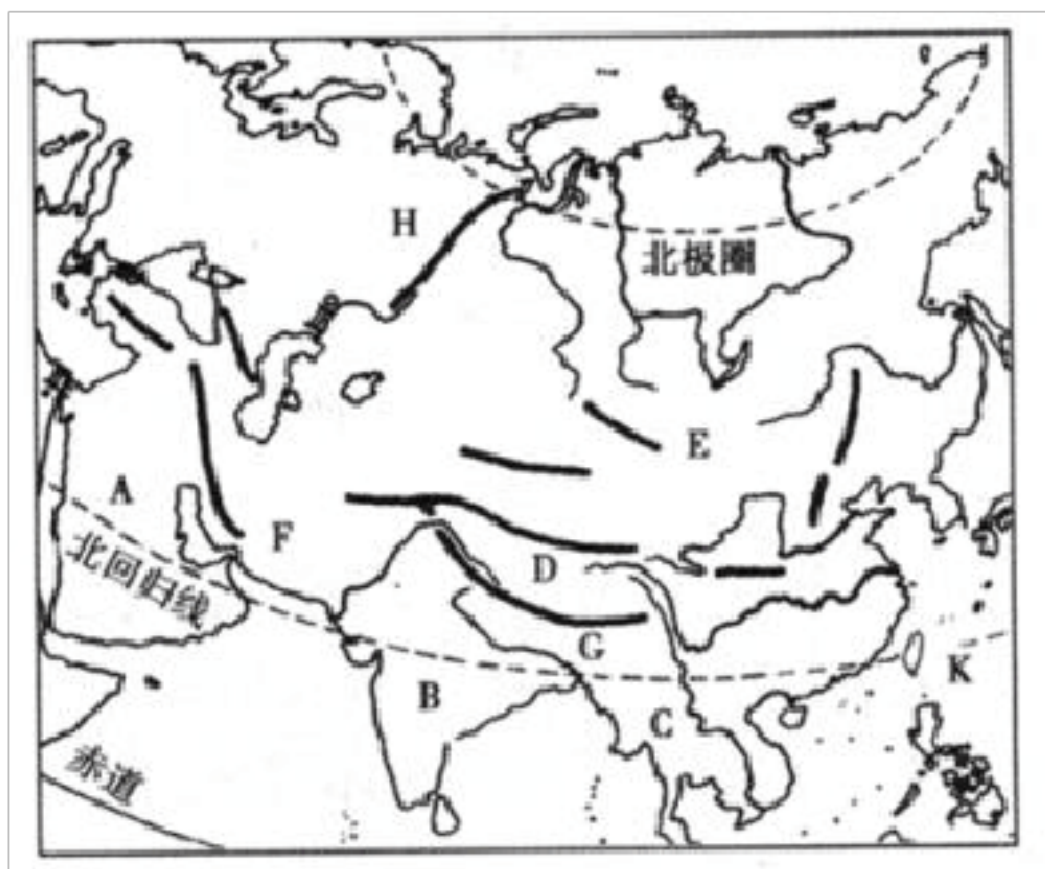


17. 讨论：下面是三位学生的对话。请你加入他们的讨论，谈谈你对开发和保护热带雨林的看法，写下你的论点和论据。



论点：\_\_\_\_\_；  
论据：\_\_\_\_\_。

18. 读亚洲部分地区地形略图，回答下列问题。



(1) 写出图中字母所代表的地理事物名称。

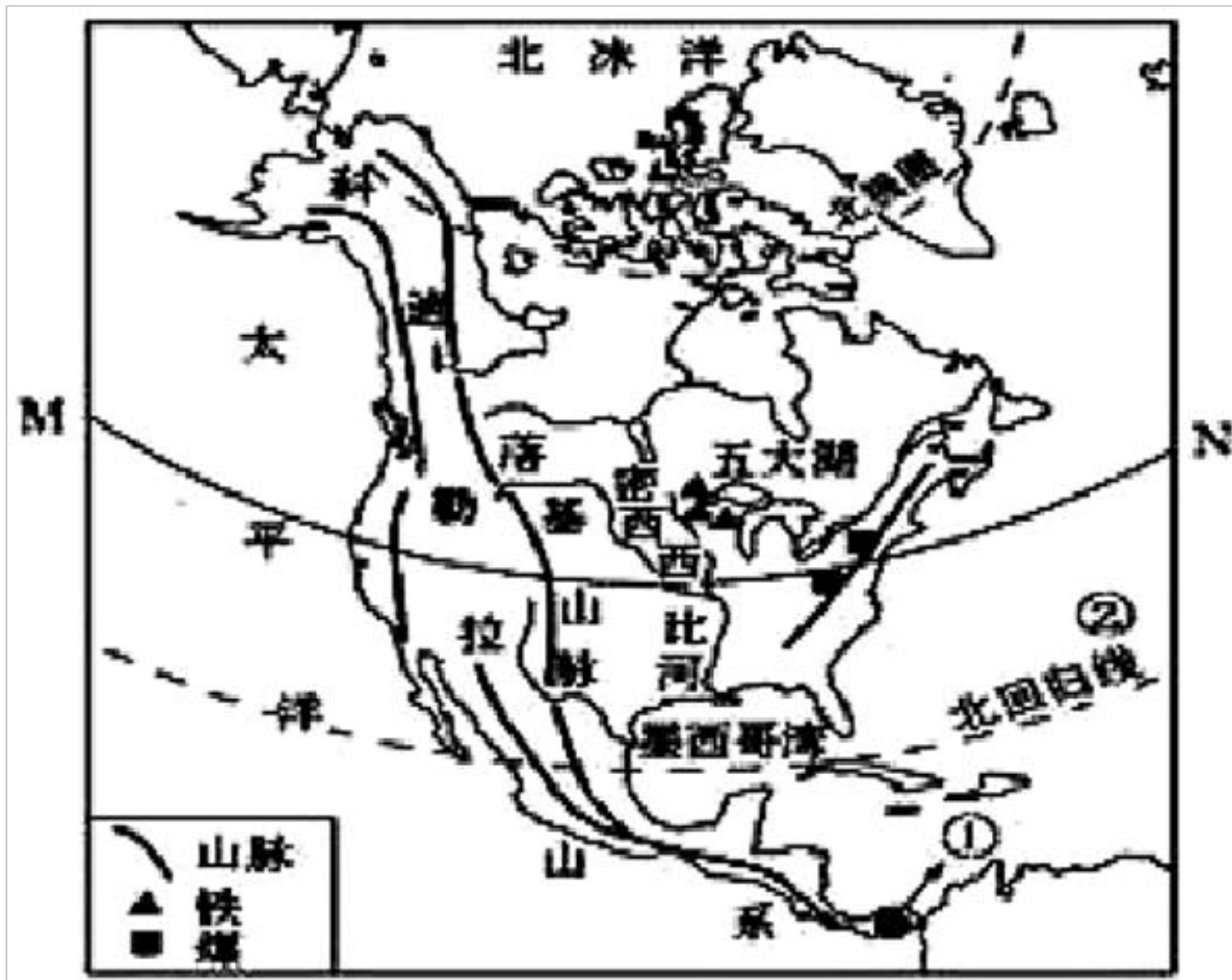
半岛：A \_\_\_\_\_， B \_\_\_\_\_， C \_\_\_\_\_；

高原：D \_\_\_\_\_； 山脉：G \_\_\_\_\_。

(2) 世界上最大的半岛是\_\_\_\_\_（填字母），其主要气候类型是\_\_\_\_\_。

(3) C地属于\_\_\_\_\_（填亚洲地理分区），其主要气候类型是\_\_\_\_\_。

19. 图为“北美洲的位置图”，读图完成下列问题。



- (1) 读图描述北美洲的海陆位置\_\_\_\_\_。
- (2) 北美洲大部分位于五带中\_\_\_\_\_，判断依据是\_\_\_\_\_。
- (3) 北美洲与南美洲的分界线①是\_\_\_\_\_。
- (4) 密西西比河的流向是\_\_\_\_\_，由此判断美国中部的地势特点是\_\_\_\_\_。
- (5) 读图北美洲的西部地形类型是以\_\_\_\_\_为主。

20. 图甲为“中南半岛地形、农作物及主要城市分布图”和图乙为“曼谷市气温曲线和降水柱状图”，读图文材料完成下列问题。

材料：水稻是一种喜温喜湿的农作物，在生长过程中需要充足的光照和热量，尤其是需要大量的水分。

以上内容仅为本文档的试下载部分，为可阅读页数的一半内容。如要下载或阅读全文，请访问：<https://d.book118.com/297104164020006045>