

慈溪市 2023 学年第一学期期末测试卷

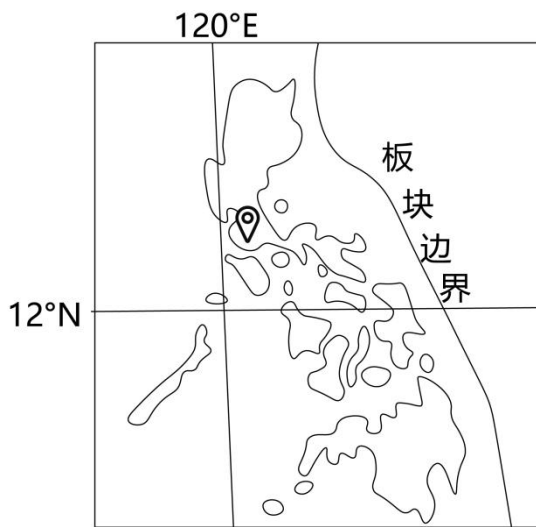
高二地理学科试卷 (答案在最后)

考生须知:

- 1、本试卷分选择题和非选择题两部分,共 8 页,满分 100 分,考试时间 90 分钟。
- 2、答题前,在答题卷指定区域填写学校、姓名、班级、考场号、座位号及准考证号。
- 3、所有答案必须写在答题卷上,写在试卷上无效,考试结束后,只需上交答题卷。

一、选择题(本大题共 25 小题,每小题 2 分,共 50 分。每小题列出的四个备选项中只有一个是符合题目要求的,不选、多选、错选均不得分)

2023 年 6 月 15 日,菲律宾发生 6.3 级地震,震源深度 119 千米,图为地震位置示意图,完成下面小题。



1. 图示板块边界的类型和菲律宾所属板块的名称分别是 ()
A. 消亡边界欧亚板块 B. 生长边界欧亚板块 C. 消亡边界太平洋板块 D. 生长边界太平洋板块
2. 地理信息技术在地震灾害中的应用有 ()
A. 制定灾区重建计划——遥感技术 B. 监测板块运动和断裂——遥感技术
C. 确定地震震级和烈度——全球卫星导航系统 D. 制定减灾预案,评估灾害损失——地理信息系统

下图为非洲大陆部分区域自然带分布图,图中虚线表示自然带分界线。完成下面小题。



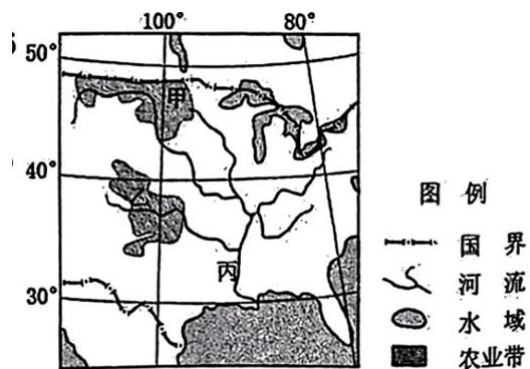
3. 图中①②③④四地的植被景观特征,说法正确的是()

- A. ①群落结构简单,多革质叶片
- B. ②零星分布着旱生乔木、灌木
- C. ③高大繁茂,有明显季相变化
- D. ④垂直结构复杂,多板根茎花

4. 图中①②④自然带的分布体现了()

- A. 纬度地带性分异规律
- B. 干湿度地带性分异规律
- C. 垂直分异规律
- D. 地方性分异规律

下图为美国本土部分地理要素分布示意图。完成下面小题。



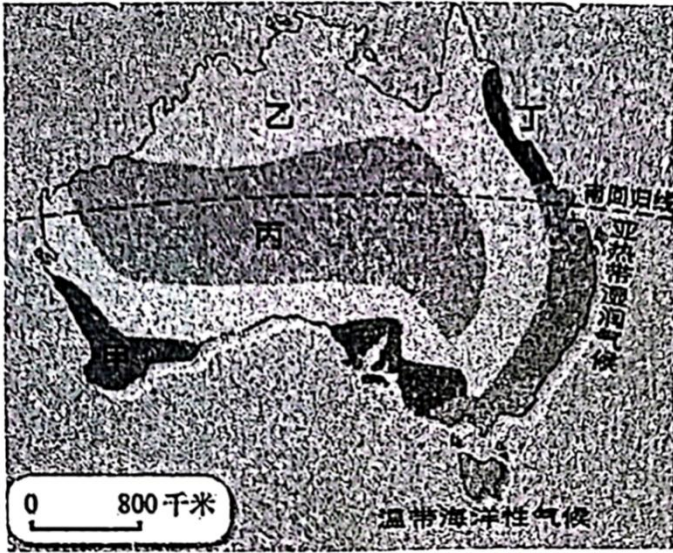
5. 关于甲、乙农业带的比较,叙述正确的是()

- A. 甲带小麦秋季播种,生长周期较短
- B. 甲、乙带小麦多属于商品谷物农业
- C. 乙带草原面积广阔,乳畜业规模大
- D. 甲、乙带水源充足,适宜水稻种植

6. 近年来丙地许多农民将棉花改种为小麦,主要影响因素是()

- A. 土地
- B. 气候
- C. 市场
- D. 劳动力

读澳大利亚气候类型分布图。完成下面小题。



7. 关于澳大利亚气候类型，下列描述正确的是（ ）

- A. 大致呈半环状分布
- B. 甲终年高温，分干湿两季
- C. 乙终年受赤道低压带控制
- D. 以赤道为轴线，南北对称分布

8. 澳大利亚的农业生产、人口分布与气候密切相关，该国（ ）

- A. 丙气候区最适宜发展大牧场放牧业
- B. 人口主要分布在东南沿海一带
- C. 丁气候区最适宜发展混合农业
- D. 人口主要分布在西北沿海一带

读世界局部区域某季节洋流分布示意图。完成下面小题。

以上内容仅为本文档的试下载部分，为可阅读页数的一半内容。如要下载或阅读全文，请访问：<https://d.book118.com/225102010330011110>