

2022-2023学年全国初中七年级下地理人教版期中试卷

考试总分：150分 考试时间：120分钟

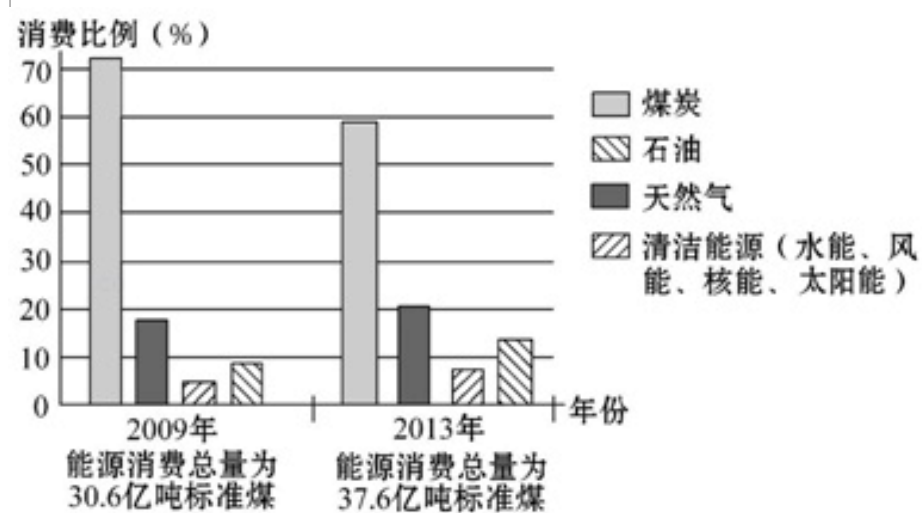
学校：_____ 班级：_____ 姓名：_____ 考号：_____

一、选择题（本题共计23小题，每题5分，共计115分）

1. 南水北调工程东线方案的主要优势是（ ）

- A. 输水线路较短
- B. 人口少，经济最发达
- C. 可以利用已有河道及天然湖泊
- D. 南高北低方便引水

2. 如图是我国2009年和2013年能源消费结构柱状图，比较2009年和2013年能源消费状况，下列说法不正确的是（ ）



- A. 能源消费都以煤炭为主
- B. 非可再生能源的消费比例都在减少
- C. 能源消费总量总体增加
- D. 清洁能源的消费呈现增长的趋势

3. 下列有关我国土地资源及其利用的叙述，正确的是（ ）

- A. 在我国城市化进程中，应该大力扩建城市建设用地
- B. 大力围湖造田，扩大耕地面积
- C. 类型多样，耕地、林地比重大，是我国土地资源的现状
- D. 在西部水土流失和风沙危害严重的地区，实行退耕还林，退耕还草

4. 传统民居与当地自然环境关系密切。下列传统民居与其优点的叙述，正确的是（ ）

- A. 高脚屋 - - 御寒、防风

B.冰屋 - - 凉爽、防潮

C.蒙古包 - - 防晒又凉快

D.窑洞 - - 冬暖夏凉

5. 我国实施南水北调工程是因为我国水资源（ ）

A.地区分布不均

B.季节分布不均

C.年际变化大

D.总量大，人均占有量少

6. 降水量的不同会影响到民居的建筑形式，我国南方的民居一般是（ ）

A.土墙平顶房

B.墙体镂空的晾房

C.砖墙斜顶房

D.窑洞

7. 我国幅员辽阔，地域差异显著。下列说法正确的是（ ）



A.农业类型—东耕西牧

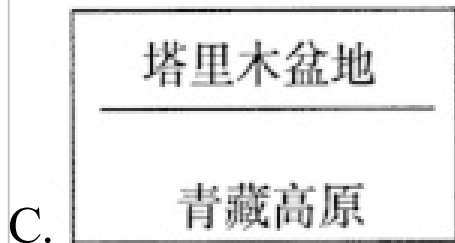
B.人口和城市—东疏西密

C.传统民居—南平北尖

D.传统交通工具—南马北船

8. 下列A、B、C、D四列山脉是地势第二、三级阶梯分界线的山脉是（ ）

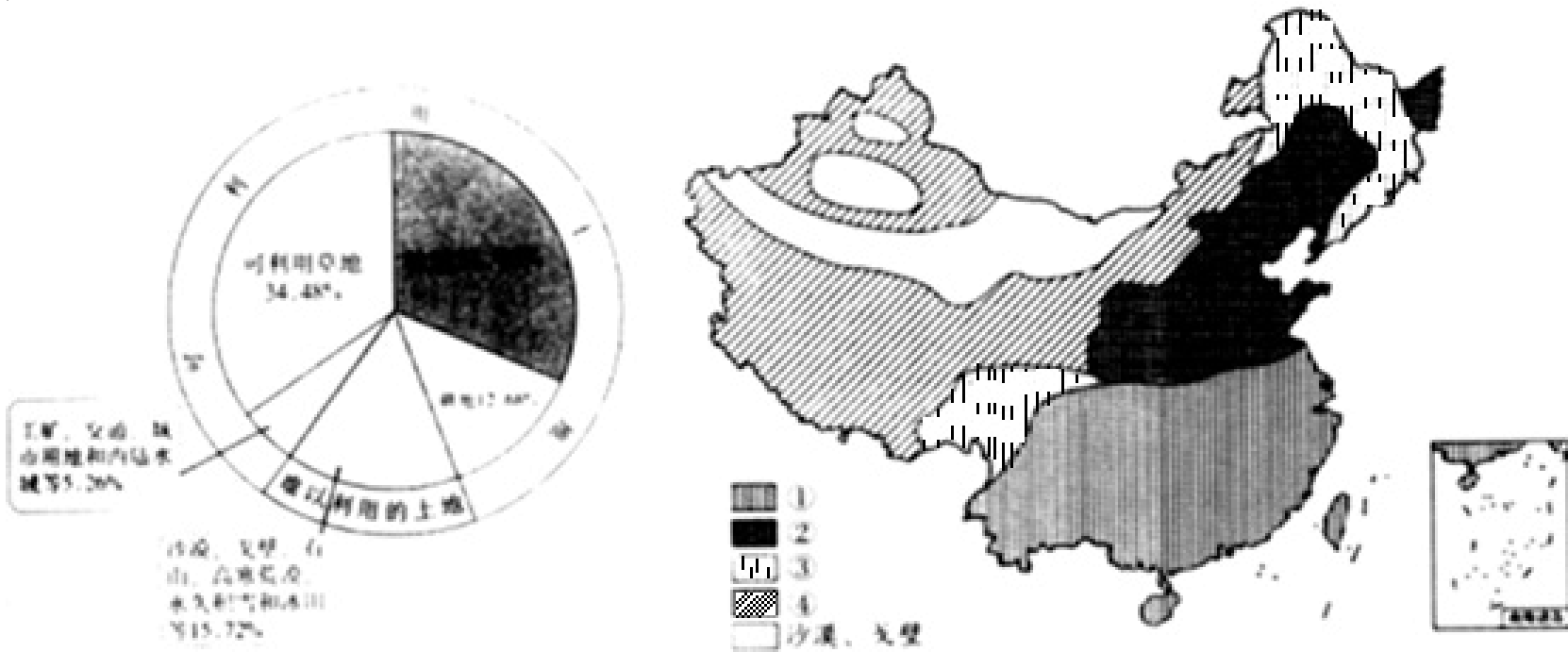




9. 下列描述的区域中，不利于聚落形成发展的是（ ）

- A. 水陆交通便利的河口地区
- B. 土壤肥沃的平原地区
- C. 空气清新的山地丘陵地区
- D. 自然资源丰富的地区

10. 如图为中国主要土地利用类型的构成及其分布简图。读图，完成（1）～（5）题。



(1) 下列关于我国土地资源的叙述正确的是（ ）

- A. 土地类型单一
- B. 地区分布均匀
- C. 草地比重最大
- D. 后备耕地资源丰富

(2) 图中序号与土地利用类型对应正确的是（ ）

- A. ① - 旱地
- B. ② - 草地
- C. ③ - 林地

D.④ - 水田

(3) 从因地制宜的角度出发，①、②两类土地最适宜发展的农业部门是 ()


A.种植业

B.林业

C.畜牧业

D.渔业

(4) ④类土地在利用过程中面临的主要问题是 ()



(5) 为落实“十分珍惜、合理利用土地和切实保护耕地”的国策，下列措施正确的是 ()

①永久基本农田保护

②合理建设人工草场

③禁止开发一切土地

④控制放牧数量

A.①②③

B.①③④

C.②③④

D.①②④

11. 下列关于我国土地资源的说法，正确的是 ()

A.我国土地资源总量丰富，人均占有量居世界前列

- B.我国土地类型齐全，但耕地比重小
- C.我国各类土地资源所占的比例都很合理
- D.我国土地类型少，后备耕地资源充足

12. 下列有关三明的旅游胜地与位置搭配正确的是（ ）

- A.大金湖--永安
- B.玉华洞--宁化
- C.桃源洞--将乐
- D.世界地质公园--泰宁

13. 下列景观全部位于长江三角洲的是（ ）

- A.杭州西湖、颐和园
- B.苏州园林、古镇周庄
- C.苏州园林、中华世纪坛
- D.南京中华门、故宫

14. 读某地等高线地形示意图（下图），完成下面小题。



(1) 图中的乡村聚落和城市聚落相比，下列说法正确的是（ ）

- A.乡村不发展任何商业
- B.城市污染少
- C.城市高楼大厦多
- D.乡村人们主要从事服务业

(2) 图中四个村庄，最有可能发展成为城市的是（ ）

- A.甲村

A.甲村

B.乙村

C.丙村

D.丁村

(3) 下列关于该村和其他三个村相比聚落发展优势的说法，错误的是 ()

A.地势平坦

B.水源充足

C.交通便利

D.矿产丰富

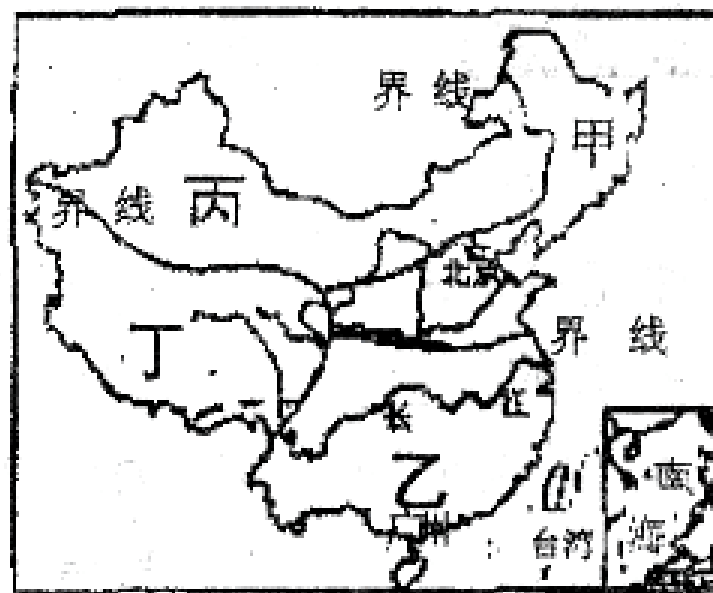
15. 读地理区域图，关于下面四位同学的说法，谁的话可信 ()

A.甲地区的同学说：我们这里种的甘蔗又大又甜

B.乙地区的同学说：我们的屋顶坡度小，墙体厚

C.丙地区的同学说：我们这里的黄梅戏可好听了

D.丁地区的同学说：我们这里的青稞酒真好喝



16. 读下列甲乙丙丁四幅民居景观图，回答 (1) ~ (3) 题。



甲



乙



丙



丁

(1) 关于甲民居所示地区自然特征描述不恰当的是 ()

A.该民居多是竹木材质，当地竹木茂盛

B.该民居门窗较大利于通风散热

C.该民居位于北非炎热的沙漠里

D.该民居房顶坡度大利于排水

(2) 乙图片所示内容描述正确的是 ()

A.该民居大多分布在南极地区

B.建造冰屋是当地居民适应环境的结果

C.建造雪屋是为了吸引来此旅游的游客

D.该建筑高大宽敞墙壁厚，十分耐寒

(3) 对丙丁两地居民说法正确的是 ()

- A. 丙房屋平顶，为了人们在房顶运动
- B. 丁是中国北方传统的四合院，占地广应该全部拆除
- C. 丙房屋适合在炎热干燥的沙漠地区
- D. 丙丁两地自然环境相似

17. “宁可食无肉，不可居无竹”。在中国文人心中，竹子是气节的象征，是高尚人格的体现，与梅、兰、菊并称为“四君子”。竹类喜温暖湿润的环境。下图是竹子在中国的分布。据此完成下面小题。



(1) 在中国，竹子主要分布在 ()

- A. 寒温带、中温带、暖温带
- B. 中温带、暖温带、亚热带
- C. 暖温带、亚热带、热带
- D. 暖温带、中温带、高原气候区

(2) 图中甲区域与乙区域属于同一温度带，甲区域没有竹子分布。主要原因是甲区域 ()

- A. 气温高
- B. 降水少
- C. 风力大
- D. 平原少

(3) 丙区域不适合竹子生长的主要影响因素是 ()

- A. 纬度位置
- B. 海陆位置
- C. 地形因素
- D. 板块运动

18. 下列关于北方地区的描述正确的是（ ）

- A. 农作物一年一熟或两年三熟
- B. 我国最重要的畜牧业产区
- C. 位于我国秦岭—淮河一线以南、横断山脉以西
- D. 以高原、山地为主

19. 沪昆高速铁路是我国“四纵四横”的快速客运通道之一，于2016年全线通车。读沪昆高铁客运专线图，完成下列小题



(1) 图中A省区的简称、B省区的行政中心分别是（ ）

- A. 黔、南昌
- B. 赣、长沙
- C. 湘、贵阳
- D. 湘、南昌

(2) 沪昆高铁修建过程中不可能遇到的障碍是（ ）

- A. 喀斯特地貌，地形崎岖
- B. 雪峰山脉，坡度大
- C. 多滑坡、泥石流等自然灾害
- D. 冰川广布，冻土深厚

(3) 下列著名旅游景点位于沪昆高铁沿线的是（ ）

- A. 杭州西湖
- B. 长江三峡
- C. 桂林山水
- D. 安徽黄山

(4) 根据因地制宜的原则，下面不合适的行为是（ ）

- A. 在西藏建立水产品加工基地

A.在西藏建立水产品加工基地

B.在内蒙古建立皮毛、乳制品加工厂

C.在黑龙江省建立豆制品加工基地

D.在山东大力开展海洋水产养殖

20. 下列工业部门中，属于轻工业的是（ ）

A.食品、医药

B.煤炭、石油

C.电力、钢铁

D.化工、机械

21. 下列诗句中，描述气温日较差大的是（ ）

A.才从塞北踏春来，又向江南看杏花

B.人间四月芳菲尽，山寺桃花始盛开

C.羌笛何须怨杨柳，春风不度玉门关

D.早穿皮袄午穿纱，围着火炉吃西瓜

22. 下列自然资源属于可再生资源的一组是（ ）


A.天然气 土地 淡水

B.太阳能 风能 水能

C.可燃冰 森林 煤

D.潮汐能 铁矿石 电

23. 下图中表示的珠江三角洲地区特有的农业生产模式是（ ）



A.绿洲农业

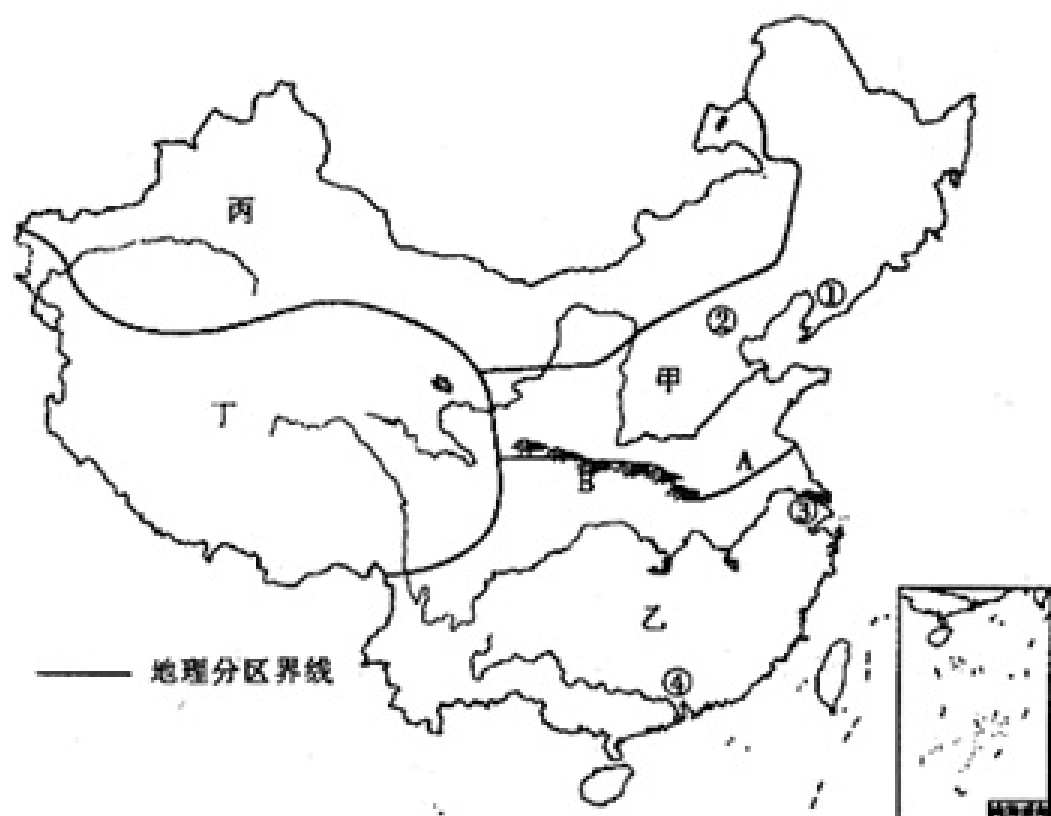
B.基塘农业

C.河谷农业

D.畜牧业

二、填空题（本题共计2小题，每题5分，共计10分）

24. 读下图，完成下列各题。



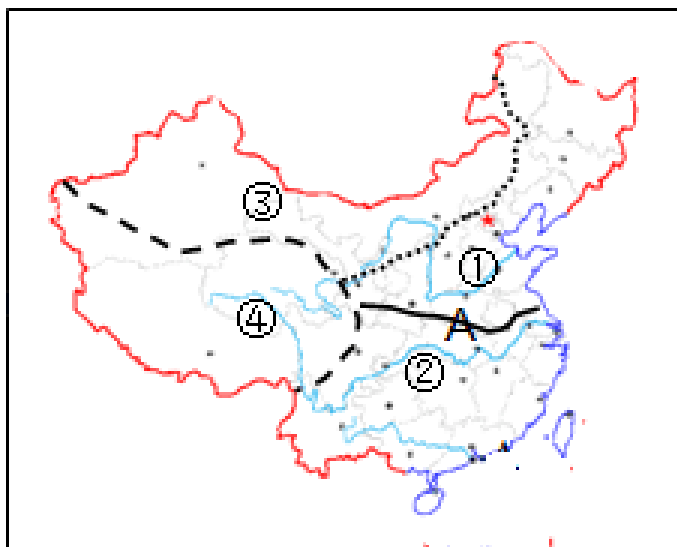
中国四大地理区域图

- (1) 我国的人口多集中分布在四大地理区域中的甲和乙区域，原因是_____（从自然条件和人文条件两方面回答，每一方面至少写两点）。
- (2) 甲乙两区域的分界线B—A是_____线，其划分的主导因素是_____。
- (3) ①②③④是我国的四大工业基地或经济活跃区，它们代表的四大工业基地分布的共同特点是_____，最早进行改革开放的是_____（填代表数字）④地区生产的产品主要通过_____贸易渠道出口至世界各地。联系②地区和③地区之间的铁路干线是_____。
- (4) 丙区域自然景观自东向西的变化是草原—荒漠草原—荒漠，这种现象体现出了该区域最显著的自然地理特征是_____，形成的原因是_____。
- (5) 甲乙丙丁四大地理区域中，农业生产以畜牧业为主的是_____。（填代号）
- (6) 北京位于四大地理区域中的_____（填代号）。党中央、国务院所在地体现了北京的_____职能。
- (7) 黄土高原主要位于甲区域，其最主要的生态环境问题是_____。治理措施是_____。

25. 交通运输是我国经济发展的“_____”。在各种运输线中，_____构成我国交通运输网的骨架。

三、解答题（本题共计5小题，每题5分，共计25分）

26. 读中国区域示意图，完成以下问题。



(1) 写出图中数字所代表的区域的名称：

①_____ ②_____ ③_____ ④_____

(2) 我们大庆市位于_____地区，这里年降水量在_____毫米以下，1月平均在气温

°C以下.

(3) 太阳能、地热能非常丰富的区域是_____ (填序号) .

(4) 界线A是我国一条重要的自然地理分界线, 与_____ (山脉)、_____ (河流) 一线分布大体相一致.

27.

读我国主要铁路干线分布示意图, 回答问题。



(1) 填写铁路干线的名称和铁路枢纽城市:

东西向铁路干线B_____与南北向铁路干线①_____交汇于_____ (城市), 东西向铁路干线B_____与南北向铁路干线③_____交汇于_____ (城市)。

(2) 哈大铁路途经披称为“黑土地”的_____平原, 沿途却多在架没的高架桥上通行, 其目的是为了为了保护_____资源。哈大铁路将哈尔滨与我国哪个工业基地连接起来 ()

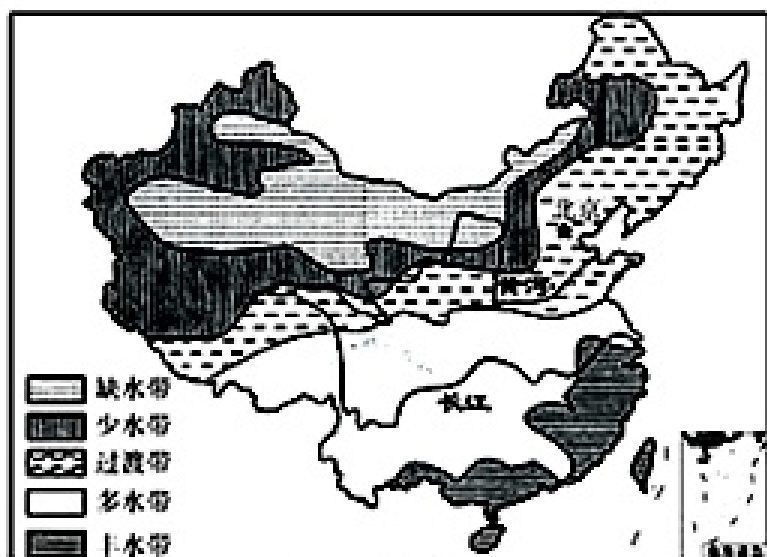
A. 辽中南

B. 京津唐

C. 长江三角洲

D. 珠江三角洲

28. 读图, 完成下列问题。

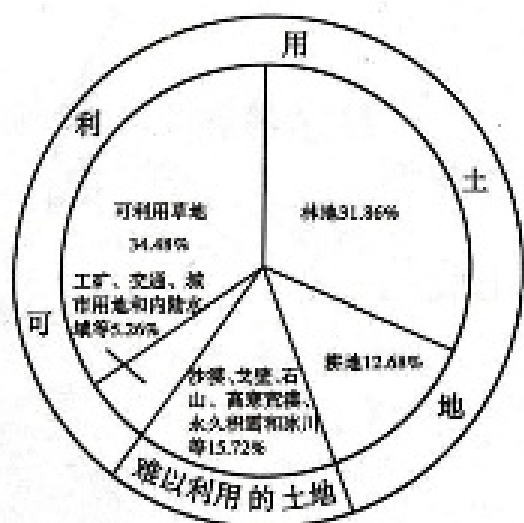


(1) 该图反应了我国水资源_____ (时间、空间) 分布不均, 我国东部地区的水资源分布特点是_____丰_____缺, 解决这种问题的有效办法是_____, 例如南水北调工程。

(2) 节约用水、保护水资源是解决我国缺水的重要途径之一。联系生活实际, 请写出节水建议: 农业节水方面:

家庭节水方面：

29. 读我国土地利用类型的构成及漫画，回答问题。



甲

乙

(1) 从甲图中可以看出，我国土地资源的优势是_____；不利的是各类土地构成比例不尽合理，主要是_____少，难利用土地多，后备土地资源不足。

(2) 乙图反映的环境问题是由于人类的_____，导致了严重的_____。为改变这种现象中采取的措施有_____。

(3) 自然资源分为可再生资源和非可再生资源，土地资源属于_____资源。我国土地利用中存在诸多问题，破坏土地资源的现象严重，因此我国把“十分珍惜、_____土地和切实保护耕地”作为一项基本国策。

30. 读“我国地理分界线”图，完成下列问题。



(1) D界线经过_____（山脉）和淮河一线，它与我国1月份 0°C 等温线、800毫米年等降水量线基本吻合，也是温度带中_____和_____的分界线。

(2) C界线和B界线都经过的山脉是_____。

(3) ③主要的耕地类型是_____；①地主要的粮食作物是_____，其农作物熟制是_____。

(4) ⑥代表_____季风，受该季风影响，我国年降水量分布的总趋势是_____。

参考答案与试题解析

2022-2023学年全国初中七年级下地理人教版期中 试卷

一、选择题（本题共计 23 小题，每题 5 分，共计 115 分）

1.

【答案】

C

【考点】

合理利用和保护水资源

我国的水资源及其分布

【解析】

此题暂无解析

【解答】

南水北调工程共分为东线、中线和西线三条线路，其中东线工程从江都提水，沿京杭运河北上，最终到达天津，所以东线工程主要的优势是可以利用已有的河道及天然湖泊。

故选C。

2.

【答案】

B

【考点】

我国自然资源的基本特征及利用保护

【解析】

自然资源是存在于自然界、能为人类提供福利的物质与能量，主要包括气候资源、水资源、土地资源、生物资源、矿产资源、海洋资源等。

【解答】

煤炭是我国第一大能源，如图2009年占全国能源生产和消费总量的70%以上，2013年占全国能源生产和消费总量的60%左右，故A不符合题意；

从图中可以看出，2009年到2013年非可再生资源中煤炭的消费比例在减少，而石油和天然气的消费比例在增加，故B符合题意；

从图中可以看出，2009年我国能源消费总量是30.6亿吨，而2013年能源消费总量是37.6亿吨，消费总量总体增加，故C不符合题意；

从图中可以看出，2009年到2013年清洁能源的消费比例由8%增长到12%左右，故D不符合题意。故选B。

3.

【答案】

D

【考点】

我国的土地资源及其分布

【解析】

土地资源是人类生存最基本的自然资源，我们土地资源的基本国情是：总量大，人均占有量小；我国各类土地资源齐全，形成了耕地、林地、草地等多种土地类型，各类土地资源在土地资源总量中的比例是不同的，耕地林地比重小，草地面积较大，难以利用的土地比重大，后备土地资源不足。

【解答】

A、大力扩建城市建设用地，会使我国耕地面积缩小，故A不正确；

B、大力围湖造田，扩大耕地面积，会降低湖泊的蓄水能力，造成自然灾害，故B不正确；

C、耕地林地比重小，草地面积较大，难以利用的土地比重大，是我国土地资源的现状，故C不正确；

D、在西部水土流失和风沙危害严重的地区，实行退耕还林，退耕还草，可以改善自然环境，故D正确。

4.

【答案】

D

【考点】

聚落与环境的关系

【解析】

此题暂无解析

【解答】

此题暂无解答

5.

【答案】

A

以上内容仅为本文档的试下载部分，为可阅读页数的一半内容。如要下载或阅读全文，请访问：<https://d.book118.com/136054101211010035>