

江苏省镇江市高职单招 2022-2023 学年综合素质模拟练习题三附答案

学校：_____ 班级：_____ 姓名：_____ 考号：_____

一、单选题(20题)

1.平常体育报道中经常用到“收官之战”一词，其中“收官”二字最初是()术语。()

A.书法 B.围棋 C.绘画 D.音律

2.抗日战争中，中国军队主动出击日军的最大规模战役是（）

A.台儿庄战役 B.徐州会战 C.太原会战 D.百团大战

3.高速公路电子收费系统（ETC）涉及了无线电通信、计算机、自动控制等多个知识领域。装有 ETC 终端的车辆在高速路入口驶入 ETC 车道时，系统通过 ETC 接收设备对车辆身份进行识别，识别成功后，电动栏杆自动抬起，车辆即可通行。关于这个控制过程说法不正确的是（）

A.该系统体现了技术的综合性

B.该系统收费过程中没有利用数据库技术

C.该系统收费使用“电子货币”

D.电动栏杆控制系统为 ETC 的子系统

4.欧佩克(OPEC)是()

A.石油输出国组织 B.阿拉伯石油输出国组织 C.石油进口国组织 D.联合国石油管理组织

5.驾驶员：驾驶室：动车（）

A.播音员：播音室：播音 B.飞行员：运输机：跑道 C.讲解员：博物馆：城市 D.收银员：收银台：超市

6.中国共产党史上有两次具有深远意义的转折性会议，一次是民主革命时期的遵义会议，另一次是社会主义建设时期的（）

A.中共一大 B.中共十一届三中全会 C.中共八大 D.中共十二届三中全会

7.下列变化中，前者属于化学变化，后者属于物理变化的是()

A.矿石粉碎;食物腐烂 B.牛奶变酸;米酿成醋 C.蜡烛燃烧;酒精挥发 D.海水晒盐;浓硫酸使白纸变黑

8.下列法律中，哪一部不属于我国的基本法律（）

A.《中华人民共和国人民法院组织法》
B.《中华人民共和国人民检察院组织法》
C.《中华人民共和国国家赔偿法》
D.《中华人民共和国刑法》

9.因唐朝诗人崔颢的《黄鹤楼》一诗而名动天下的黄鹤楼位于()

A.湖北省 B.江西省 C.河南省 D.湖南省

10.某窗口只有张、王、李、赵、宋5个同学站成一列在排队，已知：

①王和李两人紧挨着；

②张和宋之间隔着一人。

根据上述材料，回答问题。

以下哪项一定是正确的()

A.张和李前后相邻 B.王和宋前后相邻 C.宋和李前后不相邻 D.赵和王前后不相邻

11.古代将年龄称为“弱冠”的是指()

A.16 B.18 C.20

12.新人，指某方面新出现的人物。根据这个定义，下述人物属于“新人”的是()

A.小王从小酷爱舞蹈，最近，夺得了全国比赛的冠军，她的舞技得到了舞蹈界专家的一致认可和好评

B.大学毕业生小柳志愿到山区服务，给山里孩子新开了电脑课，成为该地区第一名电脑教师

C.罪犯小李服役期间表现优异，被特批提前出狱，获得了新生，出狱后，

他在工作中表现突出，被称为单位的“技术能手”

D.投资专家王教授被一家大公司聘为顾问，为公司开辟新的投资领域

13.《三国演义》里的“借东风”“草船借箭”“连环计”的故事为人们津津乐道，而它们都与三国鼎立局面形成的关键战役有关。这场战役是（）

A.巨鹿之战 B.赤壁之战 C.官渡之战 D.淝水之战

14.高三同学为迎接高考，整日忙于复习，因而体质下降。班委会决定让同学们利用课余时间，到户外开展体育锻炼以增强体质。XX公司为培养人才，发展教育，多次以实际行动支持XX学校教育。根据以上材料，从班委会和学校的角度，需要写两篇应用文。这两篇应用文应该用的体裁是（）

A.建议书表扬信 B.通知表扬信 C.倡议书感谢信 D.通知感谢信


15.北欧建筑物的屋顶多呈尖状，主要原因是当地（）

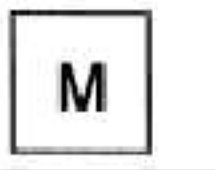
A.日照不足 B.夏秋多大风 C.降雪量大 D.年温差较大


16.


问题图形具有一定的规律，也存在某种差异。四个选项中你认为最适合取代问号的是()



A. 

B. 

C. 

D. 

17.关于声现象，下列说法正确的是（）

A.声音在不同介质中的传播速度相同

B.人说话是靠舌头振动发声的

C.只要物体在振动，我们人耳就能听到声音

D.一切发声物体都在振动

18. “琴一鹤”形容的是（）

A.为政清简 B.平安长春 C.淡泊名利 D.宁静安详

19.我国倡导的是的（）军事战略方针。（）

A.积极防御 B.主动进攻 C.防御 D.消极防御

20. 售价 2 元一斤的洗洁精分为两种：其中一种没有除臭剂，另一种加有除臭剂。尽管两种洗洁精的效果相同，但没加除臭剂的洗洁精在持续时间方面明显不如有除臭剂的洗洁精。因此后者（）

A. 味道要好闻些 B. 比其他公司的产品效果好 C. 具有添加剂 D. 从长远来看更便宜

二、多选题(20题)

21. 交往的心理健康原则是（）

A. 真诚 B. 尊重 C. 宽容 D. 互利

22. 流行色的内容有（）

A. 基本色 B. 红色 C. 亮色 D. 时髦色

23. 以转基因生物为直接食品或为原料加工生产的食品就是转基因食品。关于转基因食品，下列表述正确的是（）

A. 转基因食品仅指转基因农作物

B. 转基因食品包括转基因动物食品、转基因植物食品和转基因微生物食品

C. 转基因食品不存在潜在的安全风险

D. 市场上出售的转基因食品必须贴上“转基因食品”标签

24. 出台中央八项规定，严厉整治（）、坚决反对特权。（）

A.形式主义 B.官僚主义 C.享乐主义 D.奢靡之风

25.敬礼分为()

A.举手礼 B.注目礼 C.举枪礼 D.注视礼

26.在日常商业交往中，举止得体的具体要求包括()

A.感情热烈 B.表情从容 C.行为适度 D.表情肃穆

27.5G 可以应用的领域有()

A.物联网 B.无人驾驶 C.远程医疗 D.8K 高清视频

28.以下关于劳动法的基本原则的表述，正确的有()

A.它具有高度的权威性 B.其稳定性低于劳动法律制度 C.它具有高度的稳定性 D.其权威性低于劳动法律制度

29.职业纪律具有的特点是()

A.明确的规定性 B.一定的强制性 C.一定的弹性 D.一定的自我约束性

30.坚持办事公道，必须做到()

A.坚持真理 B.自我牺牲 C.舍己为人 D.公私分明

31.我国安全生产管理方针是()

A.安全第一 B.质量第一 C.预防为主 D.综合治理

32.西服穿着的三大禁忌包括（）

A.袖口上的商标没有拆 B.在正式场合穿着夹克打领带 C.正式场合穿着西服、套装时袜子出现问题 D.西装没有熨平

33.中国北宋时期书法家有（）

A.苏轼 B.黄庭坚 C.米芾 D.蔡襄

34.下列不属于白种人的头发大多是金黄色的原因是（）

A.头发中的铜元素多 B.头发中的铁元素多 C.头发中的钛元素多 D.头发中的钼元素多

35.下列属于基本情绪的是（）

A.愤怒 B.快乐 C.悲伤 D.恐惧

36.下列属于农业害虫的是（）

A.蝗虫 B.棉铃虫 C.青蛙 D.蜈蚣

37.礼仪涉及（）

A.沟通 B.交往 C.穿着 D.情商

38.艾滋病的主要传播途径是（）

A.性接触传播 B.母婴传播 C.血液传播 D.握手、共同用餐、同池游泳

39.下列属于化学变化的是()

A.蔗糖溶解在水中 B.晒干衣服 C.火药爆炸 D.菜刀生锈

40.中国古代立志勤学的名人很多，如人们熟知的_____故事都生动描述了他们克服困难、坚持自学的感人事迹。()

A.头悬梁 B.锥刺股 C.映雪 D.凿壁借光

三、判断题(20题)

41.回收废旧电池，既可节约金属资源又可减少环境污染。()

42.“千古文章四大家”指的是韩愈、柳宗元和欧阳修、苏轼。()

43.中国的基本经济制度是公有制占主导地位。()

44.正确安装钳工手锯锯条的方法是锯齿方向向前。()

45.凡是违法的行为都是犯罪行为。()

年是全面深化改革的开局之年。()

47.有机玻璃是一种塑料。()

48.锯割起锯时行程要长，压力要小。

49.熏烤肉食品时释放的烟气中不含有致癌物质。()

50.空气是一种宝贵的自然资源，空气中体积分数约占 21% 的是氮气。
()

51.正方体的表面积是 96 平方厘米，则其体积是 64 立方厘米。()

52.注射给药是唯一有效的用药途径。()

53.生活用具中，压水机属于费力杠杆。()

54.法律规范是区分罪与非罪，合法与非法的行为准则。()

55.《三国演义》中的“凤雏”是孙权。（）

56.科学回答“是什么”“为什么”的问题;技术回答“怎么办”的问题。

57.“陛下”是古时对君王的尊称，其中“陛”的意思是宫殿的台阶。（）

58.世界上出口羊毛最多的国家是澳大利亚。（）

59.“大数据时代”只是说这个时代产生的数据量大而已。（）

60.《史记》是由司马迁撰写的中国第一部编年体通史。（）

四、简答题(10题)

61.黑潮是“暖流”还是“寒流”？

62.《醉花阴》“东篱把酒黄昏后，有暗香盈袖，莫道不消魂，帘卷西风，人比黄花瘦。”是谁所作？

63.神话小说《西游记》作者是？

64.pH 值大于 7 的溶液可使酚酞试液变成什么颜色？

65.海豹在潜水时会先怎样？

66.公马和母驴生的动物，我们叫它为？

67.通常，人们把哪种水果和冰糖蒸后食用，用以治疗咳嗽？

68.近代健美运动在哪里首创？

69.世界上规模最大的海洋博物馆是？

70.哪份报纸是台湾第一家以报道衣、食、住、行及体育、娱乐等新闻为主要内容，以知识性、实用性和趣味性并重的报纸？

以上内容仅为本文档的试下载部分，为可阅读页数的一半内容。如要下载或阅读全文，请访问：<https://d.book118.com/085322011044011110>