

人教版、地理、7 年级下册

常考题型专练

(一)亚洲和北美洲自然环境的特征

(二)日本和俄罗斯经济的比较

(三)跨学科专题(1)

(四)撒哈拉以南非洲和欧洲西部自然条件的比较

(五)时政地理

(六)识图集训

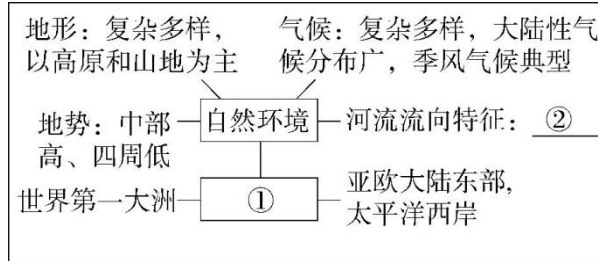
(七)跨学科专题(2)



(一)亚洲和北美洲自然环境的特征

类型一 思维导图

【综合思维】读小玲学习某大洲时所画的思维导图,完成 1—2 题。



1.(2023 重庆南川期中)根据图中信息判断,该大洲①是()

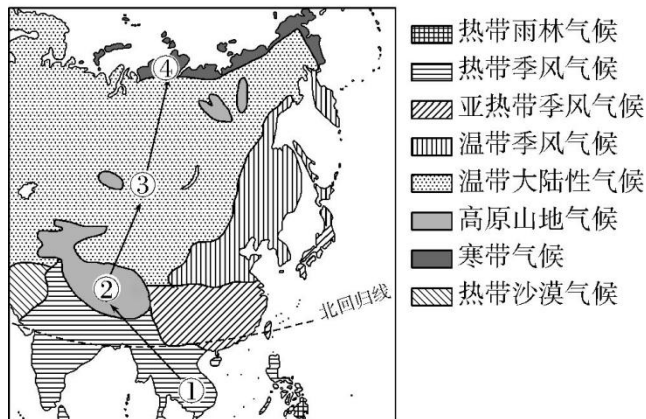
- A.欧洲 B.非洲
C.亚洲 D.北美洲

2.从自然要素的相互影响分析,②处应是()

- A.自西向东流 B.自四周流向中部
C.自东向西流 D.自中部流向四周

类型二 亚洲自然环境特征

【新情境·研学日记】6 月至 7 月,某探险队沿①到④线路进行了为期一个月的地理探险考察。读图,完成 3—4 题。



3.沿途队员们发现人口稀少的地区有()

- A.①②③ B.①②④
C.①③④ D.②③④

4.(2022 河南安阳林州期中)途中探险队员们曾遭遇“狂风暴雨”的天气,这个地点最有可能是()

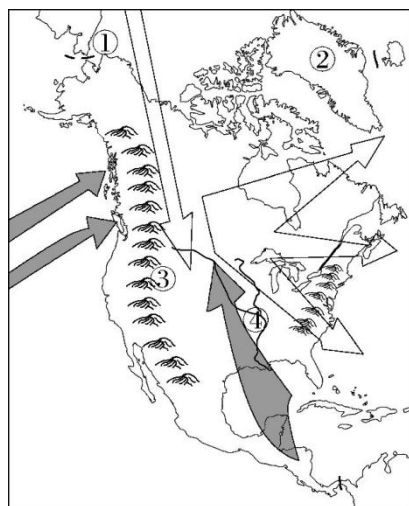
- A.① B.② C.③ D.④

5.西亚沙特阿拉伯的贝都因人居住帐篷,身着宽大袍子,过着游牧生活,这反映了该地区的气候特征是 ()

- A.温和湿润 B.炎热干旱
C.高温多雨 D.寒冷干燥

类型三 北美洲自然环境特征

【区域认知】读北美洲山河分布图,完成 6—7 题。



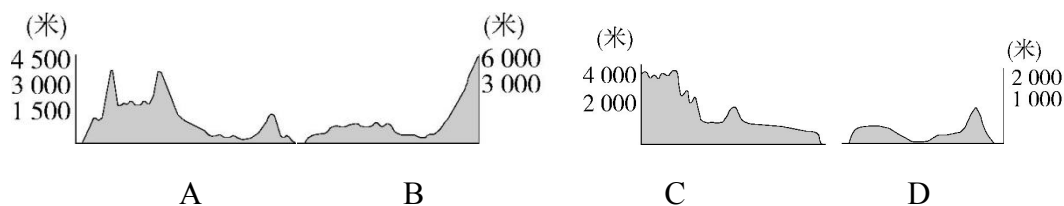
6.下列对图中数字序号所代表地区的判断,错误的是()

- A.①—白令海峡 B.②—格陵兰岛
C.③—阿巴拉契亚山脉 D.④—密西西比河

7.冬季寒冷气流可以自北向南畅通无阻,原因是北美洲中部的地形是()

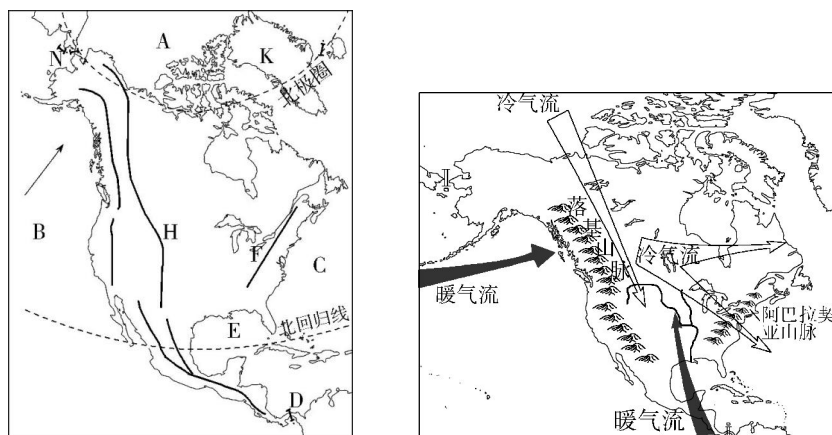
- A.高原 B.平原 C.山地 D.盆地

8.下列正确表示北美大陆沿 40°N 地形剖面示意图的是()



9.读图,完成下列问题。

据海外网 2023 年 2 月 5 日报道:-62℃寒潮横扫北美,已致 10 人死亡!加拿大出现极寒奇景,寒潮为什么青睐北美洲?这与北美洲特殊的地形和海陆位置有关,下图是北美洲地形分布示意图和北美洲地形对气候的影响图。



(1)海陆位置影响北美洲的气候:A 是_____洋,B 是_____洋,C 是_____洋,E 是_____湾。海洋环绕,水汽充足。

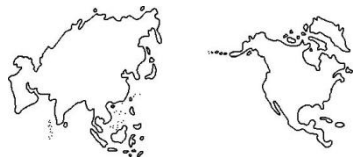
(2)地形对气候的影响:北美洲地形分为三个南北纵列带,西部 H_____山脉,此山脉属于_____山系的一部分,中部是广阔的平原,东部 F 是_____山脉。这种地形分布特点使冷、暖气流在北美洲大陆中部畅行无阻,对北美洲气候影响很大。

(3)K 是_____岛,是世界上最大的岛屿,岛上冰川广布。

(4)B 和 C 之间通过_____运河相连通;N 是_____海峡。

类型四 亚洲和北美洲区域对比

【新特色·区域对比】读亚洲和北美洲的略图,回答 10—11 题。



10.亚洲与北美洲位置方面相似的是()

- A.都跨寒、温、热三带
- B.都位于西半球
- C.都濒临太平洋、印度洋、北冰洋
- D.都与两个大洲陆上相邻

11.【综合思维】亚洲和北美洲共同具有的地理特征是()

- A.西部都有狭长的温带海洋性气候区

- B.东南部都有热带季风气候
- C.温带大陆性气候面积广
- D.都没有热带雨林气候

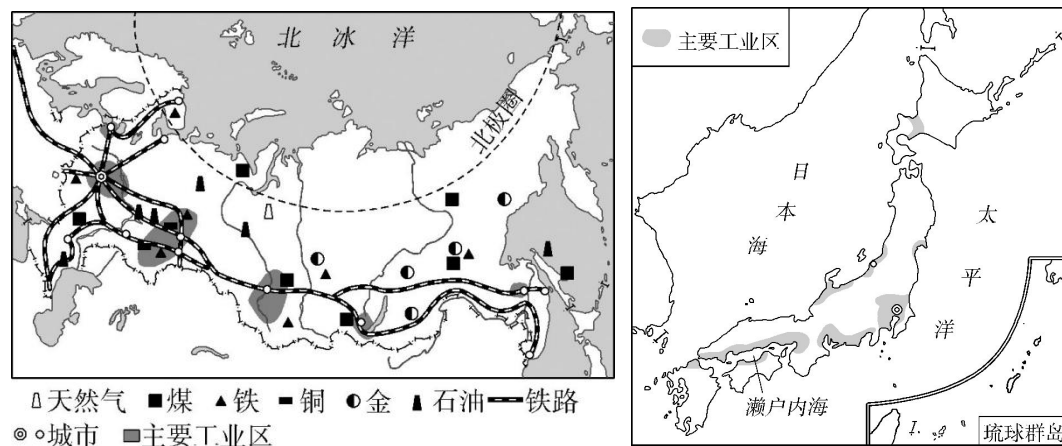
(二)日本和俄罗斯经济的比较

一、选择题

1.日本和俄罗斯自然环境差异较大,经济发展优势各具特色。下列关于日本、俄罗斯的叙述正确的是()

- ①两国气候温暖湿润,农业都很发达
 - ②俄罗斯工业基础雄厚,核工业和航空航天工业发达
 - ③日本工业沿海分布,工业产品主要销往国外
 - ④俄罗斯自然资源丰富,日本矿产资源贫乏
- A.①②③ B.②③④ C.①③④ D.①②④

读“俄罗斯和日本两国主要工业区分布图”,完成2—4题。



- 2.下列关于俄罗斯和日本的叙述,正确的是()
- A.俄罗斯大部分地区冬季寒冷而漫长,夏季高温而短促
 - B.俄罗斯因南部地形平坦,铁路线在亚洲靠近南部
 - C.日本海岸线曲折,多优良港湾
 - D.俄罗斯和日本的工业都靠近原料产地且分布在内陆地区
- 3.俄罗斯从我国主要进口玩具、服装、家具等生活用品,其主要原因是()
- A.人口稠密,需要大量的生活用品
 - B.与我国陆上相邻,进出口商品便利

C.地形以山地为主

D.与人们生活密切相关的消费品制造业发展相对滞后

4.近些年来日本受劳动力价格显著提高、土地紧张等情况影响,加工贸易型工业不断向海外转移,下列产业转移你认为不可能的是()

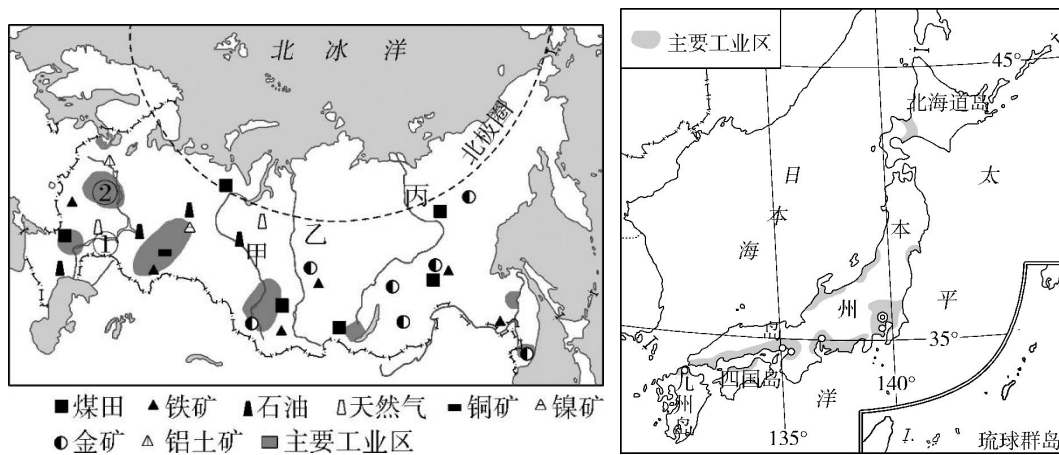
A.食品工业向原料丰富的泰国等地迁移

B.汽车工业向劳动力廉价的美国迁移

C.家电制造工业向市场广阔的中国迁移

D.纺织工业向劳动力丰富的东南亚迁移

读俄罗斯和日本工业分布图,完成5—6题。



5.(2023 山东济南模拟)关于两国地理事物的叙述,正确的是()

A.①是伏尔加河,流经西欧平原,注入里海

B.甲、乙、丙河受地势影响自北向南流

C.日本东京位于九州岛,经济发达

D.②是以莫斯科为中心的工业区,是该国最发达的工业区

6.分析以上两图的信息,正确的是()

①俄罗斯工业区主要靠近矿产丰富的地区

②日本工业主要分布在太平洋沿岸

③日本矿产资源丰富,大部分位于北温带

④伏尔加河是亚洲和欧洲的分界线

A.①② B.③④ C.①③ D.②④

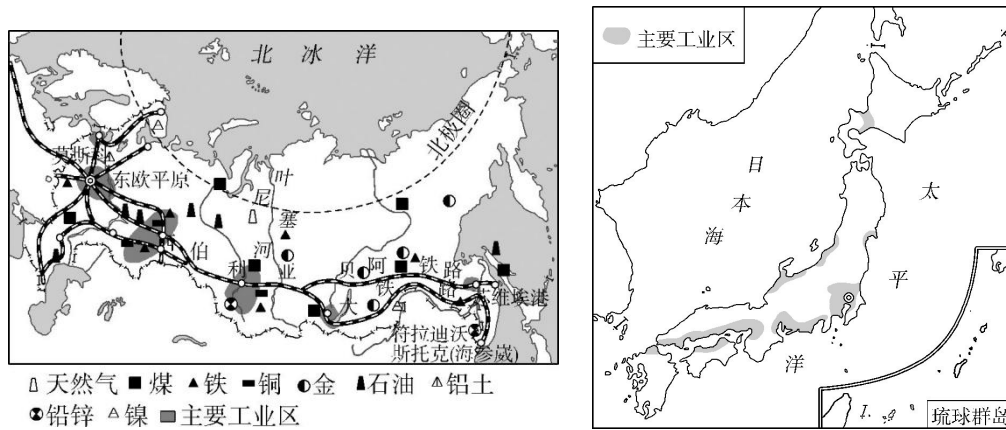
7.比较俄罗斯和日本,说法正确的是()

A.两国平原面积广大,农业发达

- B.俄罗斯人口稠密,日本地广人稀
- C.两国工业都以进口—加工—出口为主
- D.俄罗斯自然资源丰富,日本资源贫乏

二、综合题

8.【新特色·区域对比】读俄罗斯地图和日本地图,完成下列问题。

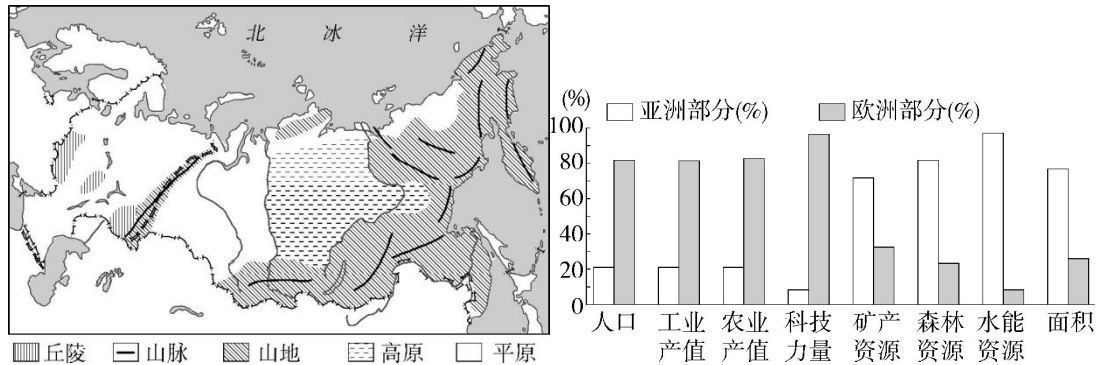


- (1)俄罗斯与日本互为邻国,隔_____海相望。
- (2)俄、日工业均十分发达,但两国工业的分布特点及原因显著不同。俄罗斯重工业发达,其工业部门多靠近_____产地,其中以首都_____为中心的工业区最发达;与俄罗斯相比,岛国日本面积狭小,矿产资源缺乏,工业区主要分布在_____。
- (3)俄罗斯主要种植小麦、马铃薯、亚麻等耐寒作物,这说明俄罗斯农业生产的限制性因素是_____不足。
- (4)日本传统民居多采用较轻的木质材料,主要是因为日本_____。
- (5)日本旅游业发达,如果你去日本旅游,最想观赏的景点或体验的项目有哪些?

(三)跨学科专题(1)

一、选择题

【跨学科·数学】读“俄罗斯的地形分布图”和“俄罗斯的亚洲、欧洲部分相关数据统计图”,完成 1—2 题。



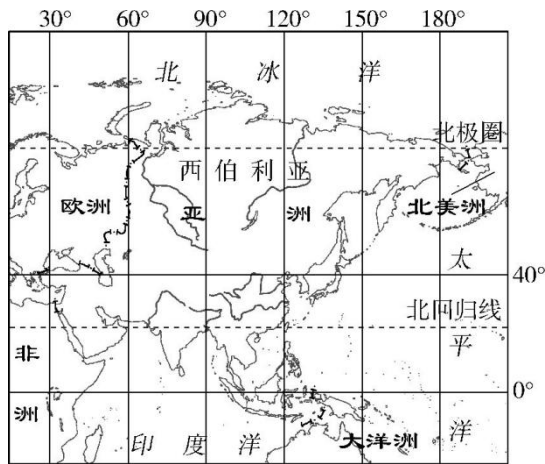
1.俄罗斯传统上属于欧洲国家的原因是()

- ①欧洲部分的面积比较大 ②欧洲部分人口比重大
③欧洲部分的自然资源更丰富 ④欧洲部分工、农业产值高
A.①② B.③④ C.①③ D.②④

2.(2023 山东济南槐荫期中)据图可知,俄罗斯地形特征是()


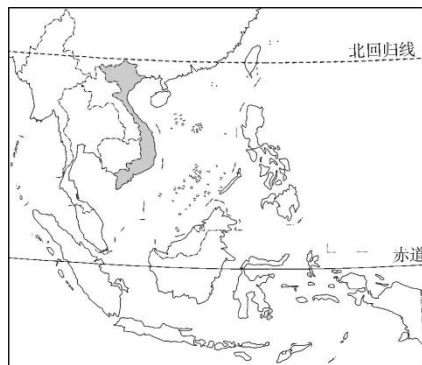
- ①以丘陵和平原为主 ②以平原、高原和山地为主
③地势东高西低 ④地势北高南低
A.①④ B.②③ C.③④ D.①④

【跨学科·生物】西伯利亚是最后一次冰期期间动物遗体保存量最大、保存最完好的地区。这一时期,猛犸象等动物跨越海峡迁向其他大洲。读“亚洲位置示意图”,完成 3—5 题。



3. 【综合思维】根据河流流向判断,亚洲地势()
- A.中高周低 B.南高北低 C.西高东低 D.北高南低
- 4.在西伯利亚,大量史前生物遗体得以保存的优势自然条件是()
- A.起伏的地形 B.寒冷的气候
C.潮湿的环境 D.茂密的森林
5. 【区域认知】冰期时,西伯利亚古老动物最可能越过海峡到达()
- A.南美洲 B.大洋洲 C.非洲 D.北美洲

2023 年第一季度,越南共出口榴莲 1.53 亿美元,是去年同期的 7.3 倍。结合越南位置示意图,完成 6—7 题。

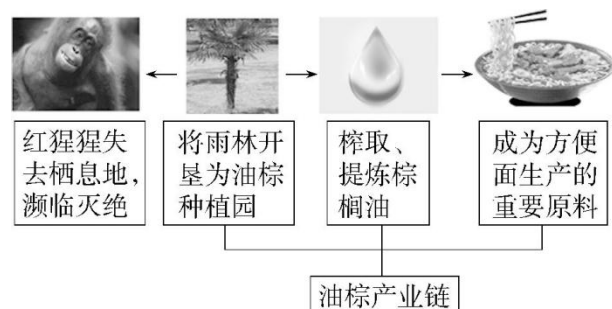


越南榴莲

越南水上市场

- 6.除榴莲外,越南对我国热销的水果还有()
- ①芒果 ②苹果 ③香蕉 ④哈密瓜
- A.①② B.③④ C.①③ D.②④
- 7.繁荣的水上市场是越南的一大特色,其形成的自然因素是()
- A.人口密集,土地紧缺 B.水流湍急,水能丰富
C.地表山河相间、纵列分布 D.降水多,河网稠密

8.油棕原产于非洲,喜高温、湿润、强光照环境和肥沃的土壤。东南亚是世界上棕榈油的最大产地。如图为东南亚地区油棕产业链及影响示意图。图中所示()



- A. 将雨林开垦为油棕种植园导致红猩猩失去栖息地
- B. 棕榈油榨取工业宜布局在大城市
- C. 油棕经济效益高,应大量种植
- D. 油棕产业布局在东南亚的主要因素是市场需求量大

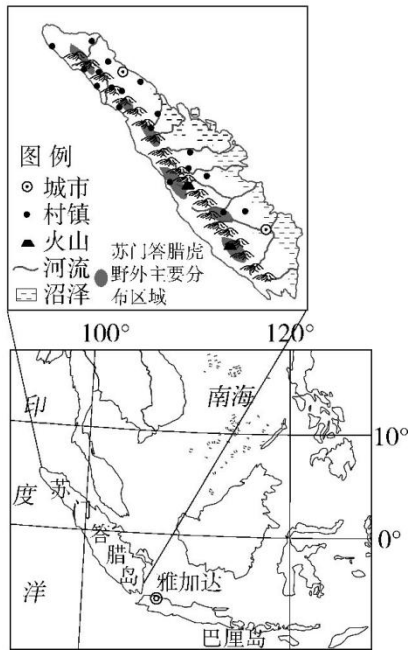
二、综合题

9. 阅读图文材料,完成下列问题。

材料一 苏门答腊虎是生活在印度尼西亚苏门答腊岛的一种极为稀有的老虎,喜高温湿润的环境,尤其喜欢生活在昏暗的丛林里,依靠潜伏袭击猎物。而今,苏门答腊虎的数量已经不足 400 只,很可能成为 21 世纪第一种灭绝的大型掠食动物。

材料二 近年来,苏门答腊岛上人口大量增加,人虎冲突也进一步加剧。热带雨林区农民传统的烧荒种植、大量棕榈油农场和其他种植园的乱垦滥伐等让苏门答腊虎野外栖息地不断减少。除此之外,非法猎虎、出售虎制品等行为也一直猖獗。

材料三 苏门答腊岛地形及位置示意图。



(1)苏门答腊虎主要分布在该岛屿的_____(方位),该岛属于_____(气候类型)。

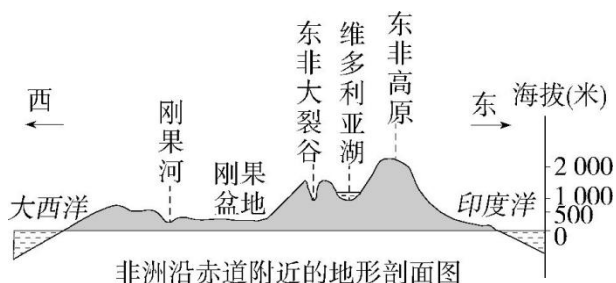
(2)分析苏门答腊虎在该岛生存的有利条件。

(3)为保护苏门答腊虎,请你提出合理的建议。

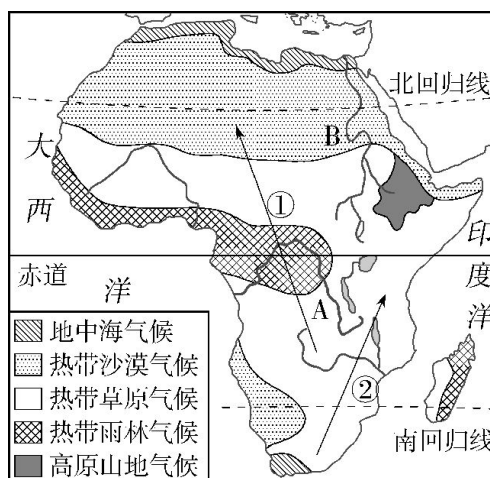
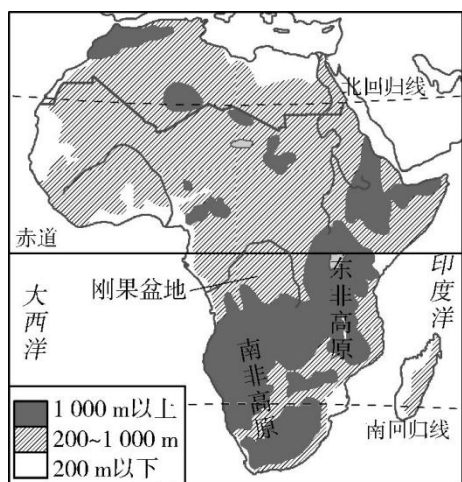
(四)撒哈拉以南非洲和欧洲西部自然条件的比较

类型一 撒哈拉以南非洲的自然条件

读非洲沿赤道附近地形剖面图,完成 1—2 题。



1. 根据此地形剖面图,以下说法正确的是()
 - A. 沿剖面,地势东高西低
 - B. 沿剖面,地势南高北低
 - C. 非洲西临大西洋,东临太平洋
 - D. 非洲地形以山地为主
2. 根据位置和地形,赤道附近气候相对凉爽,适合人们居住的地区应是()
 - A. 刚果盆地
 - B. 东非高原
 - C. 东非大裂谷
 - D. 刚果河沿岸
3. 【区域认知】读“非洲地形图”和“非洲气候类型图”,完成各题。



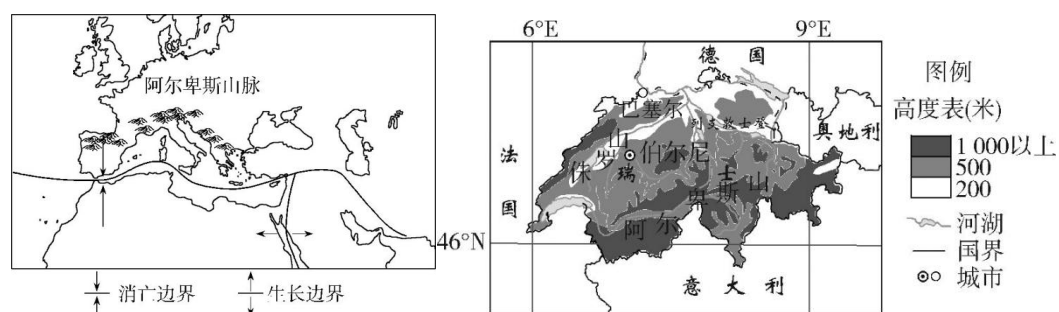
- (1) A 河流经了世界最大的盆地——_____盆地。
- (2) 非洲东临印度洋,东北隔_____运河与亚洲为邻。
- (3) 非洲的气候分布特点:以_____为轴,大致呈南北对称分布。
- (4) B 河为世界第一长河——_____河。

材料 萌萌在非洲旅游时,沿途依次观赏到如下景观:狮子在草原上追逐动物;大象在雨林中悠闲地戏水;长颈鹿在啃食高树上的枝叶;骆驼在沙漠中行走。

- (5) 根据材料,判断萌萌的旅游路线是沿图中所示的_____路线。(“①”或“②”)

类型二 欧洲西部的自然条件

阿尔卑斯山脉是世界著名的滑雪胜地。读世界板块分布局部示意图和瑞士地形示意图,完成4—5题。



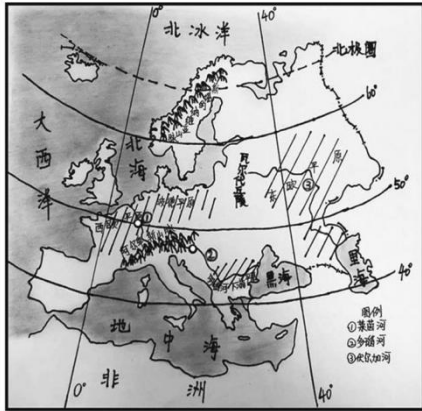
- 4.(2022 福建三明一模)阿尔卑斯山脉位于()
- ①板块生长边界 ②板块消亡边界
③地中海—喜马拉雅火山地震带 ④环太平洋火山地震带
- A.①③ B.①④ C.②③ D.②④

- 5.(2022 福建三明一模)瑞士成为世界滑雪胜地的原因是()
- A.纬度较高,高峰众多 B.河湖广布,利于结冰
C.地势平坦,坡度和缓 D.植被茂盛,利于积雪

- 6.(2022 北京中考)第 25 届冬季奥运会将在意大利的米兰和科尔蒂纳丹佩佐两地举办。冬奥会的举办可以()
- ①促进国际经济和文化交流②带动全球冰雪运动发展
③缩短参赛国间的空间距离④增加承办地的就业机会
- A.①②③ B.①②④ C.①③④ D.②③④

7.同学们在地理课上学习了河流与自然环境各要素的关系,下图为同学们手绘的欧洲简图,读图了解欧洲的河流概况,将下表补充完整。

河流名称	①莱茵河	②多瑙河	③伏尔加河
发源地	阿尔卑斯山脉	A_____	瓦尔代丘陵
大致流向	B_____	自西向东	自北向南

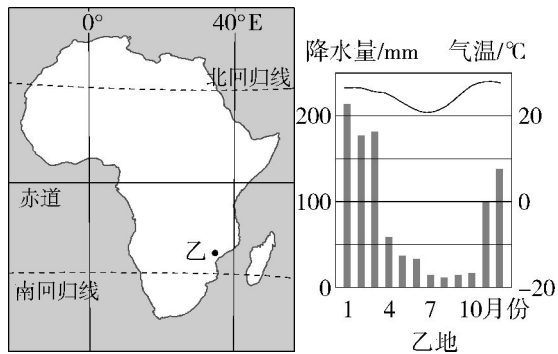
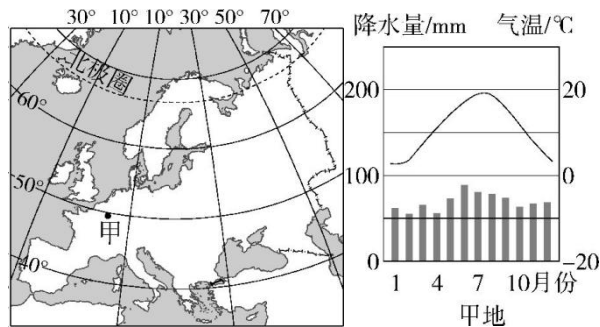


流经的主要地形类型	山地、C_____	山地、盆地、平原	丘陵、平原
注入地	北海	D_____	里海
外流河/内流河	外流河	外流河	E_____

类型三 两区域自然条件对比

【新特色·区域对比】读欧洲和非洲简图及甲、乙两地气温曲线和降水量柱状图,完成 8—9 题。

状图,完成 8—9 题。



8.与欧洲相比,非洲()

- A.寒带范围广 B.温带范围广 C.热带范围广 D.海岸线曲折

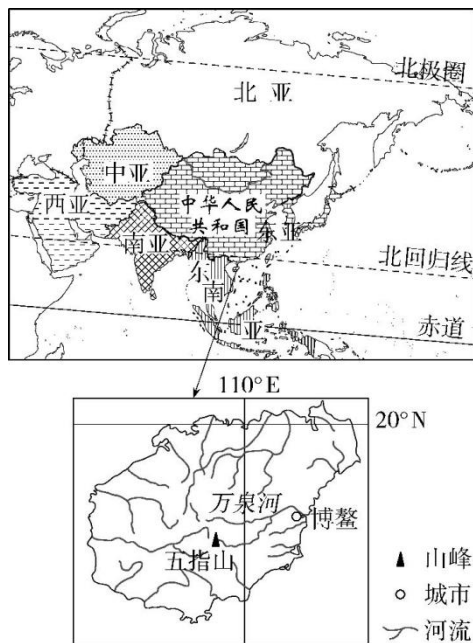
9.与乙地相比,甲地()

- A.1月气温高 B.1月降水量大
C.降水季节变化大 D.降水季节变化小

(五)时政地理

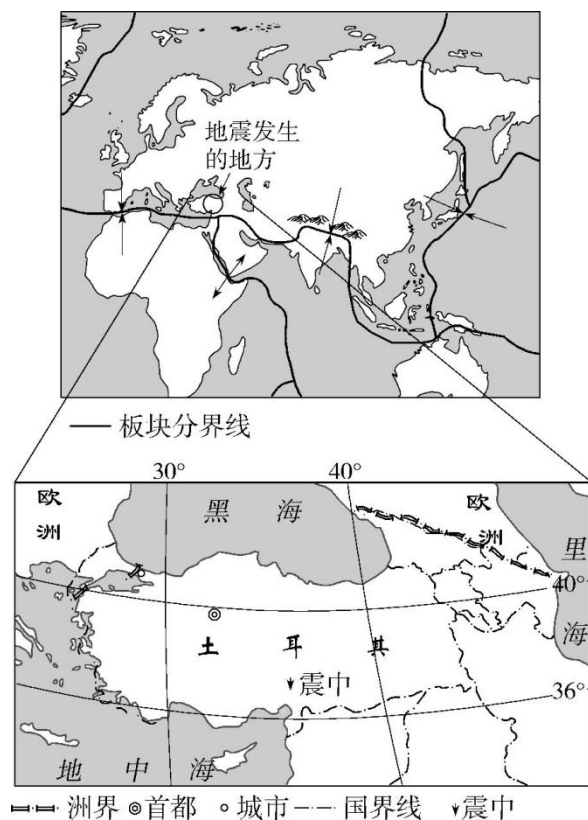
一、选择题

【区域认知】2023年春季,亚洲论坛汇集四海智慧,齐聚中国海南博鳌,相互协商促进共同发展。读亚洲地理分区图和海南省简图,完成1—2题。



1. 下列关于博鳌位置描述正确的是()
A. 地处南半球 B. 属于北温带
C. 东临太平洋 D. 位于中纬度
2. (2023 河南郑州实验外国语中学期中)博鳌“母亲河”万泉河的流向是()
A. 自西向东流 B. 自东向西流
C. 自北向南流 D. 自南向北流
3. 2023年4月6日,亚洲开发银行发布《2023年亚洲发展展望报告》。报告预测2023年,马来西亚GDP增速为6%;泰国为3%;越南为6.5%;印度尼西亚为5%。下列有关该报告中国家的说法,正确的是()
A. 马来西亚是世界最大的椰子、棕榈油生产国与出口国
B. 泰国是世界最大的天然橡胶生产国与出口国
C. 越南是世界最大的蕉麻纤维生产国和出口国
D. 印度尼西亚是世界第二大棕榈油生产国与出口国

【气象与地质灾害】北京时间 2023 年 2 月 6 日 9 时 17 分和 18 时 24 分,土耳其先后发生两次 7.8 级地震,两次地震震中相距较近,强震造成重大人员伤亡和财产损失。读世界部分板块分布及土耳其位置示意图,完成 4—5 题。



4. 土耳其地震震中大致位置为()

- A. 37.15°S, 36.95°E B. 37.15°N, 36.95°W
 C. 37.15°N, 36.95°E D. 37.15°S, 36.95°W

5. 土耳其一天内发生两次强烈地震的主要原因是位于()

- A. 亚欧板块内部
 B. 地中海—喜马拉雅火山地震带上
 C. 亚欧板块与太平洋板块的交界处
 D. 环太平洋火山地震带上

【新考向·时事热点】2023 年 4 月初,法国总统马克龙到访中国,开启两国合作的新篇章。读图,完成 6—7 题。

以上内容仅为本文档的试下载部分，为可阅读页数的一半内容。

如要下载或阅读全文，请访问：

<https://d.book118.com/018045004020006072>