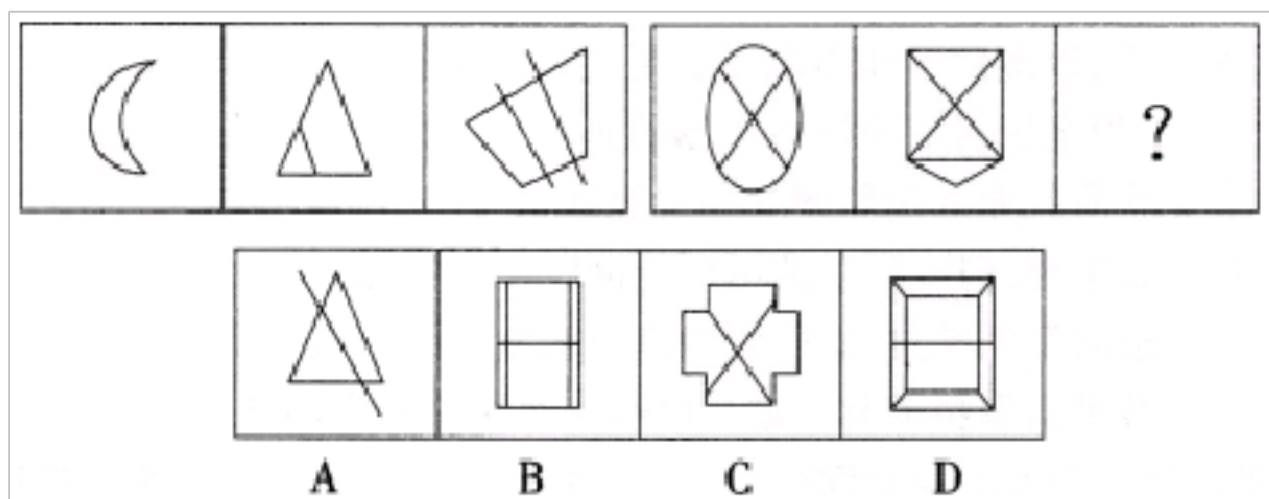


备考 2023 年辽宁省沈阳市公务员省考行政 职业能力测验真题一卷（含答案）


学校：_____ 班级：_____ 姓名：_____ 考号：_____

一、图形推理(6题)

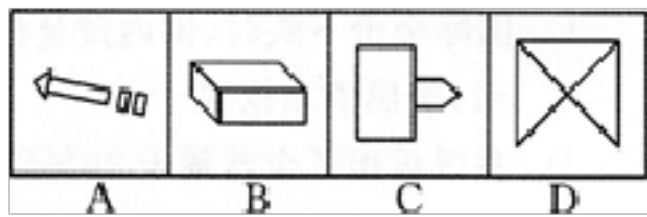
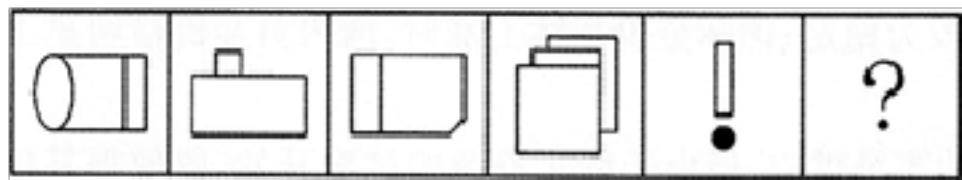
1.从所给的四个选项中，选择最合适的一个填入问号处，使之呈现一定的规律性：



2.从所给的四个选项中，选择最合适的一个填入问号处，使之呈现一定的规律性：

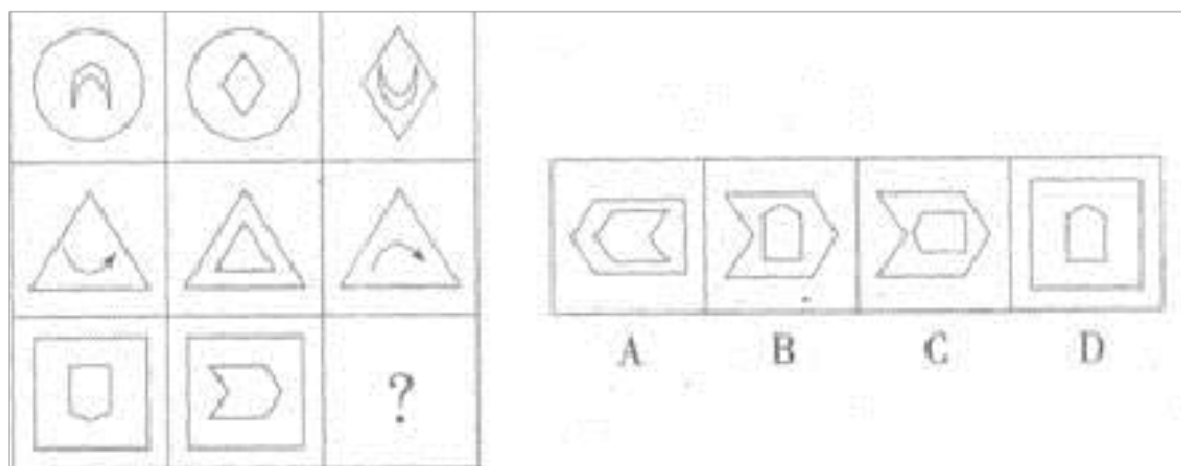


3.从所给的四个选项中，选择最合适的一个填入问号处，使之呈现一定的规律性：

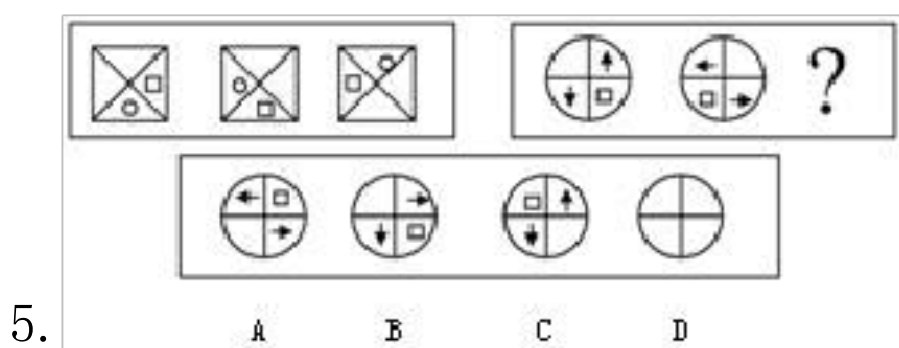


A.如上图示 B.如上图 C.如上图所示 D.如图

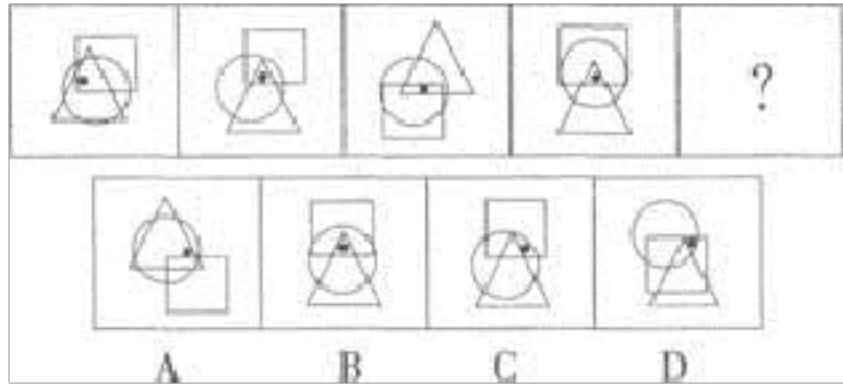
4.从所给的四个选项中，选择最合适的一个填入问号处，使之呈现一定的规律性：



A.①②④，③⑤⑥ B.①③⑥，②④⑤ C.①③⑤，②④⑥ D.①④⑤，②③⑥



5. 从所给的四个选项中，选择最合适的一个填入问号处，使之呈现一定的规律性。



二、定义判断(10题)

7. 行政强制措施：指行政机关在行政管理过程中，为制止违法行为、防止证据销毁、避免危害发生、控制危险扩大等情形，依法对公民的人身自由实施暂时性限制，或者对公民、法人或者其他组织的财物实施暂时性控制的行为。根据上述定义。下列属于行政强制措施的是（ ）

- A.公安机关在刑事诉讼中限令犯罪嫌疑人在规定的期限内不得离开住处或者指定的居所
- B.交通管理部门对某货车散落在高速公路上的西瓜进行及时清理
- C.公安消防部门为了阻止火势蔓延而拆除与着火处相连的房屋
- D.医疗机构为防止某精神病人病情发作伤害他人而将其强制约束

8. 行政成本：政府为了社会的公共管理和为公众提供公共服务付出的代价，包括直接行政成本和间接行政成本。

下列没有涉及行政成本的一项是（ ）。

- A.某政府部门为了提高工作效率合并机构、精简工作人员
- B.某区政府为应对私家车增多的问题，新建了两个地下公共停车场

- C.某商业银行为方便广大用户处理业务,耗费巨资开通了手机银行业务
- D.某公安局招聘交通协管员协助交警维护交通秩序

9. 浪漫主义,是运用丰富的想像、奔放的感情、奇特夸张的手法和瑰丽的辞采来描绘理想生活图景的创作手法。根据以上定义,下列作品不属于浪漫主义的作品是()。

- A.吴承恩小说《西游记》
- B.蒲松龄的小说《聊斋志异》描绘了许多美丽的狐仙
- C.李白的诗歌《梦游天姥吟留别》描写了奇特的神仙世界
- D.老舍的《骆驼祥子》、《茶馆》等作品描写了北京旧时代下层人民的生活

10.勾兑食品,指在食品里添加了那些不该有的添加剂、防腐剂勾兑,颠覆了原生态的食品

生产方式,可以用极高效方式。用最小的投入在最少的时间加工出色香味俱全的食品来。

根据上述定义。下列不属于勾兑食品的一项是:

- A.某品牌酱油的标签上,配料表里除了大豆、麸皮、小麦粉,还有多达5种食品添加剂,业内人士说其中好几种是防腐剂
- B.市场上发现一种老陈醋中,含有少许醋精的成分,经检验添加符合国家标准,不存在安全问题
- C.经有关部门检测“味千拉面汤底”共有5种半固态调味料,其中3种是

以“猪骨汤精”为主要原料

D.某学校学生吃完午饭后均出现呕吐、腹泻等现象，经查是该校食堂的菜品清洗不够干净。含有过多残留农药所致

11.

哥伦布大交换是一场东半球与西半球之间生物、农作物、人种、文化、传染病甚至思想观念的突发性交流。它是人类历史上的跨越种族的一件重要事件，引发各种生态上的巨大转变。根据上述定义，下列不属于哥伦布大交换的是：

- A.来自非洲的可可及亚洲的甘蔗成为拉丁美洲最主要的商业农作物
- B.西班牙人带去的天花，成为美洲原住民人口大幅缩减的主要原因
- C.北美早期的种植园引进的大量黑奴构成了现在的非裔美国人群体
- D.东印度群岛出产的香料因为可以制作腌制食品而改变了欧洲人的饮食习惯

12. 学习迁移即一种学习对另一种学习的影响。它广泛地存在于知识、技能、态度和行为规范的学习中。

下列属于学习迁移的是（ ）。

- A.小敏羽毛球打得很好，后来他准备学习网球，但网球的打法和羽毛球很不一样，因此他花了很长时间才学会
- B.小颖和小晨一起学习钢琴，小晨天赋很好，学得很快，为了帮助小颖，他经常陪着小颖一起练习，小颖也逐渐进步了

C.小羽的父母都是中医，受父母的熏陶，他从小就对中医感兴趣，并立志要报考中医专业

D.小元喜欢玩电脑游戏，经常玩到很晚，但是对学校里布置的计算机作业却不感兴趣，还常常逃课

13. 地役权发生在相邻土地关系中，是一种地产相邻权。它是用益物权的一种，指通过签订双方协定，利用他人的不动产，以提高自己不动产使用效益的权利。

根据上述定义，下列哪一项属于地役权？（ ）

A.小区居民为了方便，常常通过一个小超市进入小区

B.村民去田间劳作时抄近路，穿过农田旁边的洗煤厂

C.李某的房子在装修，他跟住在隔壁的表弟约定暂时住在表弟家里

D.按照约定，甲工厂向乙工厂支付适当费用，甲工厂人员可以经由乙工厂去上班

14.

再社会化指的是正常的社会化中断或失败后重新开始的社会化过程。特点是全面、迅速地改变原有的思想、价值体系和生活方式，接受新的社会化内容。根据上述定义，以下哪项涉及再社会化？

A.退休后的老王报名进了老年大学。开始系统学习书法

B.移居中国的史密斯夫妇随着时间的推移，越来越喜欢中国文化了

C.工作多年的王某考上了研究生，重新走进校园，他有种重回故里的感

觉

D.小刘因盗窃财物被送进了少管所，出来后他改过自新，自食其力

15. 诱饵效应”就是指人们对两个不相上下的选项进行选择时，因为第三个新选项(诱饵)的加入，会使某个旧选项显得更有吸引力。被“诱饵”帮助选项通常称为“目标”，而另一选项则被称为“竞争者”。

根据上述定义，以下属于“诱饵效应”的是：

A.某水果店。把散装的水果重新包装，制成礼品篮的形式很受顾客欢迎

B.某酒吧安排“服务员”上网与人聊天，以交朋友等理由为诱饵，诱骗他人至酒吧消费高价酒水

C.卖场里的帽子和毛衣是摆放在一起的，标签上标出的价格分别是：帽子49元，毛衣299元。最后还有一行字：帽子+毛衣=299元

D.货架摆放陈列，一些利润较大的商品大都摆放在和消费者视线平行的位置，这样能促进不少销售量

16.他感作用是指一种植物通过向体外分泌代谢过程中的化学物质，对其他植物产生直接或间接的影响。这种作用是种间关系的一部分，是生存竞争的一种特殊形式，种内关系也有此现象。

根据上述定义，下列选项不属于他感作用的是（ ）。

A.菊科植物是多年生灌木，叶子能分泌一种苯甲醛物质，对相邻的番茄的生长有强烈的抑制作用

B.沙漠上的一些植物在遇缺水胁迫时便产生自毒现象，从而利用有限的

水分，避耐干旱，保持该物种的生存和繁衍

C.一群蚱蜢中的各个个体取食同样的食物，虽然互不干扰，但每一个个体都对其他个体的取食造成负面影响

D.黑核桃树的树皮和果实含有氢化核桃酮，这种物质被雨水冲洗到土中，被氧化成核桃酮，并抑制其他植物的生长，故黑核桃树下几乎没有草本植物

三、常识判断(10题)

17.第 95 题 甲在首饰店看到一款式样很新颖的钻戒，要价 4500 元。她非常想买但又未带够钱，而该钻戒仅剩一枚。于是其与首饰店老板商定，先付 2000 元，让该店给她留下钻戒，第二天再来付足余款并取走钻戒。

孰料当晚首饰店发生盗窃案，该钻戒被盗。本案应如何处理？（ ）

A.应由金店承担风险，退回甲 2000 元

B.应由双方分担风险，金店不必退还 2000 元，甲也不必补足 2500 元

C.应由甲承担风险，补足余款 2500 元

D.应由双方分担风险，各自承担 2250 元

18. 水灾多发生在夏季雨多的时候，会严重威胁人民生命安全，造成巨大财产损失，并对社会经济发展产生深远的不良影响。下列水灾自救逃生方法中，不能采取的措施是：

A.发生水灾要第一时间游泳逃生，不能等待救援

B.洪水到来时，来不及转移的人员，要就近迅速向山坡、高地等转移

C.保存好尚能使用的通讯设备

D.如已被卷入洪水中，一定要尽可能抓住能漂浮的东西，寻找机会逃生

19.声音在哪个介质中传播最快？

A.空气

B.金属

C.玻璃

D.水

20. 人类选择月球作为探测宇宙星际航行的第一站的主要原因是
()。

A.探索月球的危险性小

B.月球上富含地球上稀缺的矿种，且分布广泛

C.月球是地球的卫星，是距离地球最近的天体

D.月球上有高真空、强辐射和失重环境，这是将来加工工业的理想场所

21. 下列关于武器装备的说法不正确的是：

A.武直-10 不具备隐身能力。但可以通过机身上的国产隐形涂料来降低
雷达和红外信号探测

B.中国第一艘航母“辽宁”号是一种可以提供军用飞机起飞和降落的军
舰

“空警—2000”预警机获国防科技进步一等奖，达到国际领先水平

D.歼。20 是一种雷达无法探测到的隐形战斗机

22. 关于古代礼俗，说法不正确的是：

A.古人把拜分为九种。最重要的是“稽首”

B.女子出嫁叫“归”，回家省亲叫归宁，而被夫家抛弃回归母亲家叫遣归

C.古人定盟，双方口含牲血或以血涂口旁，表示信誓，叫歃血

D.天子死叫“崩”，诸侯死叫“薨”，大夫死叫“不禄”，庶人死叫“死”

23. _____ ()。

A.梅子留酸软齿牙，芭蕉分绿与窗纱

B.花到岭南无月令，撞水撞粉透性灵

C.秋阴不散霜飞晚，留得枯荷听雨声

D.芳树无人花自落，春山一路鸟空啼

24. _____ 题行政协调的主要内容有 ()。

- | |
|--|
| <p>A. 协调工作中的人际关系</p> <p>B. 协调行政机关与外部环境的关系</p> <p>C. 协调行政机关横向部门之间的关系</p> <p>D. 协调上下级行政机关之间的纵向关系</p> |
|--|

25.居住在甲市甲区的公民，因走私被位于乙市乙区的海关扣留，该公民不服，应由下列哪个单位提起行政诉讼？()

A.甲市或乙市中级人民法院 B.甲区或乙区人民法院 C.甲区人民法院

26.法律规定当事人不服行政机关的具体行政行为,可以向人民法院起诉,也可以申请复议并由复议机关作最终裁决的,如果当事人既提起诉讼又申请复议,且法院和复议机关同时收到有关材料的,则应当()。

A.由复议机关管辖 B.由法院管辖 C.由法院与复议机关协商确定管辖的机关 D.由当事人选择管辖的机关

(10题)

27.

一个储油罐装有甲、丙两条输入管和乙、丁两条输出管。要注满储油罐,单开甲管需3天,单开丙管需5天。要输空油罐,单开乙管需4天,单开丁管需6天。现在罐内装有 $\frac{1}{6}$ 罐油,如果按甲、乙、丙、丁的顺序轮流各开1天,那么()天后油将注满。

A. $42 \times \frac{6}{7}$ B. $40 \times \frac{4}{7}$ C. $20 \times \frac{3}{7}$ D. $8 \times \frac{4}{7}$

28.一件商品相继两次分别按折扣率为10%和20%进行折扣,已知折扣后的售价为540元,那么折扣前的售价为:

A.600元 B.680元 C.720元 D.750元

29.张某下午六时多外出买菜,出门时看手表,发现表的时针和分针的夹角为 110° ,七时前回家时又看手表,发现时针和分针的夹角仍是 110° 。那么张某外出买菜用了多少分钟?

A.20分钟 B.30分钟 C.40分钟 D.50分钟

30.

以上内容仅为本文档的试下载部分，为可阅读页数的一半内容。如要下载或阅读全文，请访问：<https://d.book118.com/015311232133011034>